

آزمون‌های مبحثی و جامع + پاسخ‌های تشریحی

موج آزمون جامع فیزیک

رضا خالو، امیرعلی میری



انتشارات
گروه
انتشارات
گروه

آزمون فصل به فصل فیزیک ۱ | ۳۴ | آزمون فصل به فصل فیزیک ۲ | ۳۷ | آزمون فصل به فصل فیزیک ۳ | ۵۰ | آزمون جامع | ۲۴

به نام خدا

پرسش: چرا کتاب موج آزمون فیزیک جامع رو نوشتین؟

پاسخ: با توجه به تجربه‌های تدریس ما، دانش‌آموزان بعد از زدن تست‌های کتاب‌های تستی، نیاز به ارزیابی خود به کمک آزمون دارن. واسه همین تمام مباحث کتاب‌های دهم و یازدهم و دوازدهم رو در قالب آزمون‌های کوتاه در این کتاب آوردیم.

پرسش: آزمون‌های این کتاب چه ویژگی‌هایی دارن که به شما اطمینان می‌ده کتاب برای دانش‌آموزان مفیده؟

پاسخ: در این آزمون‌ها مباحث کتاب درسی به صورت ۹۹ آزمون ۱۰ تستی ارائه شده که دانش‌آموز در یک زمان کوتاه بتونه هر آزمون رو حل کنه، البته برای مباحث‌های مهم‌تر، تعداد آزمون‌ها بیشتره و آزمون‌های مرحله‌ای سفت‌تر می‌شن اما در سطح کنکور سراسری اند.

گفتن این نکته ضروره که سطح آزمون‌ها در سطح کنکور سراسریه البته مباحث‌هایی که در کنکور ساده‌ترن اینها هم ساده هستن و مباحث‌هایی که سؤالات آن‌ها در کنکور پیچیده‌تره اینها هم در همون سطحه.

پرسش: همه آزمون‌ها ۱۰ تستی هستن؟

پاسخ: نه، هر فصل دو آزمون جامع ۵ تستی داره (البته در فصل یک، آزمون‌های جامع ۱۰ تستی اند.) و در انتهای کتاب هشت آزمون ترمی و چهار آزمون جامع پایه و دوازدهم و یک آزمون ترکیبی دهم و دوازدهم و پنج آزمون ۳۰ تستی شبیه کنکور و همچنین دو کنکور تجربی دافل و خارج ۱۴۰۰ اومده.

پرسش: همه سؤالات آزمون‌ها تألیفی هستن؟

پاسخ: نه، از شبیه‌سازی سؤالات کنکور و سؤالات کتاب درسی استفاده کردیم و در جاهایی که تست نمونه وجود نداشت، تست‌های تألیفی آوردیم و از کنکورهای آزمایشی هم استفاده کردیم.

پرسش: فب بریم سراغ پاسخ‌ها، اون‌ها رو چه‌جوری نوشتین؟

پاسخ: اول باید بگیم که تحلیل آزمون از خود آزمون برای دانش‌آموزا مهم‌تر و بارزتره، با علم به این موضوع، در

پاسخ‌ها کمال‌گشاده‌دستی رو به کار بردیم و بخش زیادی از کتاب به پاسخ‌ها اختصاص داده شده. در **نیم‌نگاه** تمام

نکات درسی مربوط به تست رو بیان کردیم، در پاسخ هر تست مشابه کنکور، خود تست کنکور قرار گرفته و در پرفی از

تست‌ها به **جزای باسؤال** آوردیم که در اون تست رو از یک نگاه دیگه طرح کردیم و در یه جاهایی هم به **یادآوری**

و **جمع‌بندی** مطالب پرداختیم، البته هر جا که برای تست راه‌حل ساده‌تر و سریع‌تری بوده اون راه‌حل رو به صورت

میانبر برای دانش‌آموز بیان کردیم.

برای درک بهتر، پاسخ‌ها رو مرحله‌ای حل کردیم و گام به گام جلو رفتیم و سطح سؤالات رو در پاسخ اون‌ها به صورت A (ساده)، B (متوسط) و C (دشوار) مشخص کرده‌ایم.

پرسش: کتاب درسامه ندره؟

پاسخ: چون کتاب به صورت آزمونه یه سری الگوهای یادآوری به صورت نمودار درفتی در ابتدای هر فصل هم به صورت QR Code اومده و هم در سایت نشر الگو به آدرس www.olgoobooks.ir قرار داره.

پرسش: سؤال آفر، انتظار شما از همکاران و دانش آموزانی که از کتاب استفاده می‌کنن چیه؟

پاسخ: از همکاران و اساتید گرامی و هم‌پنین دانش آموزان عزیز انتظار داریم که هر گونه اشکال و تقدی که به کتاب دارن رو از طریق کانال https://t.me/physics_olgoo و سایت نشر الگو www.olgoobooks.ir به ما منتقل کنن تا با سوهان نقد آن‌ها ناهمواری‌های کتاب صیقل داده شود.

در پایان لازم است از تلاش صمیمانه کارکنان نشر الگو سپاسگزاری کنیم، در وامد ویرایش فانم‌ها زهره نوری و زهرا امیروار و هم‌پنین آقای ممسن شعبان شمیرانی که ویرایش این کتاب بی‌یاری ایشان امکان‌پذیر نبود، در وامد مروفخینی از فانم‌ها فاضله ممسنی و مریم اممردی و هم‌پنین سرکار فانم سکینه مقار مدیر وامد فنی و ویرایش قدردانی می‌کنیم.

رضا فالو - امیرعلی میری

فهرست

آزمون‌های مرحله‌ای و جامع

فصل چهارم: دما و گرما

- آزمون ۲۴ (صفحه ۸۳ تا ۹۱ کتاب درسی) ۳۶
آزمون ۲۵ (صفحه ۸۸ تا ۹۵ کتاب درسی) ۳۷
آزمون ۲۶ (صفحه ۸۸ تا ۹۵ کتاب درسی) ۳۸
آزمون ۲۷ (صفحه ۹۶ تا ۱۰۲ کتاب درسی) ۳۹
آزمون ۲۸ (صفحه ۹۶ تا ۱۰۲ کتاب درسی) ۴۰
آزمون ۲۹ (صفحه ۸۸ تا ۱۰۲ کتاب درسی) ۴۱
آزمون ۳۰ (صفحه ۱۰۳ تا ۱۱۱ کتاب درسی) ۴۲
آزمون ۳۱ (صفحه ۱۰۳ تا ۱۱۱ کتاب درسی) ۴۳
آزمون ۳۲ (صفحه ۱۰۳ تا ۱۲۰ کتاب درسی) ۴۴
آزمون ۳۳ (جامع (۱)) ۴۵
آزمون ۳۴ (جامع (۲)) ۴۷

فصل پنجم: الکتریسیته ساکن

- آزمون ۳۵ (صفحه ۱ تا ۹ کتاب درسی) ۵۰
آزمون ۳۶ (صفحه ۵ تا ۹ کتاب درسی) ۵۱
آزمون ۳۷ (صفحه ۵ تا ۹ کتاب درسی) ۵۲
آزمون ۳۸ (صفحه ۱۰ تا ۱۹ کتاب درسی) ۵۳
آزمون ۳۹ (صفحه ۱۰ تا ۱۹ کتاب درسی) ۵۴
آزمون ۴۰ (صفحه ۱۰ تا ۱۹ کتاب درسی) ۵۶
آزمون ۴۱ (صفحه ۲۰ تا ۲۴ کتاب درسی) ۵۷
آزمون ۴۲ (صفحه ۲۰ تا ۲۴ کتاب درسی) ۵۸
آزمون ۴۳ (صفحه ۲۰ تا ۲۷ کتاب درسی) ۵۹
آزمون ۴۴ (صفحه ۲۸ تا ۳۴ کتاب درسی) ۶۱
آزمون ۴۵ (صفحه ۲۸ تا ۳۴ کتاب درسی) ۶۲
آزمون ۴۶ (جامع (۱)) ۶۳
آزمون ۴۷ (جامع (۲)) ۶۴

فصل اول: فیزیک و اندازه‌گیری

- آزمون ۱ (صفحه ۱ تا ۱۵ کتاب درسی) ۲
آزمون ۲ (صفحه ۱ تا ۱۵ کتاب درسی) ۲
آزمون ۳ (صفحه ۱۶ تا ۲۲ کتاب درسی) ۳
آزمون ۴ (صفحه ۱ تا ۲۲ کتاب درسی) ۴
آزمون ۵ (جامع (۱)) ۶
آزمون ۶ (جامع (۲)) ۷

فصل دوم: ویژگی‌های فیزیکی مواد

- آزمون ۷ (صفحه ۲۳ تا ۳۱ کتاب درسی) ۱۰
آزمون ۸ (صفحه ۳۲ تا ۳۴ کتاب درسی) ۱۱
آزمون ۹ (صفحه ۳۲ تا ۳۵ کتاب درسی) ۱۲
آزمون ۱۰ (صفحه ۳۲ تا ۳۵ کتاب درسی) ۱۳
آزمون ۱۱ (صفحه ۳۶ تا ۳۹ کتاب درسی) ۱۴
آزمون ۱۲ (صفحه ۳۶ تا ۳۹ کتاب درسی) ۱۵
آزمون ۱۳ (صفحه ۴۰ تا ۵۲ کتاب درسی) ۱۷
آزمون ۱۴ (جامع (۱)) ۱۸
آزمون ۱۵ (جامع (۲)) ۲۰

فصل سوم: کار، انرژی و توان

- آزمون ۱۶ (صفحه ۵۳ تا ۶۰ کتاب درسی) ۲۴
آزمون ۱۷ (صفحه ۶۱ تا ۷۲ کتاب درسی) ۲۵
آزمون ۱۸ (صفحه ۶۱ تا ۷۲ کتاب درسی) ۲۶
آزمون ۱۹ (صفحه ۶۱ تا ۷۲ کتاب درسی) ۲۷
آزمون ۲۰ (صفحه ۶۱ تا ۷۲ کتاب درسی) ۲۸
آزمون ۲۱ (صفحه ۷۳ تا ۸۲ کتاب درسی) ۲۹
آزمون ۲۲ (جامع (۱)) ۳۰
آزمون ۲۳ (جامع (۲)) ۳۲

فصل ششم: جریان الکتریکی و مدارهای جریان مستقیم

- آزمون ۴۸ (صفحه ۴۰ تا ۴۶ کتاب درسی) ۶۸
- آزمون ۴۹ (صفحه ۴۶ تا ۵۳ کتاب درسی) ۶۹
- آزمون ۵۰ (صفحه ۵۳ تا ۵۵ کتاب درسی) ۷۰
- آزمون ۵۱ (صفحه ۵۶ تا ۵۷ کتاب درسی) ۷۱
- آزمون ۵۲ (صفحه ۵۶ تا ۵۹ کتاب درسی) ۷۲
- آزمون ۵۳ (صفحه ۵۶ تا ۵۹ کتاب درسی) ۷۳
- آزمون ۵۴ (صفحه ۶۰ تا ۶۱ کتاب درسی) ۷۴
- آزمون ۵۵ (صفحه ۶۰ تا ۶۱ کتاب درسی) ۷۶
- آزمون ۵۶ (صفحه ۵۶ تا ۶۱ کتاب درسی) ۷۷
- آزمون ۵۷ (صفحه ۵۶ تا ۶۱ کتاب درسی) ۷۸
- آزمون ۵۸ (صفحه ۵۶ تا ۶۱ کتاب درسی) ۸۰
- آزمون ۵۹ (جامع (۱)) ۸۱
- آزمون ۶۰ (جامع (۲)) ۸۳

فصل هشتم: حرکت بر خط راست

- آزمون ۷۲ (صفحه ۱ تا ۱۰ کتاب درسی) ۱۰۲
- آزمون ۷۳ (صفحه ۱ تا ۱۰ کتاب درسی) ۱۰۳
- آزمون ۷۴ (صفحه ۱۰ تا ۱۳ کتاب درسی) ۱۰۴
- آزمون ۷۵ (صفحه ۱۰ تا ۱۳ کتاب درسی) ۱۰۵
- آزمون ۷۶ (صفحه ۱۳ تا ۱۵ کتاب درسی) ۱۰۶
- آزمون ۷۷ (صفحه ۱۵ تا ۲۱ کتاب درسی) ۱۰۷
- آزمون ۷۸ (صفحه ۱۵ تا ۲۱ کتاب درسی) ۱۰۸
- آزمون ۷۹ (صفحه ۱۵ تا ۲۱ کتاب درسی) ۱۰۹
- آزمون ۸۰ (صفحه ۱۵ تا ۲۱ کتاب درسی) ۱۱۰
- آزمون ۸۱ ۱۱۱
- آزمون ۸۲ ۱۱۳
- آزمون ۸۳ ۱۱۴
- آزمون ۸۴ (جامع (۱)) ۱۱۶
- آزمون ۸۵ (جامع (۲)) ۱۱۷

فصل هفتم: مغناطیس و القای الکترومغناطیسی

- آزمون ۶۱ (صفحه ۶۶ تا ۷۵ کتاب درسی) ۸۶
- آزمون ۶۲ (صفحه ۶۶ تا ۷۵ کتاب درسی) ۸۷
- آزمون ۶۳ (صفحه ۶۶ تا ۷۵ کتاب درسی) ۸۸
- آزمون ۶۴ (صفحه ۷۶ تا ۸۴ کتاب درسی) ۸۹
- آزمون ۶۵ (صفحه ۷۶ تا ۸۴ کتاب درسی) ۹۱
- آزمون ۶۶ (صفحه ۸۵ تا ۹۰ کتاب درسی) ۹۲
- آزمون ۶۷ (صفحه ۸۷ تا ۹۲ کتاب درسی) ۹۳
- آزمون ۶۸ (صفحه ۸۷ تا ۹۲ کتاب درسی) ۹۴
- آزمون ۶۹ (صفحه ۹۳ تا ۹۹ کتاب درسی) ۹۶
- آزمون ۷۰ (جامع (۱)) ۹۷
- آزمون ۷۱ (جامع (۲)) ۹۹

فصل نهم: دینامیک

- آزمون ۸۶ (صفحه ۲۸ تا ۳۳ کتاب درسی) ۱۲۲
- آزمون ۸۷ (صفحه ۳۳ تا ۳۶ کتاب درسی) ۱۲۳
- آزمون ۸۸ (صفحه ۴۱ تا ۴۳ کتاب درسی) ۱۲۴
- آزمون ۸۹ (صفحه ۳۷ تا ۴۳ کتاب درسی) ۱۲۵
- آزمون ۹۰ (صفحه ۳۷ تا ۴۳ کتاب درسی) ۱۲۶
- آزمون ۹۱ (صفحه ۳۷ تا ۴۳ کتاب درسی) ۱۲۷
- آزمون ۹۲ (صفحه ۴۳ تا ۴۴ کتاب درسی) ۱۲۸
- آزمون ۹۳ (صفحه ۴۳ تا ۴۴ کتاب درسی) ۱۲۹
- آزمون ۹۴ (صفحه ۴۴ تا ۴۶ کتاب درسی) ۱۳۰
- آزمون ۹۵ (صفحه ۴۴ تا ۴۹ کتاب درسی) ۱۳۱
- آزمون ۹۶ (جامع (۱)) ۱۳۲
- آزمون ۹۷ (جامع (۲)) ۱۳۴

فصل دهم: نوسان و امواج

آزمون ۹۸ (صفحه ۵۴ تا ۵۶ کتاب درسی).....	۱۳۸
آزمون ۹۹ (صفحه ۵۴ تا ۵۶ کتاب درسی).....	۱۳۹
آزمون ۱۰۰ (صفحه ۵۷ تا ۵۹ کتاب درسی).....	۱۴۰
آزمون ۱۰۱ (صفحه ۵۷ تا ۵۹ کتاب درسی).....	۱۴۱
آزمون ۱۰۲ (صفحه ۵۷ تا ۵۹ کتاب درسی).....	۱۴۲
آزمون ۱۰۳ (صفحه ۵۸ تا ۶۰ کتاب درسی).....	۱۴۳
آزمون ۱۰۴ (صفحه ۵۳ تا ۶۰ کتاب درسی).....	۱۴۴
آزمون ۱۰۵ (صفحه ۶۱ تا ۶۶ کتاب درسی).....	۱۴۶
آزمون ۱۰۶ (صفحه ۶۱ تا ۶۶ کتاب درسی).....	۱۴۷
آزمون ۱۰۷ (صفحه ۶۴ و ۶۵ کتاب درسی).....	۱۴۸
آزمون ۱۰۸ (صفحه ۶۶ تا ۶۸ کتاب درسی).....	۱۵۰
آزمون ۱۰۹ (صفحه ۶۹ تا ۷۶ کتاب درسی).....	۱۵۱
آزمون ۱۱۰ (صفحه ۶۹ تا ۷۶ کتاب درسی).....	۱۵۲
آزمون ۱۱۱ (صفحه ۶۱ تا ۷۶ کتاب درسی).....	۱۵۳
آزمون ۱۱۲ (صفحه ۷۶ تا ۸۸ کتاب درسی).....	۱۵۵
آزمون ۱۱۳ (صفحه ۷۶ تا ۸۸ کتاب درسی).....	۱۵۶
آزمون ۱۱۴ (صفحه ۷۶ تا ۸۸ کتاب درسی).....	۱۵۸
آزمون ۱۱۵ (جامع (۱)).....	۱۵۹
آزمون ۱۱۶ (جامع (۲)).....	۱۶۱

فصل دوازدهم: آزمون‌های جامع

آزمون ۱۲۲ (فیزیک دهم (۱)).....	۱۷۲
آزمون ۱۲۳ (فیزیک دهم (۲)).....	۱۷۳
آزمون ۱۲۴ (ترکیبی دهم و دوازدهم).....	۱۷۵
آزمون ۱۲۵ (فیزیک یازدهم (۱)).....	۱۷۶
آزمون ۱۲۶ (فیزیک یازدهم (۲)).....	۱۷۸
آزمون ۱۲۷ (فیزیک پایه (۱)).....	۱۷۹
آزمون ۱۲۸ (فیزیک پایه (۲)).....	۱۸۲
آزمون ۱۲۹ (ترم اول فیزیک دوازدهم (۱)).....	۱۸۴
آزمون ۱۳۰ (ترم اول فیزیک دوازدهم (۲)).....	۱۸۶
آزمون ۱۳۱ (ترم دوم فیزیک دوازدهم (۱)).....	۱۸۸
آزمون ۱۳۲ (ترم دوم فیزیک دوازدهم (۲)).....	۱۹۰
آزمون ۱۳۳ (فیزیک دوازدهم (۱)).....	۱۹۲
آزمون ۱۳۴ (فیزیک دوازدهم (۲)).....	۱۹۵
آزمون ۱۳۵ (مطابق با کنکور سراسری).....	۱۹۸
آزمون ۱۳۶ (مطابق با کنکور سراسری).....	۲۰۱
آزمون ۱۳۷ (مطابق با کنکور سراسری).....	۲۰۵
آزمون ۱۳۸ (مطابق با کنکور سراسری).....	۲۰۸
آزمون ۱۳۹ (مطابق با کنکور سراسری).....	۲۱۲
آزمون ۱۴۰ (سراسری ۱۴۰۰ - داخل تجربی).....	۲۱۶
آزمون ۱۴۱ (سراسری ۱۴۰۰ - خارج تجربی).....	۲۱۹

فصل یازدهم: آشنایی با فیزیک اتمی و هسته‌ای

آزمون ۱۱۷ (صفحه ۹۵ تا ۱۱۱ کتاب درسی).....	۱۶۴
آزمون ۱۱۸ (صفحه ۹۵ تا ۱۱۱ کتاب درسی).....	۱۶۴
آزمون ۱۱۹ (صفحه ۱۱۲ تا ۱۲۱ کتاب درسی).....	۱۶۶
آزمون ۱۲۰ (جامع (۱)).....	۱۶۶
آزمون ۱۲۱ (جامع (۲)).....	۱۶۸

فصل سیزدهم: پاسخ‌های تشریحی

• پاسخ‌های تشریحی فیزیک دهم

پاسخ‌های تشریحی فصل اول.....	۲۲۴
پاسخ‌های تشریحی فصل دوم.....	۲۳۴
پاسخ‌های تشریحی فصل سوم.....	۲۵۶
پاسخ‌های تشریحی فصل چهارم.....	۲۷۴

فصل چهاردهم: سوالات کنکور سراسری

- آزمون ۱۴۲ (سراسری ۱۴۰۱ - داخل تجربی) ۵۸۳
- آزمون ۱۴۳ (سراسری ۱۴۰۱ - خارج تجربی) ۵۸۶
- آزمون ۱۴۴ (سراسری ۱۴۰۲ - داخل تجربی) ۵۹۰
- آزمون ۱۴۵ (سراسری ۱۴۰۲ نوبت دوم - داخل تجربی) ۵۹۳
- پاسخنامه کلیدی ۵۹۶

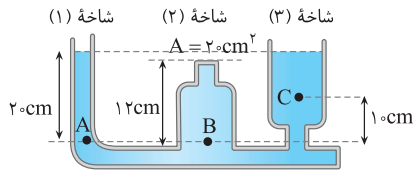
• پاسخ‌های تشریحی فیزیک یازدهم

- پاسخ‌های تشریحی فصل پنجم ۲۹۸
- پاسخ‌های تشریحی فصل ششم ۳۳۴
- پاسخ‌های تشریحی فصل هفتم ۳۷۲

• پاسخ‌های تشریحی فیزیک دوازدهم

- پاسخ‌های تشریحی فصل هشتم ۴۰۲
- پاسخ‌های تشریحی فصل نهم ۴۳۳
- پاسخ‌های تشریحی فصل دهم ۴۵۸
- پاسخ‌های تشریحی فصل یازدهم ۵۰۱
- پاسخ‌های تشریحی فصل دوازدهم ۵۱۱

۷۹ در شکل مقابل چگالی مایع درون ظرف 1200 kg/m^3 است. چه تعداد از گزاره‌های زیر درست است؟ ($g = 10 \text{ N/kg}$)



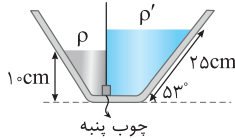
الف) فشار در نقاط A و B با هم برابر است.

ب) نیروی وارد بر انتهای لوله شاخه (2) از طرف مایع برابر $1/92 \text{ N}$ است.

پ) اختلاف فشار بین نقاط B و C برابر 1000 Pa است.

- (۱) صفر
(۲) ۱
(۳) ۲
(۴) ۳

۸۰ در شکل روبه‌رو یک چوب‌پنبه استوانه‌ای شکل در سوراخ بین دو طرف ظرف قرار گرفته و در تعادل است. اگر $\rho = 1/2 \text{ g/cm}^3$ باشد، چگالی ρ' چند g/L است؟ (اصطکاک ناچیز است، $\sin 53^\circ = 4/5$)



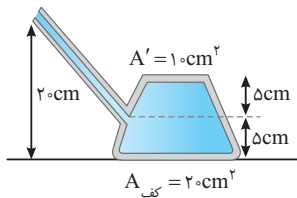
- (۱) ۰/۶
(۲) ۰/۸
(۳) ۸۰۰
(۴) ۶۰۰

آزمون ۹ فشار شاره‌ها - لوله U شکل (۱)

۸۱ در یک ظرف، مایعی به چگالی $1/5 \text{ g/cm}^3$ ریخته شده است و فشار مایع در کف ظرف 150 kPa است. فشار مایع در فاصله 10 cm از کف ظرف چند کیلوپاسکال است؟ ($g = 10 \text{ N/kg}$)

- (۱) $148/5$ (۲) $149/5$ (۳) $147/5$ (۴) $146/5$

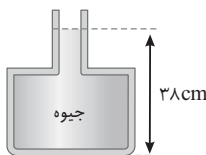
۸۲ در شکل روبه‌رو 4 kg مایع به چگالی 800 kg/m^3 درون ظرف ریخته شده است. نیروی وارد بر کف ظرف چند نیوتون است؟ ($g = 10 \text{ N/kg}$, $P_0 = 10^5 \text{ Pa}$)



- (۱) $3/2$ (۲) $100/8$ (۳) $203/2$ (۴) $1/6$

۸۳ دو مایع A و B به چگالی‌های $\rho_A = 1/6 \text{ g/cm}^3$ و $\rho_B = 0/8 \text{ g/cm}^3$ را در ظرفی استوانه‌ای ریخته و با هم مخلوط می‌کنیم. اگر فشار وارد بر کف ظرف از طرف مخلوط دو مایع 4800 Pa و ارتفاع مایع مخلوط در ظرف 45 cm باشد، حجم مایع A در مخلوط چند برابر حجم مایع B است؟

- (۱) $1/3$ (۲) ۳ (۳) $1/2$ (۴) ۲

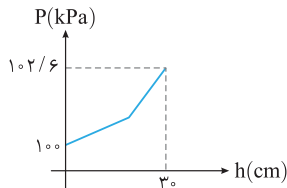


۸۴ در شکل زیر اگر بیشینه نیروی قابل تحمل کف ظرف از طرف جیوه $64/8 \text{ N}$ باشد، حداکثر چند گرم جیوه می‌توان به جیوه درون ظرف اضافه کرد تا ظرف شکسته نشود؟

($10 \text{ cm}^2 = 1 \text{ سطح قسمت بالایی ظرف} = 4 \text{ سطح کف ظرف}$, $\rho_{Hg} = 13500 \text{ kg/m}^3$ و $g = 10 \text{ m/s}^2$ است.)

- (۱) ۱۰ (۲) ۲۵ (۳) $337/5$ (۴) $345/2$

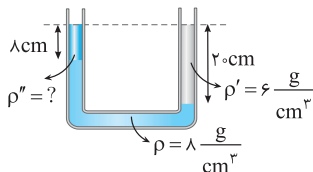
۸۵ در یک ظرف استوانه‌ای مقداری آب و روغن وجود دارد و نمودار فشار برحسب عمق از سطح آزاد مایع به صورت زیر است. ارتفاع آب درون ظرف چند سانتی‌متر است؟



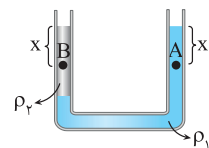
($g = 10 \text{ N/kg}$, $\rho_{\text{روغن}} = 800 \text{ kg/m}^3$, $\rho_{\text{آب}} = 1000 \text{ kg/m}^3$)

- (۱) ۲۰ (۲) ۱۸ (۳) ۱۰ (۴) ۱۲

۸۶ در شکل روبه‌رو، سه مایع در لوله U شکل در حالت تعادل هستند. چگالی ρ'' چند kg/m^3 است؟

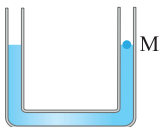


- (۱) ۱ (۲) ۳۰۰۰ (۳) ۲ (۴) ۲۰۰۰



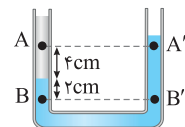
۸۷ با توجه به شکل روبه‌رو اگر فشار در نقطه‌های A و B به ترتیب P_A و P_B باشد، کدام گزینه درست است؟

- (۱) $\rho_1 > \rho_2, P_A = P_B$
 (۲) $\rho_1 > \rho_2, P_A < P_B$
 (۳) $\rho_1 > \rho_2, P_A > P_B$
 (۴) $\rho_1 > \rho_2, P_A = P_B$



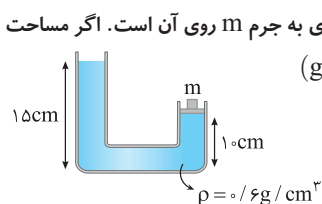
۸۸ در شکل روبه‌رو در لوله U شکل، آب ریخته شده و نقطه M روی لوله نشانه‌گذاری شده است. اگر در شاخه سمت چپ لوله، روی آب به ارتفاع ۱۰ سانتی‌متر نفت بریزیم، در لوله مقابل، سطح آب چند سانتی‌متر از نقطه M بالاتر می‌رود؟

- (۱) ۸
 (۲) ۴
 (۳) ۲
 (۴) ۶



۸۹ در شکل روبه‌رو مایع‌ها در حال تعادل‌اند، اگر اختلاف فشار بین نقاط A و B برابر P و اختلاف فشار بین نقاط A' و B' برابر P' باشد، P' - P برابر کدام گزینه است؟

- (۱) ۲۴۰ (g = ۱۰ N/kg)
 (۲) ۴۸۰
 (۳) ۷۲۰
 (۴) ۹۶۰



۹۰ در شکل روبه‌رو پیستونی با جرم ناچیز و بدون اصطکاک در دهانه شاخه سمت راست قرار دارد و وزنه‌ای به جرم m روی آن است. اگر مساحت سطح مقطع لوله در دو شاخه 5cm^2 و مجموعه در تعادل باشد، m چند گرم است؟ (g = ۱۰ N/kg)

- (۱) ۱۰
 (۲) ۱۵
 (۳) ۲۰
 (۴) ۲۵

فشار شاره‌ها - لوله U شکل (۲)

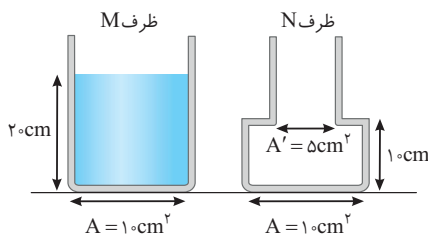
آزمون ۱۰

۹۱ اگر فشار در عمق ۵۰cm از یک مایع، دو برابر فشار روی سطح یک مایع باشد، فشار در عمق ۳۰cm از این مایع چند برابر فشار در عمق ۲۰ سانتی‌متری از آن است؟

- (۱) $\frac{21}{20}$
 (۲) $\frac{8}{7}$
 (۳) $\frac{17}{16}$
 (۴) $\frac{3}{2}$

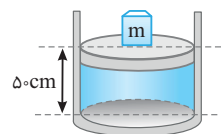
۹۲ دو ظرف استوانه‌ای A و B در اختیار داریم و در هر دو ظرف تا ارتفاع h آب ریخته‌ایم. اگر مساحت سطح مقطع طرف B، ۲۰٪ بزرگ‌تر از مساحت سطح مقطع طرف A باشد، فشار وارد بر کف و نیروی وارد بر کف از طرف مایع به ترتیب از راست به چپ در ظرف B چند برابر طرف A است؟

- (۱) $1/2$ و $1/2$
 (۲) $\frac{5}{6}$ و $\frac{5}{6}$
 (۳) ۱ و $1/2$
 (۴) $1/2$ و ۱



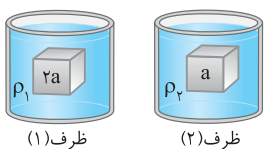
۹۳ در شکل روبه‌رو، اگر جرم هر دو ظرف یکسان بوده و تمام آب درون ظرف M را در ظرف N خالی کنیم، به ترتیب از راست به چپ فشار وارد بر سطح میز و نیروی وارد بر کف ظرف چند برابر می‌شود؟

- (۱) ۱، ۱
 (۲) $\frac{3}{2}, \frac{3}{2}$
 (۳) $1, \frac{3}{2}$
 (۴) $\frac{3}{2}, 1$



۹۴ در شکل مقابل یک پیستون با جرم و اصطکاک ناچیز بر سطح آب درون استوانه‌ای قرار دارد و وزنه‌ای به جرم m روی آن قرار گرفته است. ارتفاع آب درون ظرف ۵cm و مساحت قاعده آن 40cm^2 است. اگر فشار وارد بر کف ظرف $1.3 \times 10^5 \text{Pa}$ باشد، m چند کیلوگرم است؟ (g = ۱۰ N/kg, $P_0 = 1.0^5 \text{Pa}$, $\rho_{\text{آب}} = 1\text{g/cm}^3$)

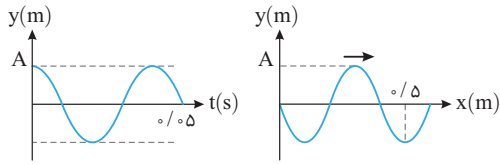
- (۱) ۲۰
 (۲) ۴۰
 (۳) ۶۰
 (۴) ۱۰۰



۹۵ در شکل روبه‌رو طول ضلع مکعب درون ظرف (۱) دو برابر طول ضلع مکعب درون ظرف (۲) است. اگر اختلاف نیروی وارد بر سطح بالا و پایین مکعب‌ها با یکدیگر برابر باشد، $\frac{\rho_2}{\rho_1}$ برابر کدام گزینه است؟

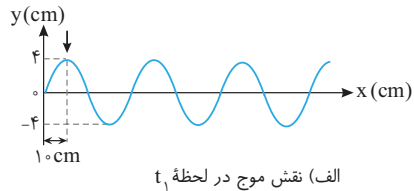
- (۱) ۴
 (۲) $\frac{1}{4}$
 (۳) ۸
 (۴) $\frac{1}{8}$

۱۱۴۱ در شکل‌های زیر نمودار مکان - زمان یک ذره از محیط و نمودار نقش موج آن در یک لحظه رسم شده است. تندی انتشار موج در محیط چند متر بر ثانیه است؟

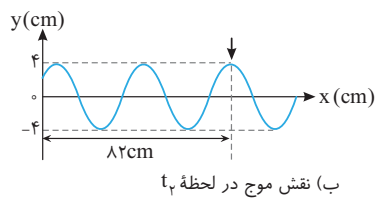


- ۵ (۱)
- ۷/۵ (۲)
- ۸ (۳)
- ۱۰ (۴)

۱۱۴۲ شکل‌های روبه‌رو، نمودار جابه‌جایی - مکان (نقش موج) موجی را در دو لحظه t_1 و t_2 نشان می‌دهد که در یک محیط کشسان در جهت مثبت محور X در حال پیشروی است. علامت پیکان، یک قله موج را در این دو لحظه نشان می‌دهد. اگر $t_2 - t_1 = 0.125$ s، دوره نوسان موج چند ثانیه است؟

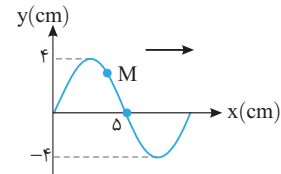


- ۳ (۱)
- ۲ (۲)
- ۲ (۳)
- ۱۵ (۴)
- ۷/۵ (۴)



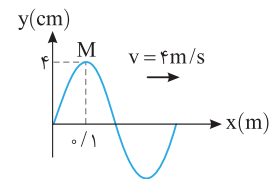
۱۱۴۳ نقش یک موج عرضی که در یک طناب در حال انتشار است، مطابق شکل روبه‌روست. مسافتی که ذره M در مدت 0.25 s طی می‌کند برابر 8 cm است. تندی انتشار موج چند متر بر ثانیه است؟

- ۲ (۲)
- ۴ (۱)
- ۲۰ (۳)

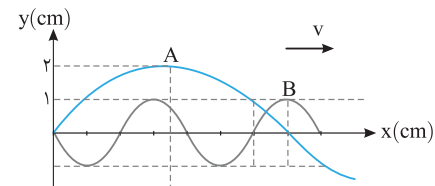


۱۱۴۴ شکل روبه‌رو نقش یک موج در یک ریسمان کشیده شده را در لحظه $t = 0$ نشان می‌دهد. سرعت نوسان ذره M در لحظه $t = \frac{1}{8}$ s چند متر بر ثانیه است؟


- ۴π (۲)
- ۴π (۳)
- ۵ (۱)
- ۵ (۴)



۱۱۴۵ در شکل زیر نمودار جابه‌جایی - مکان (نقش موج) دو موج عرضی که در یک محیط منتشر می‌شوند، رسم شده است. مقدار متوسط آهنگ انتقال انرژی موج A چند برابر موج B است؟



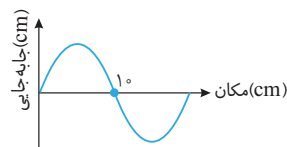
- ۱۶ (۱)
- ۴۹ (۲)
- ۸ (۳)
- ۴۹ (۴)



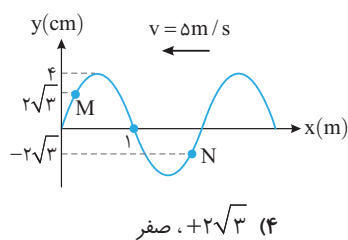
بررسی نمودارهای موج

آزمون ۱۰۷

۱۱۴۶ نقش یک موج به صورت روبه‌رو است که چشمه موج در مبدأ مختصات قرار دارد. اگر در این لحظه سرعت ذره A روی موج، منفی و حرکت آن تندشونده باشد، کدام گزینه می‌تواند مکان نقطه A باشد؟

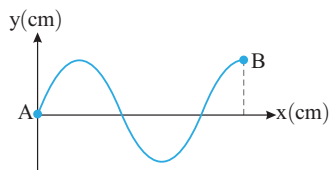


- $x_A = 2$ cm (۱)
- $x_A = 17$ cm (۳)
- $x_A = 7$ cm (۲)
- $x_A = 17$ cm (۴)



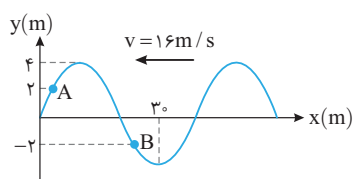
۱۱۴۷ در شکل روبه‌رو، تصویر یک موج عرضی که با تندی 5 m/s در یک ریسمان کشیده شده و در خلاف جهت محور x ها در حال پیشروی است در لحظه $t = 0$ رسم شده است. مکان نقطه M و بزرگی شتاب N ، در لحظه $t = \frac{1}{15} \text{ s}$ به ترتیب از راست به چپ چند سانتی‌متر و چند متر بر مجذور ثانیه است؟ $(\pi^2 = 10)$

(۱) $4, +2\sqrt{3}$ (۲) صفر، ۴ (۳) صفر، صفر (۴) $2\sqrt{3}, +$ صفر



۱۱۴۸ در شکل زیر، 5 s طول می‌کشد تا موج از نقطه A به نقطه B برسد. دوره نوسان ذرات موج چند ثانیه است؟

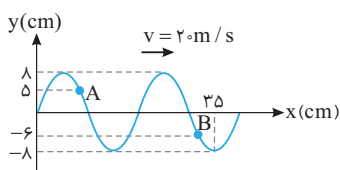
(۱) ۲ (۲) ۴ (۳) ۵ (۴) ۶



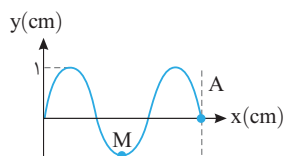
۱۱۴۹ شکل روبه‌رو، تصویر یک موج عرضی در لحظه t را نشان می‌دهد که در یک ریسمان کشیده شده در حال انتشار است. در لحظه $t + \frac{1}{15} \text{ s}$ فاصله ذره A از حالت تعادلش چند برابر فاصله ذره B از حالت تعادلش است؟

(۱) ۱ (۲) -۱ (۳) $\frac{1}{2}$ (۴) $-\frac{1}{2}$

۱۱۵۰ نقش یک موج عرضی در طنابی در لحظه $t = 0$ مطابق شکل روبه‌روست. در بازه زمانی $0 \leq t \leq \frac{3}{\gamma_0}$ به ترتیب از راست به چپ مسافت طی شده ذره A چند برابر مسافت طی شده ذره B و جابه‌جایی ذره A چند برابر جابه‌جایی ذره B است؟



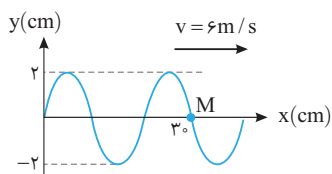
(۱) $\frac{5}{6}, 1$ (۲) $1, \frac{5}{6}$ (۳) $\frac{6}{5}, 1$ (۴) $1, -\frac{6}{5}$



۱۱۵۱ در شکل روبه‌رو، نقش موج دو موج A و B که در دو طناب مختلف منتشر می‌شوند، رسم شده است. در مدت زمانی که ذره M ، 2 نوسان انجام می‌دهد، ذره N ، 5 نوسان انجام می‌دهد، تندی انتشار موج A چند برابر تندی انتشار موج B است؟

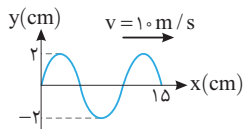
(۱) ۱ (۲) $\frac{5}{2}$ (۳) $\frac{7}{15}$ (۴) $\frac{7}{6}$

۱۱۵۲ در شکل روبه‌رو تصویر یک موج عرضی که در یک ریسمان کشیده در حال انتشار است در لحظه t نشان داده شده است. شتاب متوسط ذره M در

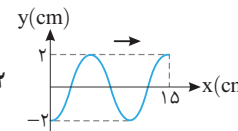
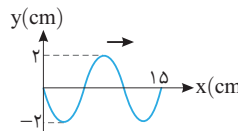
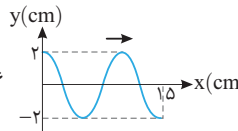
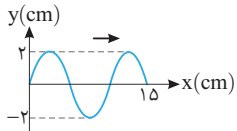


بازه t تا $t + \frac{1}{6} \text{ s}$ چند متر بر مجذور ثانیه است؟

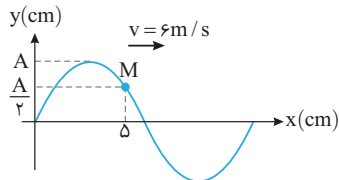
(۱) -144π (۲) 144π (۳) صفر (۴) قابل محاسبه نیست.



۱۱۵۳ نقش موجی در لحظه $t = \frac{3}{400}$ s مطابق شکل است. نقش موج در لحظه $t = \frac{1}{200}$ s کدام بوده است؟

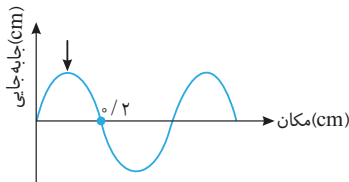


۱۱۵۴ در شکل روبه‌رو، نقش موج عرضی طنابی در لحظه t نشان داده شده است. نوع حرکت ذره



M در بازه $t + 0.1$ s تا t چگونه است؟

- (۱) کندشونده، تندشونده، کندشونده
- (۲) کندشونده
- (۳) تندشونده، کندشونده، تندشونده
- (۴) ابتدا کندشونده و سپس تندشونده



۱۱۵۵ نقش یک موج به صورت روبه‌رو است. اگر بسامد موج 10 Hz باشد، پس از 0.1 s مکان قلّه نشان داده شده کدام می‌شود؟

- (۱) $x = 0.2$ m
- (۲) $x = 0.3$ m
- (۳) $x = 0.4$ m
- (۴) $x = 0.5$ m



امواج الکترومغناطیسی

آزمون ۱۰۸

۱۱۵۶ کدام گزاره‌های زیر درست است؟

- (الف) ایجاد میدان الکتریکی به علت تغییر میدان مغناطیسی همان القای الکترومغناطیسی است.
 (ب) بسامد میدان‌های الکتریکی و مغناطیسی موج الکترومغناطیسی یکسان اما طول موج آن‌ها متفاوت است.
 (پ) در امواج الکترومغناطیسی، انرژی به صورت انرژی جنبشی و انرژی پتانسیل ذرات محیط منتقل می‌شود.
 (ت) تندی انتشار همگی امواج الکترومغناطیسی یکسان است.
- (۱) (الف) و (ت)
 - (۲) (الف)، (ب) و (پ)
 - (۳) (الف)
 - (۴) (ب) و (ت)

۱۱۵۷ یک موج الکترومغناطیسی در راستای قائم رو به بالا در حال پیشروی است. در لحظه‌ای که میدان الکتریکی موج در نقطه M از مسیر پیشروی به سمت شرق باشد، میدان مغناطیسی موج به کدام جهت است؟

- (۱) شمال
- (۲) جنوب
- (۳) شرق
- (۴) غرب

۱۱۵۸ در کدام یک از گزینه‌های زیر پرتوهای الکترومغناطیسی از راست به چپ به ترتیب کاهش طول موج نوشته شده‌اند؟

- (۱) گاما، فرابنفش، نورمرئی، میکروموج
- (۲) FM، AM، ELF، میکروموج
- (۳) فرورسرخ، فرابنفش، نورمرئی، میکروموج
- (۴) فرورسرخ، AM، فرابنفش، گاما

۱۱۵۹ طول آنتن یک گوشی تلفن همراه قدیمی معمولاً $\frac{1}{4}$ طول موج دریافتی است. اگر طول چنین آنتنی تقریباً برابر 10 cm باشد، بسامدی که این

گوشی با آن کار می‌کند چند مگاهرتز است؟ ($c = 3 \times 10^8$ m/s)

- (۱) ۷۵۰
- (۲) ۱۲۰۰
- (۳) ۵۵۰
- (۴) ۲۴۰۰

۱۱۶۰ طول موج یک پرتو الکترومغناطیسی ۳ پیکومتر است. دوره تناوب این پرتو چند نانوثانیه است؟ ($c = 3 \times 10^8$ m/s)

- (۱) 10^{-20}
- (۲) 10^{-11}
- (۳) 3×10^{-20}
- (۴) 3×10^{-11}

۱۱۶۱ بسامد یک موج الکترومغناطیسی 5×10^8 مگاهرتز است. این موج در کدام قسمت از طیف امواج الکترومغناطیسی است؟ ($c = 3 \times 10^8$ m/s)

- (۱) امواج رادیویی
- (۲) فرورسرخ
- (۳) نورمرئی
- (۴) فرابنفش

۱۱۶۲ یکای ($\epsilon_0 \mu_0$) در SI کدام است؟ (μ_0 تراوایی مغناطیسی خلأ و ϵ_0 ضریب گذردهی الکتریکی خلأ است.)

- (۱) s^2/m^2
- (۲) m^2/s^2
- (۳) m/s
- (۴) s/m

۱۶۱۹ در اتم هیدروژن، الکترون در تراز $n=2$ قرار دارد و شعاع مدار آن r است. این الکترون با دریافت انرژی مناسب، به مداری می‌رود که شعاع آن $4r$ است. اگر الکترون از این مدار، مستقیماً به حالت پایه برود، انرژی آن چند eV تغییر می‌کند؟ ($E_R = 13/6 eV$)

- (۱) $-12/75$ (۲) $12/75$ (۳) $-13/6$ (۴) $13/6$

۱۶۲۰ اگر یک واکنش هسته‌ای به صورت ${}_{11}^{24}\text{A} \rightarrow {}_{11}^{23}\text{B} + X + 15/3 \times 10^{-16} \text{ J}$ داشته باشیم اختلاف جرم طرفین بر حسب یکای جرم اتمی (u) چه مقدار و ذره X کدام است؟ ($c = 3 \times 10^8 \text{ m/s}$ و $1 \text{ u} = 1/7 \times 10^{-27} \text{ kg}$)

- (۱) 10^{-3} بتا (۲) 10^{-5} بتا (۳) 10^{-3} پوزیترون (۴) 10^{-5} پوزیترون



زمان پیشنهادی: ۳۷ دقیقه

مطابق با کنکور سراسری

آزمون ۱۳۷

۱۶۲۱ چه تعداد از گزاره‌های زیر درست است؟

(الف) در مسیر حرکت شاره‌ای که به صورت لایه‌ای در لوله‌ی پر از شاره جریان دارد، با افزایش تندی شاره، فشار شاره کاهش می‌یابد.
 (ب) در حالت پایا که همه جای لوله پر از آب است، مقدار آبی که در یک مدت زمان معین از یک مقطع می‌گذرد با مقدار آبی که از هر مقطع دیگر در همان مدت زمان می‌گذرد برابر است.

(پ) در مدل‌سازی از حرکت یک شاره، شاره تراکم ناپذیر و جریان شاره را لایه‌ای و یکنواخت و بدون اصطکاک داخلی (گرانروی) فرض می‌کنیم.

- (۱) صفر (۲) ۱ (۳) ۲ (۴) ۳

۱۶۲۲ متحرکی که روی خط راست در یک جهت حرکت می‌کند. در حالت اول نیمی از مسیر خود را با تندی 4 m/s و نیم دیگر آن را با تندی 6 m/s طی می‌کند و سرعت متوسط آن در این حرکت v_{av} می‌شود. اگر این متحرک بار دیگر نیمی از زمان حرکت خود را با تندی 4 m/s

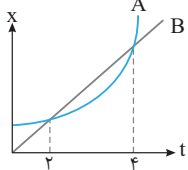
و نیم دیگر از زمان حرکت خود را با تندی 6 m/s طی کند، سرعت متوسط متحرک v'_{av} می‌شود، $\frac{v'_{av}}{v_{av}}$ کدام است؟

- (۱) ۱ (۲) $0/96$ (۳) $25/24$ (۴) $23/24$

۱۶۲۳ متحرکی روی محور x ها با سرعت اولیه v_0 از مبدأ مکان در جهت مثبت می‌گذرد و با شتاب 10 m/s^2 از سرعت خود می‌کاهد و پس از

جابه‌جایی x می‌ایستد و با همان شتاب بازمی‌گردد. اگر زمان بین دو عبور متوالی از مکان $\frac{5}{9}x$ ، 4 ثانیه باشد، v_0 چند متر بر ثانیه است؟

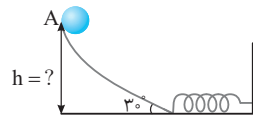
- (۱) ۳۰ (۲) -30 (۳) ۱۵ (۴) -15



۱۶۲۴ نمودار مکان - زمان دو متحرک A و B ، مطابق شکل مقابل است. اگر شتاب متحرک A ثابت و برابر

$1/5 \text{ m/s}^2$ باشد، در کدام لحظه تندی متحرک A ، 3 m/s بیشتر از تندی متحرک B است؟

- (۱) ۳ (۲) ۵ (۳) ۴ (۴) ۲



۱۶۲۵ گلوله‌ای به جرم 100 g از نقطه A با تندی اولیه 10 m/s شروع به لغزیدن می‌کند و پس از برخورد به

فتری در سطح افقی آن را متراکم می‌کند. اگر بیشینه انرژی پتانسیل کشسانی فتری 13 J و کار نیروی

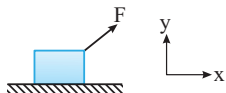
اصطکاک در این مسیر برابر -5 J باشد، h چند متر است؟ (مسیر افقی بدون اصطکاک است)

- (۱) ۱۵ (۲) ۱۷ (۳) ۲۳ (۴) ۱۳

۱۶۲۶ به جسم ساکنی به جرم m به مدت t ثانیه نیروی F و به جسم ساکن دیگری به جرم $\frac{m}{2}$ به مدت $2t$ ثانیه نیروی $\frac{F}{3}$ وارد می‌شود. جابه‌جایی

جسم دوم چند برابر جابه‌جایی جسم اول است؟

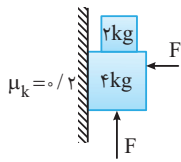
- (۱) $\frac{4}{3}$ (۲) $\frac{3}{2}$ (۳) $\frac{3}{4}$ (۴) $\frac{1}{3}$



۱۶۲۷ در شکل روبه‌رو جسم 2 kg روی سطح افقی تحت تأثیر نیروی $\vec{F} = 12\vec{i} + 5\vec{j}$ با سرعت ثابت 4 m/s

در حرکت است، اگر مؤلفه قائم نیروی F حذف شود، پس از چند ثانیه متوقف می‌شود؟

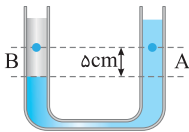
- (۱) ۱ (۲) ۲ (۳) ۳ (۴) ۴



۱۶۲۸ در شکل روبه‌رو مجموعه با سرعت ثابت روی دیوار قائمی با ضریب اصطکاک جنبشی $\mu_k = 0.2$ در حال

حرکت به سمت بالا است. F چند نیوتون است؟

- (۱) ۸۰
(۲) ۶۰
(۳) ۷۵
(۴) ۴۵

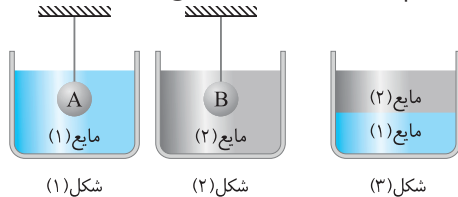


۱۶۲۹ در شکل روبه‌رو دو مایع مخلوط نشدنی به چگالی‌های 1500 kg/m^3 و 900 kg/m^3 در یک لوله U شکل قرار

دارند. اختلاف فشار بین دو نقطه A و B ($P_B - P_A$) چند پاسکال است؟

- (۱) ۴۵۰
(۲) ۷۵۰
(۳) ۳۰۰
(۴) ۴۰۰

۱۶۳۰ در شکل‌های زیر نیروی شناوری وارد بر دو جسم با یکدیگر برابر است. اگر شعاع کره‌های A و B به ترتیب r_A و r_B باشد، کدام گزینه درست است؟



- (۱) $r_A > r_B$ (۲) $r_A = r_B$ (۳) $r_A < r_B$ (۴) هر سه گزینه ممکن است.

۱۶۳۱ در یک روز گرم، یک کامیون حمل سوخت، 30 m^3 بارگیری کرده است. دمای هوا در محل تحویل 45°F کمتر از محل بارگیری است. حجم

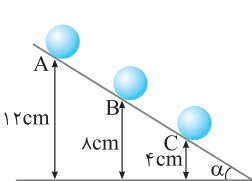
سوختی که راننده تحویل می‌دهد چند لیتر کاهش یافته است؟ ($\beta_{\text{سوخت}} = 10^{-3} \text{ K}^{-1}$)

- (۱) ۷۵ (۲) ۷۵۰ (۳) ۷/۵ (۴) ۰/۷۵

۱۶۳۲ درون 900 گرم آب 70°C دو قطعه هم‌جرم مس و آلومینیم که دمای آن‌ها به ترتیب 35°C و 20°C است، قرار می‌دهیم. اگر دمای مجموعه

پس از تعادل به 65°C برسد، جرم قطعه مس چند گرم است؟ ($c_{\text{آلومینیم}} = 900 \text{ J/kg}^\circ \text{C}$ ، $c_{\text{مس}} = 400 \text{ J/kg}^\circ \text{C}$ ، $c_{\text{آب}} \approx 4000 \text{ J/kg}^\circ \text{C}$)

- (۱) ۱۰۰ (۲) ۴۵۰ (۳) ۲۰۰ (۴) ۴۰۰



۱۶۳۳ در شکل روبه‌رو اگر تندی جسمی به جرم 400 g در نقاط A و B با هم برابر باشد، تندی جسم در نقطه C

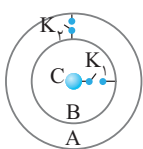
چند برابر تندی جسم در نقطه B است؟ ($g = 10 \text{ m/s}^2$)

- (۱) ۱ (۲) ۱/۵ (۳) ۱/۲۵ (۴) اظهار نظر قطعی نمی‌توان کرد.

۱۶۳۴ دو گلوله فلزی کوچک مشابه باردار در فاصله 60 cm بر یکدیگر نیروی جاذبه الکتریکی $4/5 \text{ N}$ وارد می‌کنند. اگر دو گلوله را با هم تماس

دهیم، بار الکتریکی هر کدام $-12 \mu\text{C}$ خواهد شد. بار اولیه گلوله‌ها برحسب میکروکولن کدام است؟ ($k = 9 \times 10^9 \text{ N.m}^2/\text{C}^2$)

- (۱) $-6, 30$ (۲) $6, -30$ (۳) $+4, -28$ (۴) $8, -32$

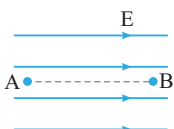


۱۶۳۵ در شکل روبه‌رو دو پوسته کروی رسانای A و B و کره رسانای C به ترتیب دارای بارهای الکتریکی $q_A = -1 \mu\text{C}$ و

$q_B = +3 \mu\text{C}$ و $q_C = +2 \mu\text{C}$ می‌باشند. ابتدا کلید K_1 و سپس کلید K_2 را می‌بندیم. پس از تعادل، کدام گزینه

در باره بار الکتریکی A ، B و C درست است؟

- (۱) $q_A = -1 \mu\text{C}$ ، $q_B = +3 \mu\text{C}$ و $q_C = +2 \mu\text{C}$ (۲) $q_A = +5 \mu\text{C}$ ، $q_B = 0$ و $q_C = -1 \mu\text{C}$
(۳) $q_A = +4 \mu\text{C}$ ، $q_B = 0$ و $q_C = 0$ (۴) $q_A = +3 \mu\text{C}$ ، $q_B = -1 \mu\text{C}$ و $q_C = 0$



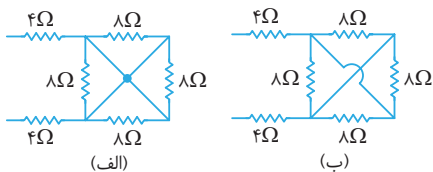
۱۶۳۶ با توجه به شکل روبه‌رو، در میدان الکتریکی یکنواختی ذره‌ای با بار الکتریکی $q = -5 \mu\text{C}$ بدون سرعت اولیه از نقطه B

رها می‌شود. این ذره در مسیر مستقیم، 20 cm جابه‌جا می‌شود و به نقطه A می‌رسد و انرژی جنبشی آن 1 میلی‌ژول

می‌شود. میدان الکتریکی چند نیوتون بر کولن است؟ (از اثر گرانشی و نیروهای مقاوم در مقابل حرکت ذره صرف نظر شود.)

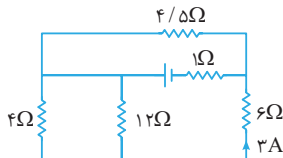
- (۱) 10^5 (۲) 10^4 (۳) 10^3 (۴) 10^2

۱۶۳۷ مقاومت معادل مدار (الف) چند برابر مقاومت معادل مدار (ب) است؟



- (۱) ۰/۸
- (۲) ۱/۲۵
- (۳) ۱/۶
- (۴) $\frac{4}{3}$

۱۶۳۸ در مدار شکل روبه‌رو جریان عبوری از مقاومت 6Ω برابر $3A$ است. نیرو محرکه

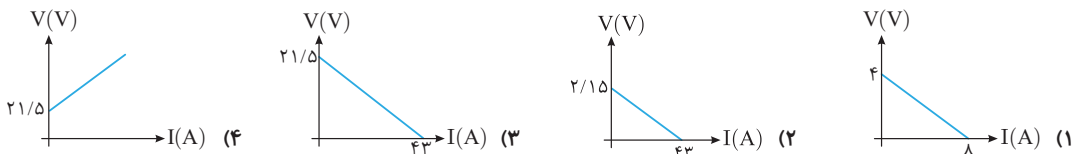


باتری چند ولت است؟

- (۱) ۱۸
- (۲) ۲۴
- (۳) ۳۶
- (۴) ۴۸

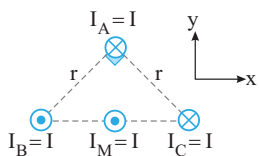
۱۶۳۹ در یک باتری به ازای جریان $5A$ توان خروجی از آن برابر $9/5W$ و به ازای جریان $7A$ توان خروجی از باتری برابر $12/6W$ است. کدام

گزینه نمودار اختلاف پتانسیل دو سر باتری برحسب جریان گذرنده از آن را به درستی نشان می‌دهد؟



۱۶۴۰ اگر نیرویی که دو سیم حامل جریان I_B و I_M بر هم وارد می‌کنند F باشد، بردار نیروی وارد بر

سیم M برحسب بردارهای یکه به کدام صورت است؟



(۲) $\vec{F}_M = -2F\vec{i} - F\vec{j}$

(۱) $\vec{F}_M = 2F\vec{i} + F\vec{j}$

(۴) $\vec{F}_M = -F\vec{i} - 2F\vec{j}$

(۳) $\vec{F}_M = F\vec{i} + 2F\vec{j}$

۱۶۴۱ مساحت سطح مقطع پیچ‌های با 100 دور سیم با قطر مقطع $1mm$ و مقاومت 10Ω برابر $48cm^2$ است. اگر پیچ عمود بر میدان مغناطیسی

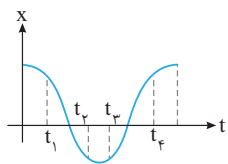
باشد، برای آنکه جریان القایی متوسط گذرنده از پیچ $1mA$ شود، میدان مغناطیسی باید با چه آهنگی برحسب G/s تغییر کند؟ ($\pi \approx 3$)

($\rho = 10^{-8}\Omega.m$)

- (۱) $\frac{10}{3}$
- (۲) $\frac{20}{3}$
- (۳) $\frac{2}{3} \times 10^{-3}$
- (۴) $\frac{1}{3} \times 10^{-4}$

۱۶۴۲ شکل مقابل نمودار مکان - زمان نوسانگر ساده‌ای را نشان می‌دهد. در کدام لحظه، انرژی جنبشی

در حال کاهش و شتاب نوسانگر منفی است؟



- (۱) t_1
- (۲) t_2
- (۳) t_3
- (۴) t_4

۱۶۴۳ نوسانگری در لحظه t_1 در مکان $-\frac{A}{2}$ قرار دارد و با دوره T در حال نوسان است. بیشینه بزرگی سرعت متوسط نوسانگر در بازه t_1 تا

$t_1 + \frac{YT}{6}$ ثانیه کدام است؟

- (۱) $\frac{3}{7} \frac{A}{T}$
- (۲) $\frac{7}{3} \frac{A}{T}$
- (۳) $\frac{6}{7} \frac{A}{T}$
- (۴) $\frac{7}{6} \frac{A}{T}$

۱۶۴۴ بسامد یک منبع صوت را دو برابر و دامنه نوسان آن را چهار برابر می‌کنیم، شدت صوت آن چه تغییری می‌کند؟

- (۱) $\frac{1}{4}$
- (۲) ۴
- (۳) $\frac{1}{64}$
- (۴) ۶۴

۱۶۴۵ آمبولانسی آژیرکشان به سمت شما می‌آید و در مدت نزدیک شدن آمبولانس به شما ارتفاع صوتی که شما دریافت می‌کنید، ابتدا افزایش می‌یابد

و سپس ثابت می‌ماند. در این صورت حرکت آمبولانس

- (۱) ابتدا تندشونده و سپس با تندی ثابت است.
- (۲) با تندی ثابت است.
- (۳) ابتدا کندشونده و سپس با تندی ثابت است.
- (۴) ابتدا تندشونده و سپس کندشونده

۱۶۴۶ نسبت تندی نور در هوا به تندی نور در آب برابر با $\frac{4}{3}$ است. اگر نسبت طول موج نور در هوا به طول موج آن در آب را با m و نسبت بسامد نور

در هوا به بسامد آن در آب را با K نشان دهیم، کدام گزینه صحیح است؟

- (۱) $K=1, m=\frac{3}{4}$ (۲) $K=\frac{4}{3}, m=1$ (۳) $K=1, m=\frac{4}{3}$ (۴) $K=\frac{4}{3}, m=\frac{3}{4}$



۱۶۴۷ در شکل روبه‌رو یک تشتت موج که توسط یک نوسان‌ساز تیغه‌ای، جبهه‌های موج تخت در آن ایجاد شده. نشان داده شده است. در کدام شکل، جبهه‌های موج درست رسم شده‌اند؟



۱۶۴۸ چشمه‌ای پرتوهای نور با طول موج 240 nm را به سطحی از جنس فلز تنگستن می‌تاباند و سبب گسیل فوتوالکترون از آن می‌شود. اگر توان چشمه نصف شود، تعداد فوتوالکترون‌های گسیلی از سطح فلز تنگستن در هر دقیقه چند برابر می‌شود؟ (فرض کنید تمام انرژی نور در دو حالت توسط فلز جذب شود).

- (۱) $\frac{1}{2}$ (۲) ۲ (۳) $\frac{1}{4}$ (۴) ۴

۱۶۴۹ چه تعداد از گزاره‌های زیر درست هستند؟

(الف) در دماهای معمولی (در حدود دمای اتاق)، بیشتر تابش گسیلی از سطح اجسام، در ناحیه مرئی طیف امواج الکترومغناطیسی قرار دارد.
(ب) طول موج‌های مرئی طیف گسیلی خطی از گازهای رقیق، به نوع گاز بستگی ندارند.

(پ) بلندترین طول موج رشته پاشن ($n'=3$) در هیدروژن اتمی برابر با 720 nm است. ($R = 1.097 \times 10^7 \text{ m}^{-1}$)

- (۱) صفر (۲) ۱ (۳) ۲ (۴) ۳



۱۶۵۰ هسته دختر به‌دست آمده از واپاشی پوزیترون هسته ایزوتوپ $^{15}_8\text{O}$ کدام است؟ (جدول زیر بخشی از جدول

- (۱) F (۲) Ne (۳) N (۴) C

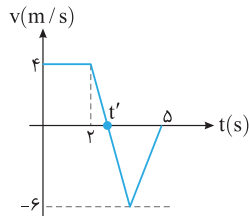
تناوبی است.)

مطابق با کنکور سراسری

۱۳۸

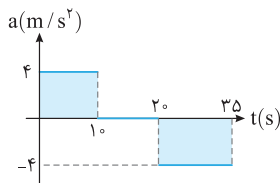
آزمون

زمان پیشنهادی: ۳۷ دقیقه



۱۶۵۱ شکل مقابل نمودار سرعت - زمان متحرکی را نشان می‌دهد که روی محور X در مبدأ زمان از مبدأ مکان عبور می‌کند. اگر این متحرک در لحظه $t = 5 \text{ s}$ نیز مجدداً از مبدأ مکان خود عبور کند، t' چند ثانیه است؟

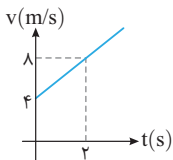
- (۱) $2/2$ (۲) $2/4$ (۳) $2/5$ (۴) $2/6$



۱۶۵۲ نمودار شتاب - زمان متحرکی که از حال سکون روی محور X شروع به حرکت می‌کند، مطابق شکل روبه‌رو است. در بازه $t_1 = 15 \text{ s}$ تا $t_2 = 30 \text{ s}$ کدام گزینه درست است؟

- (۱) جهت حرکت یک بار تغییر می‌کند.
(۲) جابه‌جایی متحرک صفر است.
(۳) متحرک در جهت محور X حرکت می‌کند.
(۴) حرکت تندشونده است.

۱۶۵۳ جسمی به جرم 2 kg تحت تأثیر دو نیروی افقی هم‌راستای $F_1 = 6 \text{ N}$ و F_2 در حال حرکت روی محور X است و نمودار $v-t$ حرکت جسم

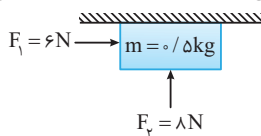


به صورت زیر است. اگر نیروی F_1 خلاف جهت محور X با جسم وارد شود، F_2 چند نیوتون است؟

(ضریب اصطکاک جنبشی بین جسم و سطح $\mu_k = 0.4$)

- (۱) ۲۸ (۲) ۱۴ (۳) ۱۸ (۴) ۱۰

۱۶۵۴ مطابق شکل زیر جسم تحت تأثیر نیروهای \vec{F}_1 و \vec{F}_2 بر زیر سقف افقی اتاقی، از حال سکون به حرکت درمی‌آید. اگر ضریب اصطکاک جنبشی



بین جسم و سقف 0.5 باشد، جسم در ثانیه اول چند متر جابه‌جا می‌شود؟ ($g = 10 \text{ N/kg}$)

- (۱) ۲ (۲) $3/5$ (۳) ۴ (۴) $4/5$

فشار در نقطه D در واقع همان فشار وارد بر ته لوله است.

$P_D = P_{\text{ته لوله}} \Rightarrow$

$P_{\text{ته لوله}} = 1200 \times 10 \times \frac{1}{100} = 960 \text{ Pa}$

اکنون نیروی وارد بر انتهای لوله در قسمت D را حساب می‌کنیم.

$F_{\text{ته لوله}} = P_{\text{ته لوله}} A_{\text{ته لوله}} \Rightarrow F_{\text{ته لوله}} = 960 \times 20 \times 10^{-4} = 1/92 \text{ N}$

گزاره (ب) درست است.

یادآوری اختلاف فشار وارد بر دو نقطه در یک شاره برابر $\rho g \Delta h_{BC}$ شده که Δh برابر اختلاف ارتفاع بین دو نقطه B و C است.

$\Delta P_{BC} = \rho g \Delta h_{BC} \xrightarrow{\Delta h_{BC} = 1 \text{ cm}} \Delta P_{BC} = 1200 \times 10 \times \frac{1}{100} = 1200 \text{ Pa}$

گزاره (پ) نادرست است.

برای آنکه چوب‌پنبه در حال تعادل بماند، باید نیروهای وارد بر چوب‌پنبه توسط دو مایع برابر باشد: $(F = F')$ بنابراین فشار دو مایع در دو طرف چوب‌پنبه باید یکسان باشد.

$F = F' \xrightarrow{F=PA} PA = P'A' \Rightarrow P = P'$

$P = \rho g h$

ارتفاع قائم مایع ρ' را حساب می‌کنیم.

$\sin 53^\circ = \frac{h'}{L} \Rightarrow h' = \frac{L \sin 53^\circ}{1} = 2 \text{ cm}$

با توجه به رابطه فشار مایع خواهیم داشت:

$P = P' \Rightarrow \rho g h = \rho' g h' \Rightarrow \rho h = \rho' h' \Rightarrow 1/2 \times 10 = 2 \times \rho' \Rightarrow \rho' = 0/6 \text{ g/cm}^3$

یکای g/cm^3 را به g/L تبدیل می‌کنیم.

$\rho' = 0/6 \frac{\text{g}}{\text{cm}^3} \times \frac{1000 \text{ cm}^3}{1 \text{ L}} = 600 \frac{\text{g}}{\text{L}}$

جمع‌بندی خوب است این تبدیل‌ها را یاد بگیریم:

$\frac{\text{g}}{\text{cm}^3} \times 1000 \rightarrow \frac{\text{kg}}{\text{m}^3}$, $\frac{\text{g}}{\text{L}} \times 1 \rightarrow \frac{\text{kg}}{\text{m}^3}$, $\frac{\text{kg}}{\text{L}} \times 1 \rightarrow \frac{\text{g}}{\text{cm}^3}$

نیم‌نگاه اگر فشار در نقطه A برابر P باشد، آن‌گاه

$\Delta P_{AB} = \rho g h \xrightarrow{P_A > P_B} P_A - P_B = \rho g h$

بنابراین فشار در نقطه B برابر است با:

$P_B = P - \rho g h$

بنابراین فشار در نقطه C برابر است با:

$\Delta P_{AC} = \rho g h \xrightarrow{P_C > P_A} P_C - P_A = \rho g h \Rightarrow P_C = P + \rho g h$

راه‌حل اول: فشار وارد بر کف ظرف داده شده و فشار در فاصله 10 cm از کف ظرف خواسته شده است. به ترتیب زیر عمل می‌کنیم:

$\Delta P_{AB} = \rho g h \Rightarrow P_A - P_B = \rho g h \Rightarrow P_B = P_A - \rho g h$

$P_B = 150 \times 10^3 - 1500 \times 10 \times \frac{1}{100} = 150 \times 10^3 - 1500 = (150 - 1/5) \text{ kPa} = 148/5 \text{ kPa}$

در نتیجه کافی است از فشار P مقدار $\rho g h$ را کم کنیم.

راه‌حل دوم: ابتدا با استفاده از رابطه فشار عمق ظرف را به دست می‌آوریم:

$P = \rho g h \Rightarrow 150 \times 10^3 = 1500 \times 10 \times h \Rightarrow h = 10 \text{ m}$

بنابراین عمق ظرف 10 m بوده و نقطه‌ای که به فاصله 10 cm یا 1/100 m از کف ظرف است دارای عمق 9/99 m است:

$P_B = \rho g h_B = 1500 \times 10 \times 9/99 = 148/5 \times 10^3 \text{ Pa} = 148/5 \text{ kPa}$

البته این راه‌حل برای کتک‌ور مناسب نیست.

یادآوری در ظروف متقارن (مثلاً استوانه‌ای) فشار وارد بر کف ظرف برابر با $P = \rho g h = \frac{mg}{A}$ است. قبل و بعد از مخلوط کردن دو مایع، مجموع جرم دو مایع درون ظرف تغییر نمی‌کند، از طرفی مساحت سطح ظرف ثابت است بنابراین:

$P_1 = \frac{(m_1 + m_2)g}{A} \xrightarrow{\text{مجموع جرم دو مایع برابر جرم مخلوط است}} P_1 = P_2$

$P_2 = \frac{m'g}{A}$

نیم‌نگاه نصف حجم استوانه‌ای از مایعی با چگالی ρ_1 و نیمه‌ی بالایی آن از مایعی با چگالی ρ_2 پر شده است و فشار حاصل از دو مایع در کف استوانه برابر P_1 است. اگر این دو مایع را به هم بزنیم و دو مایع در هم حل شوند، فشار حاصل از مخلوط در کف استوانه برابر P_2 می‌شود، کدام رابطه درست است؟

$P_2 > P_1$ (۲) $P_2 = P_1$ (۱)

$P_2 < P_1$ (۳) $P_2 = \frac{\rho_1 + \rho_2}{2(\rho_1 - \rho_2)} P_1$ (۴) **گزینه ۱**

نیم‌نگاه برای محاسبه فشار حاصل از شاره در یک نقطه داخل شاره دو نوع نمودار می‌توان رسم کرد:

نمودار فشار حاصل از شاره بر حسب عمق آن نقطه از سطح آزاد

$P = \rho g h$

$\text{شیب خط} = \tan \theta = \rho g$

نمودار فشار حاصل از شاره بر حسب ارتفاع آن نقطه از کف ظرف

$|\text{شیب خط}| = \tan \theta = \rho g$

ابتدا با توجه به شیب نمودار چگالی مایع را به دست می‌آوریم:

$\left| \frac{\text{تغییرات محور قائم}}{\text{تغییرات محور افقی}} \right| = \rho g$

$\Rightarrow \frac{600}{3 \times 10^{-2}} = \rho g$

$\Rightarrow \rho g = 2 \times 10^4 \Rightarrow \rho = 2000 \frac{\text{kg}}{\text{m}^3}$

یادآوری فشار در عمق h مایع از رابطه $P = P_0 + \rho g h$ به دست می‌آید.

فشار در عمق 5 cm برابر است با:

$P = \rho g h + P_0 \Rightarrow P = 2000 \times 10 \times \frac{5}{100} + 10^5 = 1/0 \times 10^5 \text{ Pa}$

$\xrightarrow{10^5 \text{ Pa} = 1 \text{ kPa}} P = 10/1 \text{ kPa}$

نکته به نقاطی از یک نوع مایع که در یک عمق نسبت به سطح آزاد آن قرار دارند، نقاط هم‌تراز گویند که فشار این نقاط با هم برابر است:

$P_A = P_B$

بنابراین گزاره (الف) درست است.

یادآوری نیروی وارد بر سطح از طرف مایع برابر $F = PA$ است. ابتدا باید فشار وارد بر انتهای شاخه (۲) را به دست آورد.

نقاط D و C نقاط هم‌تراز در یک مایع هستند و فشار مایع در این دو نقطه با هم برابر است.

$P_D = P_C \Rightarrow P_D = \rho g h_D$

۲) دو طرف معادله را بر ۸۰۰ تقسیم می‌کنیم:

$$10h_B + 20h_A = 6 \xrightarrow{\text{دو طرف را بر ۱۰ تقسیم می‌کنیم}} h_B + 2h_A = 0.6 \text{ m} \quad (1)$$

۳) با توجه به سؤال، مجموع ارتفاع دو مایع ۴۵cm یا ۰/۴۵m است، بنابراین:

$$h_B + h_A = 0.45 \text{ m} \quad (2)$$

۴) حال دو معادله (۱) و (۲) را حل می‌کنیم:

$$\begin{cases} h_B + 2h_A = 0.6 \text{ m} \\ h_B + h_A = 0.45 \text{ m} \end{cases} \xrightarrow{\text{دو معادله را از هم کم می‌کنیم}} h_A = 0.15 \text{ m}, h_B = 0.3 \text{ m}$$

۵) ظرف استوانه‌ای بوده و حجم هر مایع برابر حاصل ضرب ارتفاع مایع در سطح

$$\frac{V_A}{V_B} = \frac{A_A h_A}{A_B h_B} \xrightarrow{\text{ظرف استوانه‌ای } A_A = A_B} \frac{V_A}{V_B} = \frac{h_A}{h_B} = \frac{0.15}{0.3} = \frac{1}{2}$$

مقطع ظرف می‌شود $\frac{1}{2}$

نکته ۳۰) دو مایع A و B را که چگالی آنها $\rho_A = 1.2 \text{ g/cm}^3$ و

$\rho_B = 0.6 \text{ g/cm}^3$ است، با یکدیگر مخلوط کرده و در یک ظرف استوانه‌ای

می‌ریزیم. اگر $\frac{1}{3}$ حجم مخلوط از مایع A و بقیه آن از مایع B و ارتفاع مخلوط در

ظرف ۷۵ سانتی‌متر باشد، فشار وارد از طرف مخلوط بر کف ظرف چند پاسکال است؟ ($g = 10 \text{ m/s}^2$)

ریاضی - ۹۵

۹۷۵۰ (۴) ۹۰۰۰ (۳) ۶۷۵۰ (۲) ۶۰۰۰ (۱)

گزینه ۱ ✓

تجربی - ۹۱

۸۴ B

۱) ابتدا با توجه به پیشینه نیروی ناشی از مایع، بیشینه ارتفاعی را که مایع می‌تواند داشته باشد حساب می‌کنیم:

یادآوری: نیروی وارد از طرف مایع بر کف ظرف از رابطه زیر به دست می‌آید.

$$P_{\text{کف}} = \frac{F}{A_{\text{کف}}} \Rightarrow F = P_{\text{کف}} A_{\text{کف}}$$

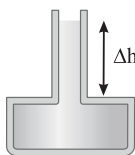
فشار از طرف مایع برابر ρgh است:

$$P = \frac{F}{A} \Rightarrow F_{\text{کف max}} = P_{\text{max}} A_{\text{کف}}$$

$$64/8 = (\rho gh_{\text{max}}) A_{\text{کف}} \Rightarrow 64/8 = (1350 \times 10 \times h_{\text{max}}) (10 \times 10^{-4})$$

$$64/8 \times 10^7 = (1350 \times 10 \times h_{\text{max}}) \Rightarrow h_{\text{max}} = 0.48 \text{ m} = 48 \text{ cm}$$

۲) در نتیجه ارتفاع مایع می‌تواند ۴۸cm شود و شیشه نشکند. ارتفاع جیوه ۳۸cm است، بنابراین می‌توان $48 - 38 = 10 \text{ cm}$ مایع به ظرف اضافه کرد که این مایع به قسمت بالایی ظرف اضافه خواهد شد.



۳) حجم مایع اضافه شده را حساب می‌کنیم

$$\Delta V = A \Delta h \xrightarrow{A=2/5 \text{ cm}^2} \Delta V = 2/5 \times 10 = 2/5 \text{ cm}^3$$

$$\Delta V = 2/5 \times 10 = 2/5 \text{ cm}^3$$

۴) جرم مایع اضافه شده خواهد شد:

$$\rho_{\text{جیوه}} = 13500 \text{ kg/m}^3 \xrightarrow{\text{kg/m}^3 \rightarrow \text{g/cm}^3} \rho_{\text{جیوه}} = 13.5 \text{ g/cm}^3$$

$$m = \rho V \Rightarrow m = 13.5 \text{ g/cm}^3 \times 2/5 \text{ cm}^3 = 337/5 \text{ g}$$

نکته ۳۱) در شکل روبه‌رو، اگر بیشینه نیرویی

که کف ظرف می‌تواند از طرف جیوه تحمل

کند، ۱۳۵ نیوتون باشد، حداکثر چند

سانتی‌متر جیوه می‌توان به ارتفاع جیوه درون

لوله اضافه کرد تا ظرف نشکند؟ (20 cm^2)

سطح کف ظرف، 13500 kg/m^3 چگالی

جیوه و $g = 10 \text{ m/s}^2$ است.)

تجربی - ۹۱

۹۰ (۴) ۲۰ (۳) ۱۰ (۲) ۵ (۱)

گزینه ۲ ✓

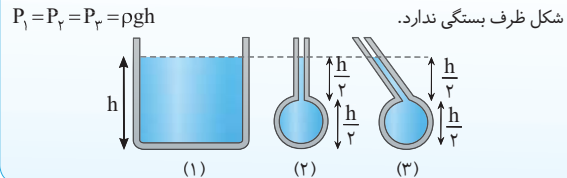
خارج تجربی - ۹۲

۸۲ B

نیم‌نگاه

منظور از h در رابطه $P = \rho gh$ عمق از سطح آزاد است و فشار به

شکل ظرف بستگی ندارد.



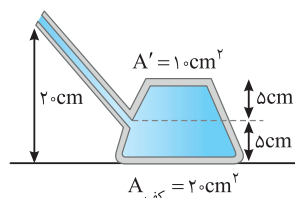
یادآوری: نیروی وارد بر سطحی به مساحت A ناشی از فشار برابر $F = PA$ است

$$F_{\text{کف}} = PA_{\text{کف}} \xrightarrow{P = P_0 + \rho gh}$$

$$F_{\text{کف}} = (\rho gh + P_0) A_{\text{کف}} \xrightarrow{\text{عمق کف ظرف از سطح آزاد } h=20 \text{ cm}}$$

$$F_{\text{کف}} = (800 \times 10 \times \frac{20}{100} + 10^5) 20 \times 10^{-4}$$

$$= (1/0.16 \times 10^5) (2 \times 10^{-3}) = 2/0.32 \times 10^2 = 203/2 \text{ N}$$

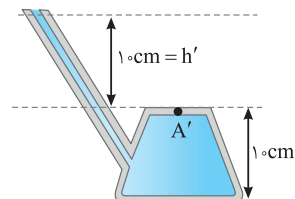


نکته: اگر نیروی وارد بر قسمت بالایی مخزن (A') توسط مایع خواسته شده

بود، به ترتیب زیر عمل می‌کنیم.

$$F' = PA' \Rightarrow F' = (P_0 + \rho gh') A' \xrightarrow{h'=10 \text{ cm}}$$

$$F' = (1/0.08 \times 10^5) (10^{-3}) = 100/8 \text{ N}$$



نکته ۲۹) در شکل زیر، لوله باریکی به یک مخزن متصل شده و مساحت کف

مخزن 100 cm^2 است. اگر داخل لوله و مخزن مایعی با چگالی 800 kg/m^3 باشد، نیرویی که از طرف مایع به کف مخزن وارد می‌شود، چند نیوتون است؟ ($g = 10 \text{ m/s}^2$)

خارج تجربی - ۹۲

۱۶ (۴) ۲۴ (۳) ۱۶۰ (۲) ۲۴۰ (۱)

گزینه ۳ ✓

ریاضی - ۹۵

۸۳ B

نیم‌نگاه

اگر دو مایع را در یک ظرف بریزیم و فشار وارد بر کف ظرف P باشد و سپس دو مایع را با هم مخلوط کنیم، همچنان فشار وارد بر کف ظرف P خواهد بود.

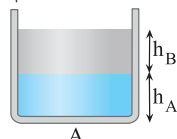
با توجه به نیم‌نگاه بالا مایع‌های درون ظرف را در حالتی که مخلوط نشده‌اند در نظر می‌گیریم.

یادآوری: مایعی که چگالی بیشتر دارد، ته‌نشین می‌شود.

۱) فشار وارد بر کف ظرف برابر مجموع فشارهایی

است که دو مایع بر کف ظرف وارد خواهند کرد.

$$P_{\text{کف}} = \rho_B gh_B + \rho_A gh_A \Rightarrow 4800 = 800 \times 10 \times h_B + 1600 \times 10 \times h_A$$



نکته چون در دو طرف معادله چگالی و ارتفاع داریم، کافی است یکای چگالی و ارتفاع در دو طرف معادله یکسان باشد:

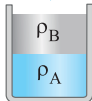
$$\rho'' \times 8 + 8 \times 12 = 6 \times 20 \Rightarrow 8\rho'' = 24 \Rightarrow \rho'' = 3 \text{ g/cm}^3$$

$$\frac{\text{g/cm}^3 \times 1000}{\text{kg/m}^3} \rightarrow \rho'' = 3000 \text{ kg/m}^3$$

نکته اضافی با توجه به شکل مایع ρ ته نشین شده و دارای بیشینه چگالی است و مایع ρ' به آن فشار وارد کرده و مایع ρ'' را از طرف دیگر به سمت بالا هل داده پس $\rho' < \rho''$.

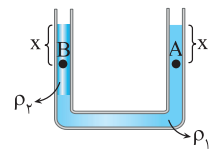
میانبر در سوالاتی که مایع‌ها در لوله U شکل در حال تعادل اند مجموع ρh های بالای خط تراز شاخه سمت راست برابر مجموع ρh های بالای خط تراز شاخه سمت چپ است.

۸۷ **A** آزمون مدارس برتر



یادآوری هر مایعی که چگالی بیشتری داشته باشد، در ظرف ته نشین می‌شود: $\rho_A > \rho_B$

در شاخه سمت چپ مایع ρ_1 ته نشین شده و مایع ρ_2 روی آن قرار گرفته است، پس $\rho_1 > \rho_2$.



نقاط A و B در عمق x از سطح آزاد مایع‌های ρ_1 و ρ_2 قرار گرفته‌اند پس:

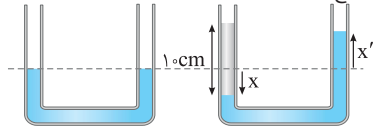
$$P_A = \rho_1 g x + P_0, P_B = \rho_2 g x + P_0$$

$$\rho_1 > \rho_2 \rightarrow P_A > P_B$$

۸۸ **B** ریاضی - ۹۱

در حل مسائل لوله U شکل که در آن‌ها به مایع درون ظرف مایع اضافه می‌شود، مراحل زیر را طی می‌کنیم:

- ابتدا یک لوله U شکل دیگر کنار شکل مسئله می‌کشیم (الف) کشیدن لوله U شکل جدید (ب) سطح مایعی که جابه‌جا می‌شود را در لوله جدید مشخص می‌کنیم. (خط چین)
- پ) اضافه کردن مایع جدید



با اضافه شدن مایع در یکی از شاخه‌ها سطح مایع اولیه در آن شاخه مقداری پایین آمده و در شاخه دیگر مقداری بالا می‌رود.

جابه‌جایی مایع در حالت جدید را در لوله مشخص می‌کنیم.

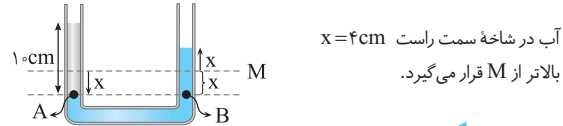
حجم مایع جابه‌جا شده در هر دو شاخه با هم برابر است. یعنی هر حجمی از مایع که در یک شاخه پایین می‌آید به همان حجم در شاخه دیگر بالا می‌رود. از این رو: حجم مایع اولیه که در شاخه سمت چپ پایین آمده

$$x \cdot V_1 = x' \cdot V_2 \Rightarrow V_1 = V_2 \Rightarrow Ax = Ax' \Rightarrow x = x'$$

حجم مایع اولیه که در شاخه سمت راست بالا رفته اکنون خط تراز جدید را رسم کرده و مسئله را حل می‌کنیم.

$$P_A = P_B \Rightarrow \rho_{\text{فت}} g h_{\text{فت}} = \rho_{\text{ب}} g h_{\text{ب}} \xrightarrow{h_{\text{ب}} = 2x}$$

$$0.8 \times 10 = 1 \times 2x \Rightarrow 2x = 8 \Rightarrow x = 4 \text{ cm}$$



آب در شاخه سمت راست بالاتر از M قرار می‌گیرد. **میانبر** اگر در لوله U شکل مایع در شاخه‌ای به سطح مقطع A_1 به اندازه h_1 پایین بیاید، در شاخه دیگر به سطح مقطع A_2 به اندازه h_2 بالا می‌رود:

$$\frac{h_1}{A_1} = \frac{A_2}{A_1} = \left(\frac{r_2}{r_1}\right)^2$$

۸۵ **C** خارج ریاضی - ۹۶



با توجه به چگالی آب و روغن، آب با چگالی بیشتر در ظرف ته نشین می‌شود و روغن با چگالی کمتر روی آب قرار می‌گیرد. (مطابق شکل)

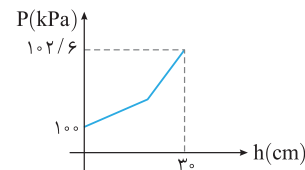
در سطح مایع ($h=0$) مطابق نمودار، فشار 100 kPa و در کف ظرف یعنی عمق 30 cm ، فشار $102/6 \text{ kPa}$ است، یعنی فشار حاصل از آب و روغن برابر است با:

$$P_{\text{کف}} = 102/6 \times 10^3 \text{ Pa} \Rightarrow P_{\text{آب}} + P_{\text{روغن}} + P_0 = 102/6 \times 10^3 \text{ Pa}$$

$$P_{\text{آب}} + P_{\text{روغن}} + 10^5 \text{ Pa} = 102/6 \times 10^3 \text{ Pa}$$

$$P_{\text{آب}} + P_{\text{روغن}} = (102/6 - 100) \times 10^3 \Rightarrow \rho_w g h_w + \rho_o g h_o = 2/6 \times 10^3 \text{ Pa}$$

$$\Rightarrow 1000 \times 10 \times h_w + 800 \times 10 \times h_o = 2600 \Rightarrow 100 h_w + 80 h_o = 26$$

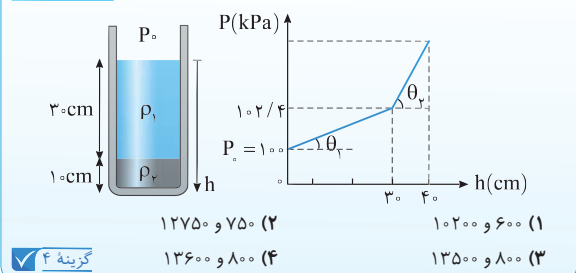


از طرفی مجموع ارتفاع دو مایع برابر 30 cm است، بنابراین خواهیم داشت:

$$\begin{cases} h_w + h_o = 30 \quad \times (-80) \rightarrow -80 h_w - 80 h_o = -2400 \\ 100 h_w + 80 h_o = 26 \end{cases}$$

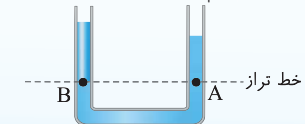
$$\frac{100 h_w + 80 h_o = 26}{20 h_w = 2 \Rightarrow h_w = 0.1 \text{ m} = 10 \text{ cm}}$$

نکته در ظرفی مطابق شکل زیر، دو مایع مخلوط نشده وجود دارد. اگر نمودار تغییرات فشار بر حسب عمق دو مایع مطابق شکل روبه‌رو باشد و $\tan \theta_2 = 17 \tan \theta_1$ باشد، ρ_2 و ρ_1 در SI کدام‌اند؟ **خارج ریاضی - ۹۶**



۸۶ **A**

نیم‌نگاه برای حل سوالات لوله U شکل که مایع‌ها در دو طرف شاخه در حال تعادل اند از خط تراز استفاده می‌کنیم.



خط تراز: خطی است افقی که آخرین مکان‌هایی را مشخص می‌کند که مایع در دو طرف یکسان است و ویژگی آن این است که فشار در تمام نقاط روی یک خط تراز یکسان است.

خط تراز لوله U شکل را می‌کشیم، فشار در نقطه‌های A و B برابر با فشاری است که مایع‌های بالای این نقاط به آن‌ها وارد می‌کنند:

$$P_A = P_B \Rightarrow P_0 + \rho'' g h'' + \rho g h = \rho' g h' + P_0$$

$$\rho'' h'' + \rho h = \rho' h'$$

۹۱ **A** قلم‌چی
فشار در عمق h از یک مایع به چگالی ρ برابر $P = \rho gh + P_0$ و فشار در سطح مایع ($h=0$) برابر P_0 است.

با توجه به صورت مسئله در عمق 50 cm فشار دو برابر فشار در سطح مایع یعنی دو برابر فشار هواست.

$$P = \rho g \frac{50}{100} + P_0 \xrightarrow{P=2P_0} \rho g \frac{50}{100} = P_0 \Rightarrow \rho g = \frac{P_0}{2} \Rightarrow \rho g = 2P_0$$

فشار در عمق 30 cm را حساب می‌کنیم:

$$P_1 = \rho g \frac{30}{100} + P_0 \xrightarrow{\rho g = 2P_0} P_1 = \frac{3}{5} P_0 + P_0 = \frac{8}{5} P_0$$

فشار در عمق 20 cm را حساب می‌کنیم:

$$P_2 = \rho g \frac{20}{100} + P_0 \xrightarrow{\rho g = 2P_0} P_2 = \frac{2}{5} P_0 + P_0 = \frac{7}{5} P_0$$

$$\frac{P_1}{P_2} = \frac{\frac{8}{5} P_0}{\frac{7}{5} P_0} = \frac{8}{7}$$

بنابراین نسبت P_1 به P_2 برابر است با: $\frac{8}{7}$

۹۲ **B** تجربی - ۹۶

۱ مایع درون ظرف‌ها و ارتفاع مایع‌ها یکسان است و با توجه به اینکه فشار از طرف مایع در کف از رابطه $P = \rho gh$ به دست می‌آید، خواهیم داشت:

$$\begin{cases} P_A = \rho_A gh_A \\ P_B = \rho_B gh_B \end{cases} \xrightarrow{\rho_A = \rho_B = \rho_{\text{آب}}, h_A = h_B = h} P_A = P_B$$

۲ نیروی وارد بر کف ظرف از طرف مایع از رابطه $F = PA$ به دست می‌آید:

$$\begin{cases} F_B = P_B A_B \\ F_A = P_A A_A \end{cases} \xrightarrow{\div} \frac{F_B}{F_A} = \frac{P_B}{P_A} \times \frac{A_B}{A_A} \xrightarrow{P_A = P_B = \rho gh} \frac{F_B}{F_A} = \frac{1}{2}$$

اگر در این سؤال گفته می‌شد در هر دو ظرف جرم یکسانی آب ریخته شده است، در این صورت فشار وارد بر کف ظرف به دلیل استوانه‌ای بودن طرف‌ها از رابطه $P = \frac{mg}{A}$ مقایسه می‌شد:

$$\frac{P_B}{P_A} = \frac{\frac{mg}{A_B}}{\frac{mg}{A_A}} \Rightarrow \frac{P_B}{P_A} = \frac{A_A}{A_B}$$

و نیروی وارد بر کف ظرف‌ها با وزن مایع درون ظرف‌ها یکسان است: $F_A = F_B = mg$

۳۴ **تست** مکعبی به ضلع 60 cm پر از آب است. اگر همه آب این مکعب را درون استوانه‌ای که مساحت قاعده آن 360 cm^2 مترمربع است بریزیم، فشاری که این آب در کف استوانه ایجاد می‌کند، چند برابر فشاری است که در کف مکعب ایجاد می‌کند؟

تجربی - ۹۶
گزینه ۴

۹۳ **B**

۱ **نکته** در هر ظرفی با هر شکلی نیروی وارد بر تکیه‌گاه با سطح میز برابر $F_N = mg$ است، چون مقدار آب و جرم ظرف‌ها یکسان است پس نیروی وارد بر تکیه‌گاه هر دو ظرف با هم برابر است. بنابراین فشاری که توسط ظرف A و ظرف B بر سطح میز وارد می‌شود $(F = \frac{W}{A})$ یکسان است زیرا وزن دو ظرف و مساحت قاعده آن‌ها یکی است.

۲ **نکته** ظرف N سطح مقطع ثابتی ندارد، بنابراین فشار آن از رابطه $P = \rho gh$ به دست می‌آید.

ابتدا حجم آب در ظرف M را حساب می‌کنیم. $V_M = A_M h_M = 10 \times 20 = 200\text{ cm}^3$
این حجم آب در ظرف N ریخته می‌شود و ابتدا حجم قسمت پهن ظرف N (V_1) و سپس جیمی از قسمت باریک‌تر ظرف (V_2) را پر می‌کند.

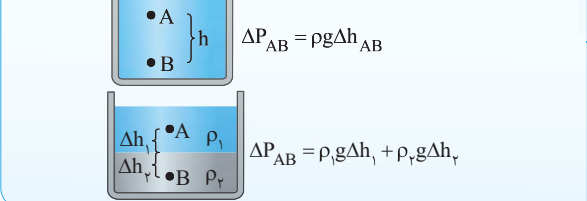
۳۳ **تست** در شکل مقابل در لوله U شکل آب ریخته شده و نقطه M روی لوله نشانه‌گذاری شده است. اگر در قسمت سمت راست لوله، روی آب به ارتفاع 5 سانتی‌متر نفت بریزیم، در لوله مقابل، سطح آب چند سانتی‌متر از نقطه M بالاتر می‌رود؟ (چگالی نفت و آب به ترتیب 0.8 و 1 گرم بر سانتی‌متر مکعب است.)

ریاضی - ۹۱
گزینه ۲

۱ (۱) ۲ (۲) ۳ (۳) ۴ (۴) ۵ (۵)

۸۹ **B**

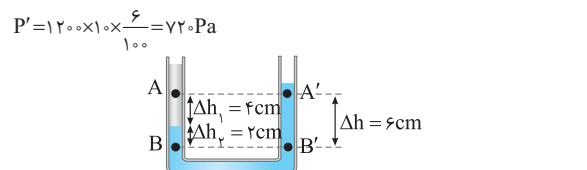
۱ **بیم‌نگاه** اختلاف فشار بین دو نقطه از مایع‌ها برابر فشاری است که بین دو نقطه وجود دارد.



۲ **بیادوی** مایعی که ته نشین می‌شود دارای چگالی بیشتری است، پس مایع ته نشین شده دارای چگالی $\rho_2 = 1/2\text{ g/cm}^3$ است.

دو نقطه A' و B' در یک مایع قرار دارند و اختلاف فشار بین آن‌ها برابر است با:

$$\Delta P_{A'B'} = \rho_2 g \Delta h \xrightarrow{\Delta P_{A'B'} = P'} P' = 1200 \times 10 \times \frac{6}{100} = 720\text{ Pa}$$



دو نقطه A و B در دو مایع قرار دارند از این‌رو:

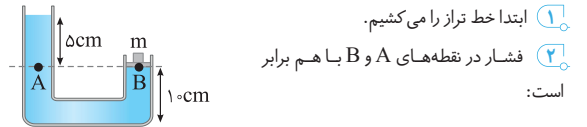
$$\Delta P_{AB} = \rho_1 g \Delta h_1 + \rho_2 g \Delta h_2 \xrightarrow{\Delta P_{AB} = P} P = 6000 \times 10 \times \frac{4}{100} + 1200 \times 10 \times \frac{2}{100} = 480\text{ Pa}$$

$$P' - P = 720 - 480 = 240\text{ Pa}$$

اکنون $P' - P$ را حساب می‌کنیم.

۹۰ **B**

۱ **نکته** فشار اعمالی از طرف پیستون به یک مایع برابر است با: $P = \frac{mg}{A}$



$$P_A = P_B \Rightarrow P_0 + \rho gh = P_0 + \frac{mg}{A} \Rightarrow \rho gh = \frac{mg}{A}$$

حال در رابطه بالا، داده‌های سؤال را قرار می‌دهیم (دقت کنید چون کمیت‌های یکسانی در دو طرف معادله نداریم، پس تمام کمیت‌ها را با یکای SI آن‌ها قرار می‌دهیم). **بیادوی** به تبدیل یکاها دقت کنید:

$$1\text{ cm}^2 \xrightarrow{\times 10^{-4}} 1\text{ m}^2, \quad 1\text{ g/cm}^3 \xrightarrow{\times 1000} 1\text{ kg/m}^3$$

$$1\text{ g} \xrightarrow{\times 10^{-3}} 1\text{ kg}$$

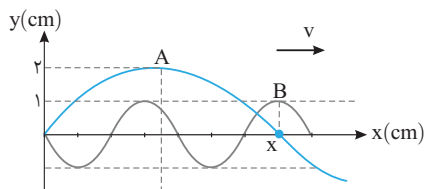
$$\rho gh = \frac{mg}{A} \xrightarrow{\rho = 600\text{ kg/m}^3, h = \frac{5}{100}\text{ m}, A = 5 \times 10^{-4}\text{ m}^2} 600 \times 10 \times \frac{5}{100} = \frac{m \times 10}{5 \times 10^{-4}}$$

$$\Rightarrow 3000 = \frac{10m}{5 \times 10^{-4}} \Rightarrow m = 150 \times 10^{-4}\text{ kg} = 15\text{ dg}$$

۱۱۴۵ B

با توجه به نمودارها می‌توان نوشت:

$$\begin{cases} x = \frac{\lambda_A}{2} \\ x = \lambda_B + \frac{\lambda_B}{2} + \frac{\lambda_B}{4} \end{cases} \Rightarrow \frac{\lambda_A}{2} = \lambda_B + \frac{\lambda_B}{2} + \frac{\lambda_B}{4} \Rightarrow \frac{\lambda_A}{2} = \frac{7\lambda_B}{4} \Rightarrow \lambda_A = \frac{7}{2}\lambda_B$$



تندی انتشار موج برای هر دو موج یکسان است زیرا محیط انتشار دو موج یکی است.

$$\lambda = \frac{v}{f} \Rightarrow \frac{v_A}{f_A} = \frac{v_B}{f_B} \Rightarrow \frac{\lambda_A}{\lambda_B} = \frac{f_B}{f_A} \Rightarrow \frac{7}{2} = \frac{f_B}{f_A} \Rightarrow \frac{f_A}{f_B} = \frac{2}{7}$$

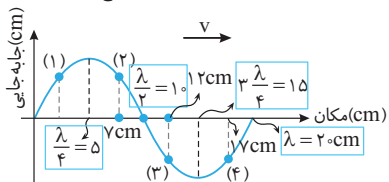
مقدار متوسط آهنگ انتقال انرژی موج (توان متوسط) با مربع دامنه و مربع بسامد نسبت مستقیم دارد بنابراین:

$$\frac{\bar{P}_A}{\bar{P}_B} = \left(\frac{f_A}{f_B}\right)^2 \times \left(\frac{A_A}{A_B}\right)^2 = \left(\frac{2}{7}\right)^2 \times \left(\frac{2}{1}\right)^2 \Rightarrow \frac{\bar{P}_A}{\bar{P}_B} = \frac{16}{49}$$

۱۱۴۶ B

مکان‌های پیشنهادی گزینه‌ها را روی نمودار مشخص می‌کنیم و نوع حرکت‌ها را بررسی می‌کنیم.

نکته: چون چشمه در مبدأ مختصات قرار گرفته پس موج به سمت راست منتشر می‌شود:



نقطه قبل از نقطه (۱) پایین‌تر از آن قرار دارد پس ذره (۱) به سمت پایین در حال حرکت بوده و سرعت آن منفی است و چون در حال نزدیک شدن به وضع تعادل است پس حرکت آن تندشونده می‌باشد.

نقاط قبل از ذره‌های (۲) و (۳) به ترتیب بالاتر از آن‌ها قرار دارد و این دو ذره در حال حرکت به سمت بالا بوده و سرعت آن‌ها مثبت است.

نقطه قبل از ذره (۴) نیز پایین‌تر از مکان (۴) است و ذره در حال حرکت به سمت نقطه بازگشت -A بوده و حرکت آن کندشونده است.

۱۱۴۷ B

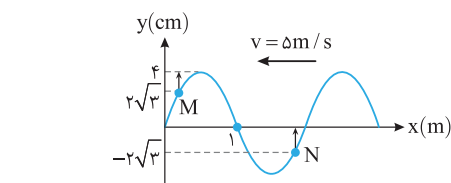
خارج ریاضی - ۹۳

با توجه به نمودار طول موج برابر است با:

$$\frac{\lambda}{2} = 1 \Rightarrow \lambda = 2 \text{ m}$$

دوره و بسامد موج خواهد شد:

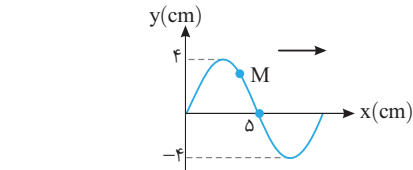
$$v = f\lambda \Rightarrow \Delta = f(\lambda) \Rightarrow f = \frac{\Delta}{\lambda} \text{ Hz}, T = \frac{1}{f} \text{ s}$$



۱۱۴۳ B

خارج تجربی - ۹۸

با توجه به نمودار طول موج خواهد شد



بیادآوری: یک ذره که دارای حرکت هماهنگ ساده است در هر دوره (T) مسافتی چهار برابر دامنه (4A) و در مدت نیم دوره (T/2) مسافتی دو برابر دامنه (2A) طی می‌کند.

دامنه این موج 4 cm است و ذره M در مدت 0.25 s مسافت 8 cm یعنی دو برابر دامنه را طی کرده است، بنابراین 0.25 s برابر نصف دوره است.

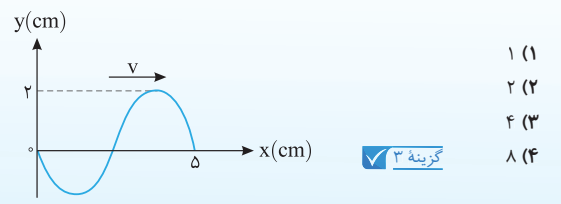
$$\frac{T}{2} = 0.25 \text{ s} \Rightarrow T = 0.5 \text{ s}$$

تندی انتشار موج خواهد شد:

$$v = \frac{\lambda}{T} \Rightarrow v = \frac{0.1}{0.5} \Rightarrow v = 0.2 \text{ m/s}$$

نقشه ۴۵۸ نقش یک موج عرضی که در یک طناب با سرعت 20 cm/s در حال انتشار است، مطابق شکل رویه‌رو است. مسافتی که یک ذره از طناب در مدت 1/8 s طی می‌کند، چند سانتی‌متر است؟

خارج تجربی - ۹۸

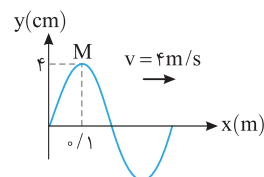


- ۱ (۱)
- ۲ (۲)
- ۴ (۳)
- ۸ (۴)

گزینه ۳

۱۱۴۴ B

با توجه به نمودار طول موج برابر است با:



$$\frac{\lambda}{4} = 0.1 \Rightarrow \lambda = 0.4 \text{ m}$$

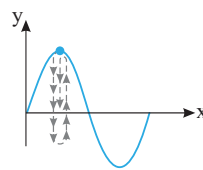
دوره موج خواهد شد:

$$\lambda = vT \Rightarrow 0.4 = 4T \Rightarrow T = 0.1 \text{ s}$$

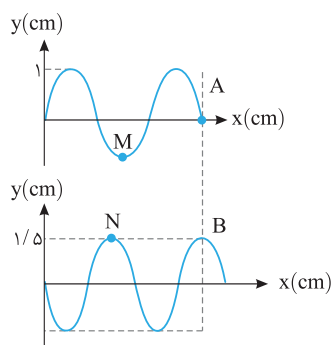
بررسی می‌کنیم که بازه صفر تا 1/8 s چه کسری از دوره است:

$$\frac{\Delta t}{T} = \frac{0.1}{0.1} = 1 \Rightarrow \Delta t = T = T + \frac{T}{4}$$

بنابراین ذره M در مدت یک دوره (T) به جای خود یعنی +A بازمی‌گردد و در T/4 بعدی از +A به حالت تعادلش می‌رسد که در این نقطه دارای بیشینه سرعت و جهت حرکت آن روبه پایین است.



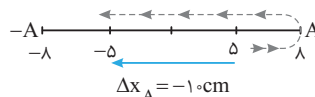
$$v = -v_m = -A\omega \Rightarrow \omega = \frac{2\pi}{T} \Rightarrow v = -\frac{4}{100} \left(\frac{2\pi}{10}\right) \Rightarrow v = -\frac{4\pi}{500} \text{ m/s}$$



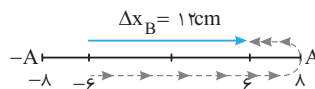
بنابراین بازه داده شده از دو قسمت T و $\frac{T}{4}$ تشکیل شده است. در یک حرکت هماهنگ ساده، مسافت طی شده در مدت یک دوره T ، چهار برابر دامنه ($4A$) است و در بازه $\frac{T}{4}$ مسافت طی شده دو برابر دامنه ($2A$) است، بنابراین ذره A و ذره B هر دو مسافتی برابر $6A = 48 \text{ cm}$ را طی می‌کنند و نسبت مسافت طی شده آنها برابر یک است.

$\frac{L_A}{L_B} = \frac{4A}{4A} = 1$

اما جابه‌جایی آنها چگونه است؟ ذره A در مدت T به مکان اولیه‌اش یعنی $5 \text{ cm} +$ برمی‌گردد و در مدت $\frac{T}{4}$ باقی‌مانده مکان یک نوسانگر قرینه می‌شود یعنی مکان A . $5 \text{ cm} -$ خواهد شد:



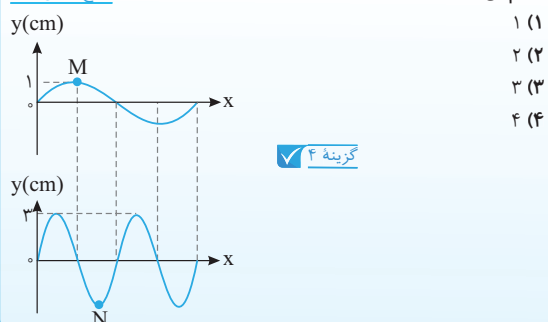
ذره B نیز در مدت T به مکان اولیه‌اش یعنی $6 \text{ cm} -$ برمی‌گردد و در مدت $\frac{T}{4}$ باقیمانده مکان B نیز قرینه می‌شود یعنی $6 \text{ cm} +$ می‌شود.



در این صورت نسبت جابه‌جایی دو ذره خواهد شد:

$$\frac{\Delta x_A}{\Delta x_B} = \frac{-10}{12} = -\frac{5}{6}$$

در شکل مقابل، دو موج عرضی با تندی‌های مساوی در دو طناب منتشر می‌شوند. در مدت زمانی که ذره M ، دو نوسان انجام می‌دهد، ذره N چند نوسان انجام می‌دهد؟



B ۱۱۵۲

۱ طول موج را حساب می‌کنیم.

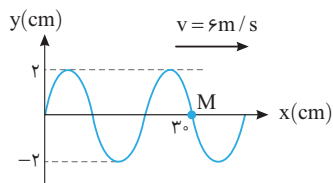
$$\frac{3\lambda}{2} = 30 \Rightarrow \lambda = 20 \text{ cm} \Rightarrow \lambda = 0.2 \text{ m}$$

۲ دوره موج را به دست می‌آوریم:

$$\lambda = vT \Rightarrow 0.2 = 6T \Rightarrow T = \frac{1}{30} \text{ s}$$

بازه زمانی داده شده را بر حسب دوره مشخص می‌کنیم.

$$\frac{\Delta t}{T} = \frac{1}{\frac{1}{30}} \Rightarrow \Delta t = \frac{1}{2}$$



در مدت نیم دوره با توجه به نقش موج، ذره M از حالت تعادلش به دامنه رفته و به مرکز تعادلش برمی‌گردد بنابراین در لحظه t دارای سرعت $v_m = A\omega$ و در لحظه $t + \frac{1}{60} \text{ s}$ دارای سرعت $v = -A\omega$ است.

$$-A \longleftarrow \text{A}$$

بسامد زاویه‌ای را حساب می‌کنیم.

$$\omega = \frac{2\pi}{T} \Rightarrow \omega = \frac{2\pi}{\frac{1}{30}} \Rightarrow \omega = 60\pi \text{ rad/s}$$

بیشینه سرعت ذره برابر است با:

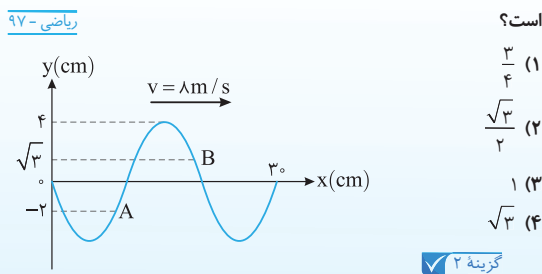
$$v_m = A\omega = 0.2 \times 60\pi \Rightarrow v_m = 12\pi \text{ m/s}$$

بنابراین شتاب متوسط خواهد شد:

$$a_{av} = \frac{v_2 - v_1}{\Delta t} = \frac{-A\omega - A\omega}{\Delta t} \Rightarrow a_{av} = \frac{-2A\omega}{\Delta t}$$

$$\Rightarrow a_{av} = \frac{-2 \times 0.2 \times 60\pi}{\frac{1}{60}} \Rightarrow a_{av} = -144\pi \text{ m/s}^2$$

نقش یک موج عرضی در طنابی در لحظه $t = 0$ مطابق شکل زیر است. در بازه زمانی $0 \leq t \leq \frac{1}{80} \text{ s}$ ، چند برابر جابه‌جایی ذره A



B ۱۱۵۱

با توجه به نقش موج‌های ارائه شده می‌توان نوشت:

$$3 \frac{\lambda_A}{2} = \frac{7\lambda_B}{4} \Rightarrow \lambda_A = \frac{7}{6}\lambda_B$$

در مدت زمانی که ذره M ، نوسان در طناب A انجام می‌دهد، ذره N در طناب B ، نوسان انجام می‌دهد از این رو:

$$T = \frac{t}{N} \Rightarrow \frac{T_A}{N_A} = \frac{N_B}{N_A} \Rightarrow \frac{T_A}{T_B} = \frac{5}{2}$$

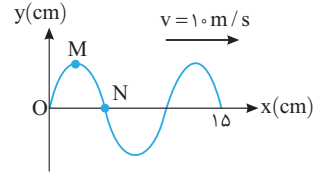
اکنون به سراغ تندی انتشار موج در دو طناب می‌رویم:

$$v = \frac{\lambda}{T} \Rightarrow \frac{v_A}{v_B} = \frac{\lambda_A}{\lambda_B} \times \frac{T_B}{T_A} \Rightarrow \frac{v_A}{v_B} = \frac{7}{6} \times \frac{2}{5} = \frac{7}{15}$$

۱۱۵۳ C

طول موج را به دست می آوریم.

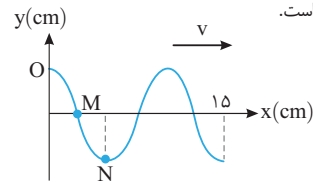
دوره را حساب می کنیم.



نقش موج در لحظه $t = \frac{3}{400}$ s داده شده است و نقش موج را در $\frac{3}{400} - \frac{1}{200} = \frac{1}{400}$ s قبل خواسته است، اکنون مشخص می کنیم $\frac{1}{400}$ s چه کسری از دوره است.

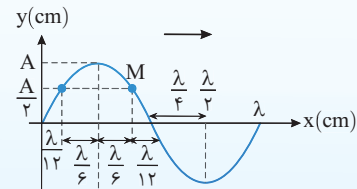
$$\frac{\Delta t}{T} = \frac{\frac{1}{400}}{\frac{1}{100}} \Rightarrow \Delta t = \frac{T}{4}$$

کافی است مشخص کنیم ذره O، قبل از لحظه نشان داده در چه مکانی بوده است. قطعاً ذره O در مکان +A بوده است که پس از $\frac{T}{4}$ به حالت تعادلش رسیده است و نقطه M، $\frac{T}{4}$ قبل در مکان صفر و نقطه N، $\frac{T}{4}$ قبل در مکان -A بوده است از این رو نقش موج به صورت زیر است.



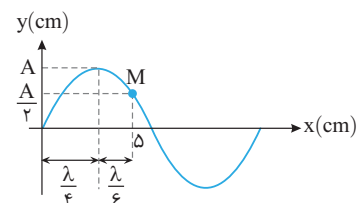
۱۱۵۴ B

طول موج، مسافتی است که موج در مدت یک دوره T طی می کند. در واقع در مدتی که موج به اندازه λ به جلو می رود هر ذره از محیط یک نوسان کامل انجام می دهد. یعنی در مدت $\frac{T}{12}$ که ذره از مبدأ به مکان $\frac{A}{2}$ می رود موج به اندازه $\frac{\lambda}{12}$ جلو می رود.



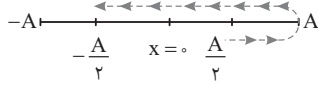
با توجه به نمودار سؤال می توان نوشت: $\frac{\lambda}{4} + \frac{\lambda}{6} = \Delta \Rightarrow \frac{3\lambda + 2\lambda}{12} = \Delta \Rightarrow \lambda = 12 \text{ cm}$

دوره موج برابر است با: $T = \frac{\lambda}{v} \Rightarrow T = \frac{12}{6} \Rightarrow T = 2 \text{ s}$



بازه $\Delta t = 0.1 \text{ s}$ نصف دوره ($T = 0.2 \text{ s}$) است و در $\frac{T}{2}$ ذره M مسیر زیر را از

$x = 0$ تا $+\frac{A}{2}$ طی می کند. از $+\frac{A}{2}$ تا A حرکت کندشونده، از $x = 0$ تا $-\frac{A}{2}$ حرکت کندشونده و از $x = 0$ تا $-\frac{A}{2}$ حرکت کندشونده است.

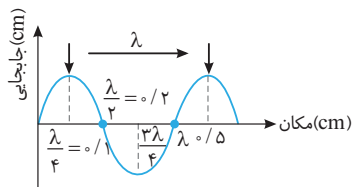


۱۱۵۵ A

با توجه به بسامد موج، دوره آن را به دست می آوریم:

$$f = 10 \text{ Hz} \Rightarrow T = \frac{1}{10} \text{ s} \Rightarrow T = 0.1 \text{ s}$$

در مدت یک دوره موج به اندازه λ جلو می رود پس قله نشان داده شده نیز در مدت 0.1 s به اندازه $\lambda = 0.4 \text{ m}$ جلو رفته و به مکان $0.1 + 0.4 = 0.5 \text{ m}$ می رسد.

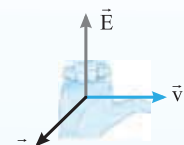


خسته نباشید این آزمون کمی سخت و بیشتر وقت گیر بود اما همان طور که دیدید بیشتر سؤالات مشابه کنکور بودند و این نشان می دهد سؤالات مربوط به این بخش کنکور نیز سخت و وقت گیر هستند.

۱۱۵۶ A

امواج الکترومغناطیسی دارای مشخصه های زیر هستند:

۱. از یک میدان الکتریکی و یک میدان مغناطیسی عمود بر هم تشکیل شده اند.
۲. این میدانها بر راستای پیشروی موج عمودند و از قاعده دست راست شکل روبه رو پیروی می کنند.
۳. میدانها دارای بسامد و طول موج یکسان هستند و با هم همگام هستند.
۴. تندی انتشار همه امواج الکترومغناطیسی در خلأ (نه همه محیطها) یکسان و برابر $c = \sqrt{\frac{1}{\epsilon_0 \mu_0}}$ است.
۵. این امواج عرضی بوده و حامل انرژی هستند و انرژی را به صورت انرژی میدانهای الکتریکی و مغناطیسی منتقل می کنند.



نیم نگاه ۲

هر تغییری در میدان الکتریکی در هر نقطه از فضا، میدان مغناطیسی متغیری ایجاد می کند. در آزمایش القای الکترومغناطیسی فاراده، هر تغییری در میدان مغناطیسی در هر نقطه از فضا میدان الکتریکی متغیری ایجاد می کند (پیش بینی ماکسول).

نیم نگاهها را دوباره با دقت بخوانید. حتماً متوجه می شوید که گزاره (الف) درست و گزاره های (ب) و (ت) نادرست است. اما درباره گزاره (پ) انتقال انرژی در امواج مکانیکی به صورت انرژی جنبشی و پتانسیل است نه در امواج الکترومغناطیسی و گزاره (ب) نیز نادرست است.

۱۶۲۴ B

یادآوری در حرکت با شتاب ثابت متوسط در بازه زمانی t_1 تا t_2 با سرعت

$$\text{لحظه‌ای در زمان } \frac{t_1+t_2}{2} \text{ برابر است.}$$

نمودار حرکت متحرک B خط قاطع نمودار حرکت متحرک A بین دو لحظه $t=2s$ تا $t=4s$ است. شیب خط قاطع در نمودار $x-t$ برابر سرعت متوسط بین دو لحظه است، همچنین شیب خط B برابر سرعت متحرک B است.

$$v_B = v_{av}(2s \text{ تا } 4s) \xrightarrow{\text{با توجه به یادآوری}} v_B = v_A(t=3s) = v$$

در لحظه $t=3s$ سرعت دو متحرک یکسان و برابر v است. t ثانیه بعد از این لحظه تندی متحرک A برابر است با:

$$v' = at + v \Rightarrow v' = 1/\Delta t + v$$

سرعت متحرک B ثابت و برابر v است. در سؤال لحظه‌ای که سرعت متحرک A، $3m/s$ بیشتر از متحرک B باشد را خواسته است.

$$v' - v = 1/\Delta t \Rightarrow 3 = 1/\Delta t \Rightarrow t = 2s$$

بنابراین $2s$ بعد از لحظه‌ای که سرعت دو متحرک با هم برابر است، سرعت متحرک A، $3m/s$ بیشتر از سرعت متحرک B است، یعنی در $3+2=5s$ این اتفاق می‌افتد.

آزمون ۸۱، ۸۲ و ۸۳

۱۶۲۵ B

هنگامی که انرژی پتانسیل کشسانی فنر بیشینه می‌شود، تندی گلوله صفر شده و گلوله به‌طور لحظه‌ای متوقف می‌شود.

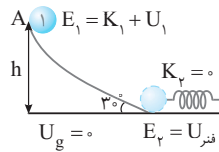
سطح زمین را مبدأ پتانسیل گرانشی گرفته و با توجه به پایستگی انرژی داریم:

$$E_p - E_1 = W_f \Rightarrow (U_{\text{فنر}}) - (U_g + K) = W_f$$

$$\Rightarrow 13 - mgh - \frac{1}{2}mv^2 = -5$$

$$\Rightarrow 13 - 0.1 \times 10 \times h - \frac{1}{2} \times 0.1 \times 10^2 = -5$$

$$\Rightarrow 13 - h - 5 = -5 \Rightarrow h = 13m$$



آزمون ۱۷، ۱۸، ۱۹ و ۲۰

۱۶۲۶ B

شتاب جسم $m_A = m$ برابر است با: $F = m_A a_A \Rightarrow a_A = \frac{F}{m}$

شتاب جسم $m_B = \frac{m}{2}$ برابر است با:

$$\frac{F}{2} = m_B a_B \Rightarrow a_B = \frac{2}{3} \frac{F}{m} \xrightarrow{a_A = \frac{F}{m}} a_B = \frac{2}{3} a_A$$

هر دو جسم از حال سکون شروع به حرکت کرده‌اند و جابه‌جایی هریک را حساب می‌کنیم:

$$\Delta x = \frac{1}{2}at^2 + v_0 t \xrightarrow{v_0=0} \Delta x = \frac{1}{2}at^2$$

$$\Rightarrow \begin{cases} \Delta x_A = \frac{1}{2}a_A(t^2) \Rightarrow \Delta x_A = \frac{1}{2}a_A t^2 \\ \Delta x_B = \frac{1}{2}a_B(\frac{2}{3}t)^2 \Rightarrow \Delta x_B = \frac{2}{9}a_A t^2 \end{cases}$$

$$\Rightarrow \frac{\Delta x_B}{\Delta x_A} = \frac{\frac{2}{9}a_A t^2}{\frac{1}{2}a_A t^2} = \frac{4}{9} \frac{a_B}{a_A} \xrightarrow{a_B = \frac{2}{3}a_A} \frac{\Delta x_B}{\Delta x_A} = \frac{4}{9} \times \frac{2}{3} = \frac{8}{27}$$

آزمون ۸۶

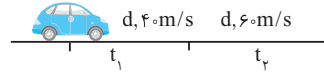
۱۶۲۱ A

طبق اصل برنولی در مسیر حرکت شاره (که به صورت لایه‌ای باشد) با افزایش تندی شاره، فشار شاره کاهش می‌یابد و گزاره (الف) درست است. / با توجه به معادله پایستگی در حالت پایا و در مدت زمان یکسان، جرم یکسانی از شاره، از هر سطح مقطع دلخواه لوله می‌گذرد و گزاره (ب) درست است. / برای پرهیز از پیچیدگی‌ها، مدل آرمانی و ساده شده‌ای از یک شاره در حال حرکت و بدون تلاطم را بررسی می‌کنیم، افزون بر این فرض می‌کنیم شاره تراکم‌ناپذیر است و اصطکاک داخلی ندارد و گزاره (پ) درست است.

آزمون ۱۳

۱۶۲۲ B

حالت اول: اگر مسیر حرکت $2d$ طول داشته باشد، d متر اول با تندی ثابت $40m/s$ و d متر بعدی با تندی $60m/s$ طی شده است از این‌رو:

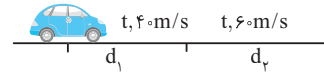


$$v_1 = \frac{d}{t_1} \Rightarrow t_1 = \frac{d}{40}, \quad v_2 = \frac{d}{t_2} \Rightarrow t_2 = \frac{d}{60}$$

سرعت متوسط متحرک در این حالت برابر است با:

$$v_{av} = \frac{d_1+d_2}{t_1+t_2} \Rightarrow v_{av} = \frac{d+d}{\frac{d}{40}+\frac{d}{60}} = \frac{2d}{\frac{5d}{120}} = \frac{240}{5} = 48m/s$$

حالت دوم: اگر مدت زمان حرکت را $2t$ در نظر بگیریم، t ثانیه اول با تندی $40m/s$ و t ثانیه بعد با تندی $60m/s$ طی شده است.



$$v'_1 = \frac{d_1}{t} \Rightarrow d_1 = 40t, \quad v'_2 = \frac{d_2}{t} \Rightarrow d_2 = 60t$$

$$v'_{av} = \frac{d_1+d_2}{t_1+t_2} \Rightarrow v'_{av} = \frac{40t+60t}{2t} = 50m/s$$

بنابراین نسبت $\frac{v'_{av}}{v_{av}}$ برابر است با: $\frac{v'_{av}}{v_{av}} = \frac{50}{48} = \frac{25}{24}$

میانبر

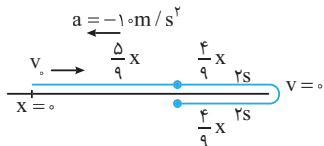
اگر متحرک در بازه‌های زمانی یکسان با تندی‌های ثابت در یک جهت روی خط راست در حال حرکت باشد، سرعت متوسط آن برابر میانگین سرعت‌هاست.

$$v_{av} = \frac{v_1 + v_2 + \dots + v_n}{n}$$

آزمون ۷۲ و ۷۳

۱۶۲۳ B

مسیر حرکت را رسم می‌کنیم.



متحرک در مدت $2s$ جابه‌جایی $\frac{4}{9}x$ را با شتاب $-10m/s^2$ طی می‌کند، بنابراین

می‌توان فرض کرد متحرک از محل تغییر جهت در مدت $2s$ با شتاب $10m/s^2$ جابه‌جایی $\frac{4}{9}x$ را طی کرده است. بنابراین:

$$\Delta x = \frac{1}{2}at^2 \Rightarrow \frac{4}{9}x = \frac{1}{2} \times 10 \times 2^2 \Rightarrow x = 45m$$

در این صورت سرعت اولیه خواهد شد:

$$v^2 - v_0^2 = 2a\Delta x \Rightarrow 0 - v_0^2 = 2 \times (-10) \times 45 \Rightarrow v_0 = 30m/s$$

آزمون ۷۷، ۷۸، ۷۹ و ۸۰

۱۶۲۹ B

یادآوری ۱ اگر فشار در نقطه‌ای از مایع P باشد، فشار در نقطه‌ای h متر بالاتر از آن P-pgh است: $P_A = P - \rho gh$

یادآوری ۲ مایع با چگالی بیشتر ته‌نشین می‌شود، بنابراین چگالی مایعی که پایین‌تر قرار گرفته 1500 kg/m^3 است. فشار روی خط تراز یکسان است. فشار در نقاط A و B را با توجه به فشار روی خط تراز به دست می‌آوریم:

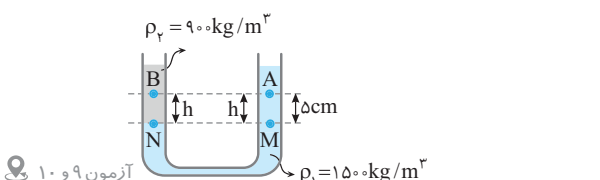
$$P_M = P_N = P$$

$$P_A = P_M - \rho_1 gh \Rightarrow P_A = P - 1500 \times 10 \times \frac{\Delta}{100} = P - 75\Delta$$

$$P_B = P_N - \rho_2 gh \Rightarrow P_B = P - 900 \times 10 \times \frac{\Delta}{100} = P - 45\Delta$$

حال اختلاف فشار بین A و B را حساب می‌کنیم:

$$P_B - P_A = (P - 45\Delta) - (P - 75\Delta) = 30\Delta \text{ Pa}$$



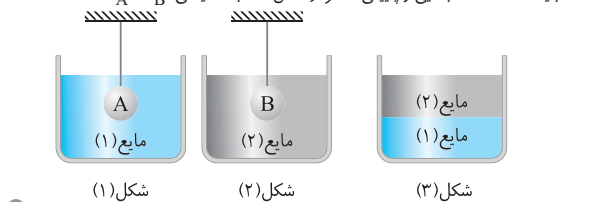
آزمون ۹ و ۱۰

۱۶۳۰ C

یادآوری نیروی شناوری وارد بر یک جسم به دلیل اختلاف فشار مایع در بالا و پایین جسم است $\Delta P = \rho g \Delta h$

با توجه به شکل (۳) مایع (۱) ته‌نشین شده بنابراین چگالی مایع (۱) از چگالی مایع (۲) بیشتر است.

نیروی شناوری وارد بر دو جسم برابر بوده و $\rho_1 > \rho_2$ است، بنابراین در شکل (۱) باید فاصله نقطه بالایی و پایینی کمتر از شکل (۲) باشد یعنی $r_A < r_B$.



شکل (۱) شکل (۲) شکل (۳)

آزمون ۱۳

۱۶۳۱ A

ابتدا تغییر دما را برحسب سیلسیوس به دست می‌آوریم.

$$\Delta F = \frac{9}{5} \Delta \theta \Rightarrow -45 = \frac{9}{5} \Delta \theta \Rightarrow \Delta \theta = -25^\circ \text{C}$$

اکنون کاهش حجم را حساب می‌کنیم.

$$\Delta V = V_1 \beta \Delta \theta \Rightarrow \Delta V = 30 \times 10^{-3} \times (-25)$$

$$\Rightarrow \Delta V = -750 \times 10^{-3} \text{ m}^3 \Rightarrow \Delta V = -750 \text{ L}$$

آزمون ۲۴ و ۲۶

۱۶۳۲ B

آب گرما از دست داده و مس و آلومینیم گرما گرفته‌اند، بنابراین:

$$Q_{\text{آب}} + Q_{\text{مس}} + Q_{\text{آلومینیم}} = 0 \Rightarrow Q_{\text{مس}} + Q_{\text{آلومینیم}} = -Q_{\text{آب}}$$

$$m_{\text{Cu}} c_{\text{Cu}} \Delta \theta_{\text{Cu}} + m_{\text{Al}} c_{\text{Al}} \Delta \theta_{\text{Al}} = -m_{\text{W}} c_{\text{W}} \Delta \theta_{\text{W}}$$

جرم مس و آلومینیم یکسان بوده و تغییر دمای مس، آلومینیم و آب به ترتیب $65 - 20 = 45^\circ \text{C}$ ، $65 - 35 = 30^\circ \text{C}$ و $65 - 70 = -5^\circ \text{C}$ است:

$$\frac{m_{\text{Cu}} = m_{\text{Al}}}{\Rightarrow m_{\text{Cu}} \times 400 \times 45 + m_{\text{Cu}} \times 900 \times 30 = -900 \times 400 \times (-5)}$$

دو طرف معادله را بر ۹۰۰ تقسیم می‌کنیم:

$$20 m_{\text{Cu}} + 30 m_{\text{Cu}} = 20 \Rightarrow 50 m_{\text{Cu}} = 20 \Rightarrow m_{\text{Cu}} = 0.4 \text{ kg} \Rightarrow m_{\text{Cu}} = 400 \text{ g}$$

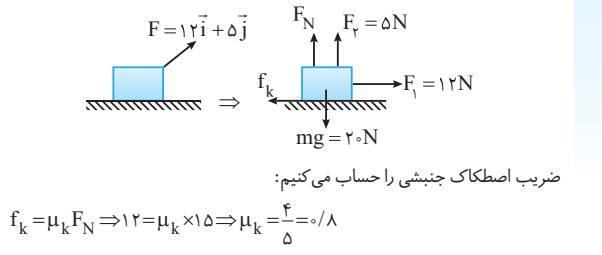
آزمون ۲۸، ۲۹ و ۲۸

۱۶۲۷ B

نیروی $\vec{F} = 12\vec{i} + 5\vec{j}$ دارای دو مؤلفه نیرو در امتداد افقی و قائم به ترتیب $F_x = 12 \text{ N}$ و $F_y = 5 \text{ N}$ می‌باشد. در ابتدا جسم با سرعت ثابت در حال حرکت است بنابراین نیروهای وارد بر جسم متوازن است:

در راستای قائم: $5 + F_N = 20 \Rightarrow F_N = 15 \text{ N}$

در راستای افقی: $F_x = f_k \Rightarrow f_k = 12 \text{ N}$



با حذف مؤلفه قائم نیروی عمودی سطح و نیروی اصطکاک تغییر می‌کند. جسم در راستای قائم ساکن است

$$F'_N = mg \Rightarrow F'_N = 20 \text{ N}$$

نیروی اصطکاک جنبشی: $f'_k = \mu_k F'_N \Rightarrow f'_k = 0.8 \times 20 = 16 \text{ N}$

با توجه به قانون دوم نیوتون شتاب حرکت متحرک را حالت جدید به دست می‌آوریم:

$$F_x - f'_k = ma' \Rightarrow 12 - 16 = 2a' \Rightarrow a' = -2 \text{ m/s}^2$$

سرعت جسم پس از t ثانیه با شتاب -2 m/s^2 از 4 m/s به صفر می‌رسد:

$$v = at + v_0 \Rightarrow 0 = -2t + 4 \Rightarrow 2t = 4 \Rightarrow t = 2 \text{ s}$$

آزمون ۸۹، ۹۰ و ۹۱

۱۶۲۸ B

نیروهای وارد بر جسم را رسم می‌کنیم:

نکته چون جسم در حال حرکت روبه بالا است پس نیروی اصطکاک جنبشی به سمت پایین است.

جسم در راستای افقی حرکت ندارد: $F = F_N$

حرکت جسم در راستای قائم با سرعت ثابت است: $F - mg - f_k = 0 \Rightarrow F = mg + f_k$

نیروی اصطکاک برابر است با:

$$f_k = \mu_k F_N \xrightarrow{F_N = F} f_k = 0.2F$$

با توجه به معادله نیروها در راستای قائم داریم:

$$F = mg + f_k \xrightarrow{f_k = 0.2F} F = 60 + 0.2F \Rightarrow 0.8F = 60 \Rightarrow F = 75 \text{ N}$$

آزمون ۸۹، ۹۰ و ۹۱

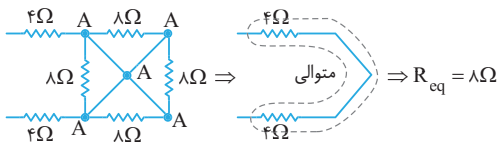
بازی با سؤال اگر در این حالت وزنه 2 kg را برداریم، شتاب حرکت چند متر بر مجذور ثانیه می‌شود؟

پاسخ در این حالت نیروی وزن برابر 40 N می‌شود.

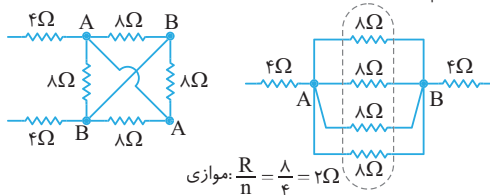
$$F_{\text{net}} = ma \Rightarrow F - 40 = 2F \Rightarrow ma = \frac{F - 40}{m} = \frac{75 - 40}{2} = 17.5 \Rightarrow a = 17.5 \text{ m/s}^2$$

۱۶۳۷ B

مدار (الف) را با استفاده از نقطه گذاری نقاط هم پتانسیل نام گذاری می کنیم. در سر تمام مقاومت های 8Ω هم نام بوده و در واقع اختلاف پتانسیل در سر آنها صفر است و این مقاومت ها اتصال کوتاه شده و از مدار حذف می شوند:



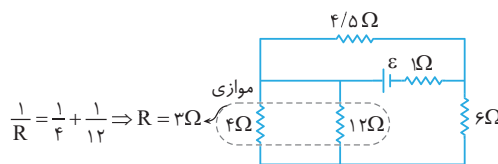
مدار (ب) را نیز نام گذاری می کنیم تمام مقاومت های 8Ω بین دو گره A و B بسته شده اند و با هم موازی اند:



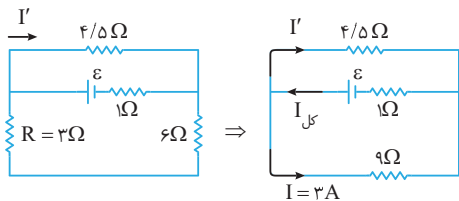
بنابراین:
 $\frac{R_{eq}}{R'_{eq}} = \frac{8}{10} = 0.8$
 آزمون ۵۱

۱۶۳۸ B

مقاومت های 4Ω و 12Ω با هم موازی اند:



مدار به صورت زیر می شود و دو مقاومت 6Ω و R متوالی اند و جریان عبوری از آنها یکسان و برابر ۳A است.



دو مقاومت 9Ω و $4/5\Omega$ موازی اند و در مقاومت های موازی جریان هر شاخه با مقدار مقاومت ها رابطه عکس دارد.

$$\frac{I'}{I} = \frac{9}{4/5} \Rightarrow I' = 2I \quad \text{---} \quad I = 3A \Rightarrow I' = 6A$$

$$I_{جر} = I + I' \Rightarrow I_{جر} = 3 + 6 = 9A$$

مقاومت معادل را با توجه به اینکه دو مقاومت $4/5\Omega$ و 9Ω موازی اند حساب می کنیم:

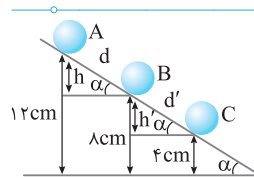
$$R_{eq} = \frac{9 \times 4/5}{9 + 4/5} = 3\Omega$$

جریان کل برابر است با:

$$I_{کل} = \frac{\epsilon}{R_{eq} + r} \Rightarrow 9 = \frac{\epsilon}{3 + 1} \Rightarrow \epsilon = 24V$$

آزمون ۵۲ و ۵۳

۱۶۳۳ B



در نقطه A و B تندی جسم یکسان است بنابراین تغییر انرژی جنبشی آن صفر بوده و بنا به قضیه کار و انرژی جنبشی کار کل از A تا B صفر است.

$$W_t = \Delta K \Rightarrow W_{F_N} + W_g + W_{f_k} = 0 \Rightarrow W_g = -W_{f_k}$$

$$\Rightarrow mgh = +f_k d \Rightarrow mg \frac{h}{d} = f_k \Rightarrow f_k = mg \sin \alpha$$

اکنون در مسیر BC قضیه کار و انرژی جنبشی را می نویسیم.

$$W'_{B \rightarrow C} = W'_g + W'_{f_k} = mgh' + f_k d' \Rightarrow W' = mgh' - (mg \sin \alpha) d' \Rightarrow W' = 0$$

بنابراین تندی در نقطه B و C برابر است.

میباشد چون در کل مسیر نیروی ثابت mg و f_k بر جسم وارد می شود اگر در بخشی از آن کل کار صفر باشد، در تمام مسیر کار کل صفر بوده یعنی تندی تغییر نمی کند. آزمون ۱۷، ۱۸، ۱۹ و ۲۰

۱۶۳۴ B

ابتدا با توجه به نیروی الکتریکی دو جسم، حاصل ضرب مقدار دو بار را به دست می آوریم:
 $F = k \frac{|q_1||q_2|}{r^2} \Rightarrow 4/5 = 9 \times 10^9 \frac{|q_1||q_2|}{36 \times 10^{-2}}$
 $\Rightarrow 18 \times 10^{-11} = |q_1||q_2| \Rightarrow |q_1||q_2| = 18 \times 10^{-12}$
 هنگامی که دو بار را با هم تماس می دهیم بار آنها با هم یکسان و برابر میانگین بارهای اولیه آنها می شود:

$$q'_1 = q'_2 = \frac{q_1 + q_2}{2} \quad q'_1 = q'_2 = -12 \mu C \rightarrow q_1 + q_2 = -24 \mu C = -24 \times 10^{-6} C$$

بنابراین مجموع دو بار برابر -24 و قدر مطلق حاصل ضرب آنها باید 180 شود که تنها مقادیر گزینه (۲) دارای حاصل ضرب 180 و جمع -24 است. آزمون ۳۵، ۳۶ و ۳۷

۱۶۳۵ A

نکته ۴۶۴ دو گلوله فلزی کوچک و مشابه که دارای بار الکتریکی می باشند، از فاصله 30 سانتی متری، نیروی جاذبه 4 نیوتون بر یکدیگر وارد می کنند. اگر این دو گلوله را به هم تماس دهیم، بار الکتریکی هر کدام $3 \mu C$ خواهد شد. بار اولیه گلوله ها بر حسب میکروکولن کدام است؟ ($k = 9 \times 10^9 N.m^2/C^2$) - ریاضی - ۹۴

- | | |
|-------------|-------------|
| (۱) ۱۲ و -۶ | (۲) ۱۰ و -۴ |
| (۳) ۹ و -۳ | (۴) ۸ و -۲ |
- گزینه ۲

۱۶۳۵ A

در اجسام رسانا بار الکتریکی همواره در سطح خارجی رسانا توزیع می شود. با بستن کلیدهای K_1 و K_2 ، سه جسم در حکم یک جسم رسانا می شوند. بار الکتریکی کره C و پوسته B به سطح پوسته A منتقل می شود، بنابراین خواهیم داشت:

$$q_C = 0, q_B = 0, q_A = -1 + 3 + 2 = 4 \mu C \quad \text{آزمون ۴۳}$$

۱۶۳۶ B

۱ با توجه به پایستگی انرژی مکانیکی:

$$E_A = E_B \Rightarrow K_A + U_A = K_B + U_B \Rightarrow \Delta U = -\Delta K$$

۲ ذره دارای بار منفی از نقطه B رها شده و خود به خود در خلاف جهت میدان به نقطه A می رسد، بنابراین انرژی جنبشی افزایش و انرژی پتانسیل کاهش می یابد:

$$\Delta U = -Edq \Rightarrow \Delta U = -E \times \frac{2}{100} \times 5 \times 10^{-6} \Rightarrow \Delta U = -E \times 10^{-6} J$$

۳ جسم از حال سکون رها شده ($K_1 = 0$) و در نقطه A انرژی جنبشی آن $1mJ = 10^{-3} J$ شده است:

$$\Delta U = -\Delta K \Rightarrow -E \times 10^{-6} = -(10^{-3} - 0) \Rightarrow E = 10^3 N/C$$

آزمون ۴۱ و ۴۲