




کتاب آموزش کامل مفاهیم و آزمون


گذرنامه
ورود به آینده شگفت انگیز

هندسه دهم



(ریاضی فیزیک)

علی صادقی








ווא
ווא
ווא
ווא



ווא





به نام خداوند جان و خرد کزین برتر اندیشه برنگذرد

بسیار خرسندیم که کتاب «هندسه دهم» از مجموعه «گذرنامه» را تقدیم دانش‌آموزان می‌کنیم. این کتاب مطالب هندسه پایه دهم را به صورت مفهومی آموزش می‌دهد. دانش‌آموز، ابتدا با مباحث هر فصل آشنا می‌شود و با مثال‌های فراوان بر حل آن‌ها اشراف پیدا می‌کند. سپس برای هر فصل، تعدادی پرسش‌های تشریحی و چهارگزینه‌ای را پاسخ می‌دهد تا بر موضوع تسلط یابد.

در ادامه یک آزمون چهارگزینه‌ای برای هر درس جهت خودآزمایی آورده شده است.

همچنین سطح‌بندی پرسش‌ها، اعم از تشریحی، چهارگزینه‌ای و آزمون در بخش پاسخ‌ها، انجام گرفته است.

انتظار می‌رود کتاب حاضر، همه نیازهای دانش‌آموزان کلاس دهم را در درس هندسه که مایل به تحصیل در بهترین دانشگاه‌ها و بهترین رشته‌های کشور هستند، پاسخ‌گو باشد.

در اینجا لازم می‌دانیم از مؤلف محترم آقای علی صادقی که کتاب را زیر نظر دبیر مجموعه تألیف کرده‌اند تشکر کنیم. همچنین از خانم‌ها محبوبه شریفی (حروف‌چین و صفحه‌آرا)، سارا لطفی مقدم و سمانه مسروری (رسم شکل)، بهاره خدای (گرافیک و طراحی جلد) سپاسگزاریم.

امیدواریم دبیران محترم هندسه و دانش‌آموزان و خانواده‌های عزیز آن‌ها ما را با اعلام نظرات، پیشنهادها و انتقادات خود درباره این کتاب یاری فرمایند.

انتشارات مبتکران



فصل ۱

تشابه و کاربردهای آن قضیه تالس

درس‌نامه درس اول: نسبت و تناسب در هندسه	۱۰۶
پرسش‌های تشریحی	۱۱۱
پرسش‌های چهارگزینه‌ای	۱۱۴
آزمون چهارگزینه‌ای	۱۱۶
درس‌نامه درس دوم: قضیه تالس	۱۱۸
پرسش‌های تشریحی	۱۲۳
پرسش‌های چهارگزینه‌ای	۱۲۶
آزمون چهارگزینه‌ای	۱۳۳
درس‌نامه درس سوم: تشابه مثلث‌ها	۱۳۵
پرسش‌های تشریحی	۱۴۱
پرسش‌های چهارگزینه‌ای	۱۴۵
آزمون چهارگزینه‌ای	۱۴۹
درس‌نامه درس چهارم: کاربردهایی از قضیه تالس و تشابه مثلث‌ها	۱۵۱
پرسش‌های تشریحی	۱۵۵
پرسش‌های چهارگزینه‌ای	۱۵۷
آزمون چهارگزینه‌ای	۱۵۹
پاسخ پرسش‌های تشریحی	۱۶۱
پاسخ پرسش‌های چهارگزینه‌ای	۱۷۹
پاسخ آزمون درس اول	۱۹۷
پاسخ آزمون درس دوم	۱۹۸
پاسخ آزمون درس سوم	۲۰۰
پاسخ آزمون درس چهارم	۲۰۲

فصل ۲

تجسم فضایی

درس‌نامه درس اول: خط، نقطه و صفحه	۲۹۴
پرسش‌های تشریحی	۳۰۱
پرسش‌های چهارگزینه‌ای	۳۰۵
آزمون چهارگزینه‌ای	۳۱۰
درس‌نامه درس دوم: تفکر تجسمی	۳۱۱
پرسش‌های تشریحی	۳۲۰
پرسش‌های چهارگزینه‌ای	۳۲۴
آزمون چهارگزینه‌ای	۳۲۸
پاسخ پرسش‌های تشریحی	۳۳۰
پاسخ پرسش‌های چهارگزینه‌ای	۳۴۱
پاسخ آزمون درس اول	۳۵۰
پاسخ آزمون درس دوم	۳۵۱
سوالات آزمون سراسری ۹۸	۲۹۳
سوالات آزمون سراسری ۹۹	۲۹۷

فصل ۱

ترسیم‌های هندسی و استدلال

درس‌نامه درس اول: ترسیم‌های هندسی	۱۲
پرسش‌های تشریحی	۲۰
پرسش‌های چهارگزینه‌ای	۲۳
آزمون چهارگزینه‌ای	۲۷
درس‌نامه درس دوم: استدلال	۲۸
پرسش‌های تشریحی	۳۵
پرسش‌های چهارگزینه‌ای	۳۹
آزمون چهارگزینه‌ای	۴۴
درس‌نامه درس سوم: نامساوی‌های مهم در مثلث	۴۵
پرسش‌های تشریحی	۵۳
پرسش‌های چهارگزینه‌ای	۵۵
آزمون چهارگزینه‌ای	۵۹
پاسخ پرسش‌های تشریحی	۶۰
پاسخ پرسش‌های چهارگزینه‌ای	۷۸
پاسخ آزمون درس اول	۱۰۰
پاسخ آزمون درس دوم	۱۰۱
پاسخ آزمون درس سوم	۱۰۲

فصل ۱



چندضلعی‌ها

درس‌نامه درس اول: چندضلعی‌ها و ویژگی‌هایی از آنها	۲۰۶
پرسش‌های تشریحی	۲۲۲
پرسش‌های چهارگزینه‌ای	۲۲۵
آزمون چهارگزینه‌ای	۲۳۱
درس‌نامه درس دوم: مساحت و کاربردهای آن	۲۳۲
پرسش‌های تشریحی	۲۴۵
پرسش‌های چهارگزینه‌ای	۲۴۹
آزمون چهارگزینه‌ای	۲۵۵
پاسخ پرسش‌های تشریحی	۲۵۷
پاسخ پرسش‌های چهارگزینه‌ای	۲۷۱
پاسخ آزمون درس اول	۲۸۹
پاسخ آزمون درس دوم	۲۹۰

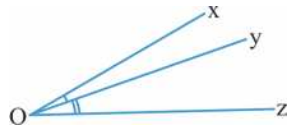


فصل ۱

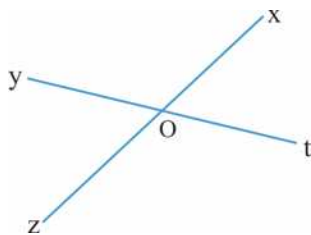
ترسیم‌های هندسی
واستدلال



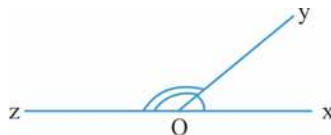
زاویه، مثلث و اجزای مهم آن



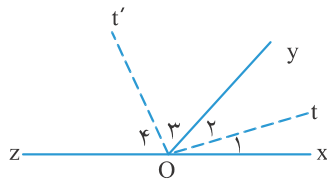
۸- دو زاویه مجانب: به دو زاویه مجاور که مکمل نیز باشند، دو زاویه مجانب می‌گوئیم. دو زاویه $x\hat{O}y$ و $y\hat{O}z$ در شکل زیر، مجانبند.



۹- دو زاویه متقابل به رأس: دو زاویه که رأس مشترک داشته باشند و اضلاع آن‌ها دوجه‌دو در امتداد یکدیگر و در جهات مختلف باشند، دو زاویه متقابل به رأس می‌گوئیم. مانند دو زاویه $x\hat{O}t$ و $y\hat{O}z$ در شکل مقابل.

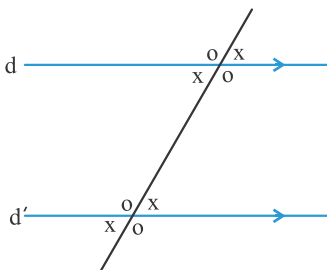


۱۰- نیمسازهای دو زاویه مجانب بر هم عمودند.



اثبات:

$$\left. \begin{aligned} \hat{O}_1 + \hat{O}_2 + \hat{O}_3 + \hat{O}_4 &= 180^\circ \\ \hat{O}_1 = \hat{O}_2, \hat{O}_3 = \hat{O}_4 \end{aligned} \right\} \Rightarrow 2\hat{O}_2 + 2\hat{O}_3 = 180^\circ \Rightarrow \hat{O}_2 + \hat{O}_3 = 90^\circ \Rightarrow t\hat{O}t' = 90^\circ$$



۱۱- نیمسازهای دو زاویه متقابل به رأس در یک امتدادند.

۱۲- قضیه خطوط موازی و مورب: اگر خطی دو خط موازی را قطع کند، ۸ زاویه ایجاد می‌شود به طوری که زوایای حاده با هم و زوایای منفرجه با هم برابرند. همچنین هر زاویه حاده با هر زاویه منفرجه مکمل می‌باشد.

۱۳- اگر اضلاع دو زاویه نظیر به نظیر موازی باشند، دو زاویه یا مساوی‌اند یا مکمل.

اثبات: فرض می‌کنیم در دو زاویه xOy و $x'O'y'$ اضلاع Ox و $O'x'$ با هم و اضلاع Oy و $O'y'$ نیز با هم موازی باشند و ضلع $O'x'$ ضلع Oy را مطابق شکل در نقطه A قطع کند. اگر $O'y'$ در جهت Oy باشد،

طبق قضیه خطوط موازی و مورب داریم:

$$\left. \begin{aligned} Oy \parallel O'y' \\ \text{مورب } O'x' \end{aligned} \right\} \Rightarrow \hat{O}' = \hat{A}_1 \quad \left. \begin{aligned} Ox \parallel O'x' \\ \text{مورب } Oy \end{aligned} \right\} \Rightarrow \hat{A}_1 = \hat{O}$$

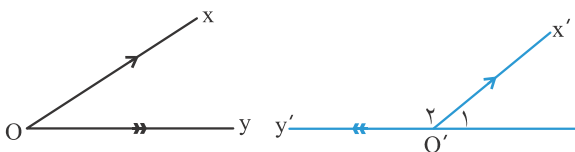
در نتیجه $\hat{O} = \hat{O}'$.

حال اگر $Ox \parallel O'x'$ و $Oy \parallel O'y'$ و مطابق شکل $O'y'$ در خلاف جهت Oy باشد، آنگاه بنابر حالت اول $\hat{O} = \hat{O}'$. از طرفی $\hat{O} + \hat{O}' = 180^\circ$. بنابراین

$$\hat{O} + \hat{O}' = 180^\circ \quad \text{در نتیجه زوایای } O \text{ و } O' \text{ یا مساوی‌اند یا مکمل.}$$

۱۴- اگر اضلاع دو زاویه نظیر به نظیر موازی باشند، نیمسازهای این دو زاویه یا موازیند یا عمودند. (چرا؟)

۱۵- اگر اضلاع دو زاویه، دو به دو برهم عمود باشند، دو زاویه یا مساوی‌اند یا مکمل. (چرا؟)



سه خط که دوه‌دو یکدیگر را در سه نقطه متمایز قطع می‌کنند، شکلی به وجود می‌آورند که **مثلث** می‌نامیم. به سه پاره‌خط ایجادشده (AB، AC و BC) **اضلاع** و به نقاط A، B و C **رأس‌های** مثلث می‌گوییم. مثلث مقابل را

به صورت $\triangle ABC$ بیان می‌کنیم و می‌خوانیم مثلث ABC.

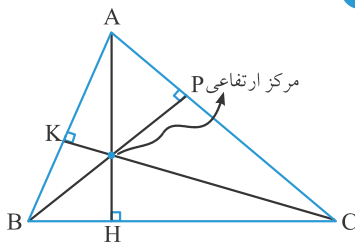
هر یک از زوایای $\angle CAB$ ، $\angle CBA$ و $\angle ABC$ را زوایای مثلث ABC می‌نامیم. معمولاً اندازه هر ضلع مثلث را با حرف کوچک متنظر با حرف رأس مقابل آن، نمایش می‌دهیم. به‌عنوان مثال اندازه ضلع BC را که مقابل به رأس A است با حرف a، اندازه ضلع AC را با حرف b و اندازه ضلع AB را با حرف c نشان می‌دهیم.



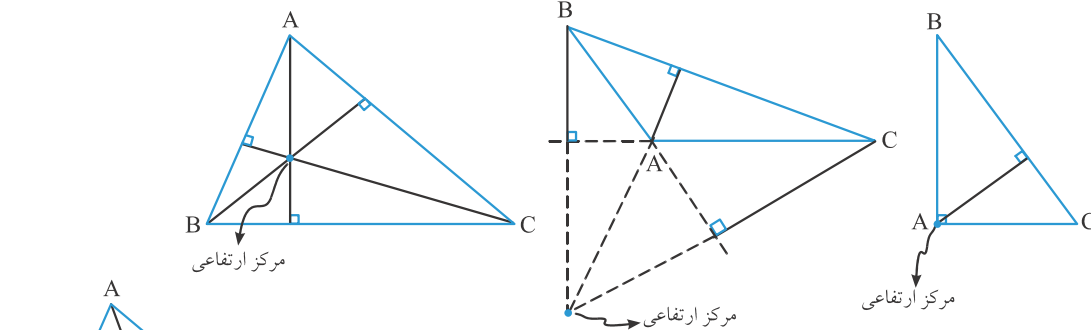
در مثلث، به اضلاع و زوایا «ابزای اصلی» و به ارتفاع، میانه، نیمساز و عمود منصف «ابزای فرعی» مثلث می‌گوییم.

ابزای فرعی مثلث

۱- **ارتفاع‌های مثلث:** ارتفاع مثلث، پاره‌خطی است که از یک رأس بگذرد و بر ضلع مقابل آن رأس عمود شود. هر مثلث سه ارتفاع دارد. در مثلث ABC، اندازه ارتفاع‌های وارد بر اضلاع BC، AC و AB را به ترتیب با h_a ، h_b و h_c نمایش می‌دهیم. در درس‌های بعدی ثابت می‌شود که ارتفاع‌های هر مثلث (یا امتدادهای آن‌ها) از یک نقطه می‌گذرند که آن نقطه را **مرکز ارتفاعی** مثلث می‌گوییم.

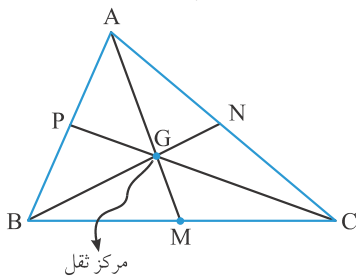


۱. اگر مثلث حاده‌الزاویه باشد، مرکز ارتفاعی، داخل مثلث واقع است. اگر مثلث منفرجه‌الزاویه باشد، دو ارتفاع مثلث، خارج مثلث قرار می‌گیرند و مرکز ارتفاعی، خارج مثلث واقع می‌شود. اگر مثلث قائم‌الزاویه باشد، اضلاع قائم، دو تا از ارتفاع‌ها هستند و مرکز ارتفاعی روی رأس قائم قرار می‌گیرد.



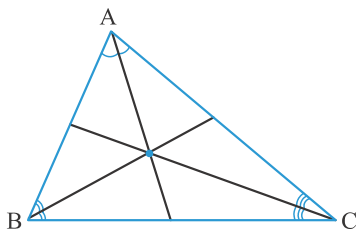
۲- **میانه‌های مثلث:** میانه مثلث پاره‌خطی است که یک رأس مثلث را به وسط ضلع مقابل آن رأس وصل می‌کند. هر مثلث، سه میانه دارد. در مثلث ABC، اندازه میانه‌های وارد بر اضلاع BC، AC و AB را به ترتیب با m_a ، m_b و m_c نمایش می‌دهیم.

در درس‌های بعدی، ثابت می‌شود که میانه‌های هر مثلث همواره در یک نقطه داخل مثلث به نام **مرکز ثقل** (گرانیه‌گاه یا نقطه تعادل)، یکدیگر را قطع می‌کنند.



۳- **نیمسازهای داخلی مثلث:** نیمساز داخلی هر زاویه مثلث، پاره‌خطی است که آن زاویه را نصف کند و محدود به رأس آن زاویه و ضلع مقابل آن رأس باشد. هر مثلث سه نیمساز داخلی دارد. در مثلث ABC، اندازه نیمسازهای داخلی زوایای A، B و C را به ترتیب با d_a ، d_b و d_c نمایش می‌دهیم.

در درس‌های بعدی، ثابت می‌شود که نیمسازهای داخلی هر مثلث در یک نقطه داخل مثلث یکدیگر را قطع می‌کنند.



زاویه خارجی مثلث

در مثلث، به زاویه‌ای که از امتداد یکی از اضلاع زاویه داخلی مثلث، پدید می‌آید، زاویه خارجی نظیر آن زاویه می‌گوییم. مانند زوایای BAy و CAX در مثلث ABC .

واضح است که زوایای BAy و CAX با هم برابرند (زیرا متقابل به رأس‌اند). بنابراین برای هر رأس، فقط یکی از آن‌ها را در نظر می‌گیریم.

۴- نیمسازهای خارجی مثلث: نیمساز خارجی هر زاویه مثلث، پاره‌خطی است که زاویه خارجی نظیر آن زاویه را نصف می‌کند و محدود به رأس آن زاویه و امتداد ضلع مقابل آن رأس است. (مانند پاره‌خط AD' در مثلث مقابل).

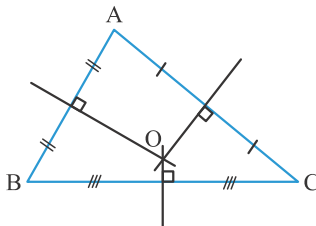
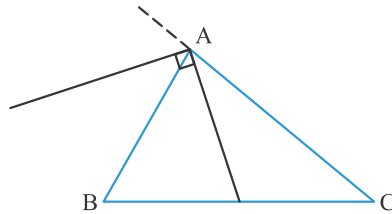
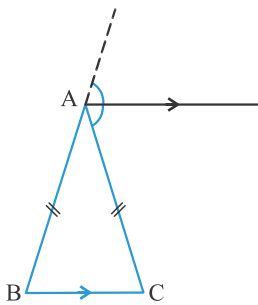
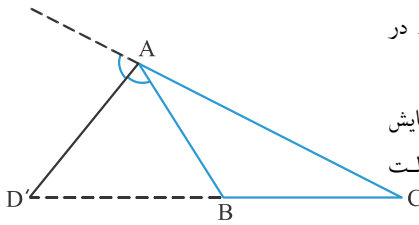
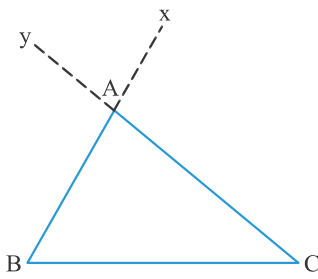
در مثلث ABC ، اندازه نیمسازهای خارجی نظیر زوایای A ، B و C را به ترتیب با d'_a ، d'_b و d'_c نمایش می‌دهیم. با رسم سه نیمساز خارجی برای مثلث دلخواه ABC ، می‌توان دید که نیمسازهای خارجی در حالت کلی از یک نقطه نمی‌گذرند. (همرس نیستند)!

تذکر

۲. اگر مثلث متساوی‌الساقین باشد، نیمساز خارجی رأس، با قاعده موازی است. بنابراین در این وضعیت طول نیمساز خارجی نظیر رأس، بی‌معنی است!

مهم

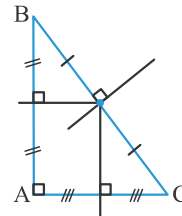
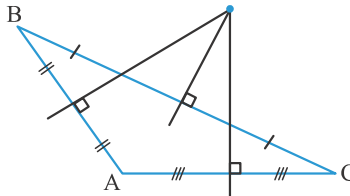
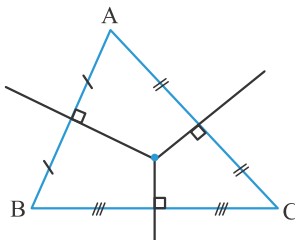
در هر مثلث، هر زاویه خارجی، با زاویه داخلی نظیرش، مجانب می‌باشد. بنابراین نیمسازهای داخلی و خارجی نظیر هر رأس بر هم عمودند.



۵- عمودمنصف‌های اضلاع مثلث: عمودمنصف هر ضلع مثلث، خطی است که از وسط آن ضلع می‌گذرد و بر آن ضلع عمود می‌شود. در درس‌های بعدی، ثابت می‌شود که عمودمنصف‌های اضلاع هر مثلث، از یک نقطه می‌گذرند (همرسند).

تذکر

۳. اگر مثلث قائمه‌الزاویه باشد، نقطه همرسی عمودمنصف‌ها، داخل مثلث، اگر مثلث منفرجه‌الزاویه باشد، نقطه همرسی عمودمنصف‌ها، خارج مثلث و اگر مثلث قائم‌الزاویه باشد، نقطه همرسی عمودمنصف‌ها، وسط وتر، قرار می‌گیرد.



توجه: به سه خط یا بیشتر که همگی در یک نقطه متقاطع‌اند، همرس می‌گوییم.

نکاتی در مورد مثلث

- ۱- مجموع زوایای داخلی هر مثلث برابر 180° می‌باشد.
- ۲- هر زاویه خارجی در مثلث، با مجموع دو زاویه داخلی غیرمجاورش برابر است.
- ۳- مجموع زوایای خارجی در هر مثلث برابر 360° است.

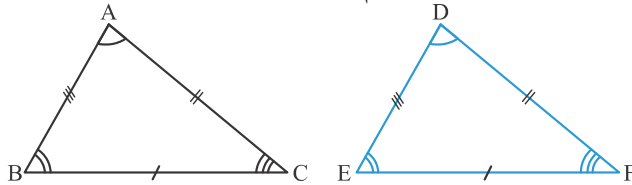
۴- در هر مثلث زاویه بین نیمسازهای دو زاویه داخلی برابر است با: $\frac{\text{زاویه سوم}}{۲} + ۹۰^\circ$.

۵- در هر مثلث زاویه بین نیمسازهای دو زاویه خارجی برابر است با: $\frac{\text{زاویه سوم}}{۲} - ۹۰^\circ$.

۶- در هر مثلث زاویه بین نیمساز یک زاویه داخلی با نیمساز یک زاویه خارجی، برابر است با: $\frac{\text{زاویه سوم}}{۲}$.

۷- در مثلث اندازه زاویه بین ارتفاع و نیمساز داخلی نظیر هر رأس برابر است با نصف تفاضل دو زاویه دیگر.

۸- دو مثلث را **همنهشتی** می‌گوییم هر گاه اندازه‌های اضلاع متناظر و همچنین اندازه زوایای متناظر در دو مثلث با هم برابر باشند. مانند مثلث‌های ABC و DEF.



$$\left. \begin{array}{l} AB = DE, BC = EF, AC = DF \\ \hat{A} = \hat{D}, \hat{B} = \hat{E}, \hat{C} = \hat{F} \end{array} \right\} \Rightarrow ABC \cong DEF$$

علامت همنهشتی

۹- **حالت‌های همنهشتی مثلث‌ها** عبارتند از (الف) تساوی سه ضلع (ض ض ض)، (ب) تساوی دو ضلع و زاویه بین آن دو ضلع (ض ز ض) و (پ) تساوی دو زاویه و ضلع بین آن دو زاویه (ز ز ز).

۱۰- حالت‌های همنهشتی مثلث‌های **قائم‌الزاویه** عبارت است از (الف) وتر و یک ضلع، (ب) وتر و یک زاویه حاده.

۱۱- در مثلث قائم‌الزاویه **میانه وارد بر وتر** برابر با نصف وتر است.

۱۲- در مثلث قائم‌الزاویه زاویه بین ارتفاع و میانه وارد بر وتر برابر است با تفاضل دو زاویه دیگر.

۱۳- مثلثی را که در آن دو ضلع مساوی باشند، **مثلث متساوی‌الساقین** می‌گوییم. هر یک از دو ضلع مساوی را ساق و ضلع سوم را قاعده و به محل برخورد دو ساق، رأس مثلث می‌گوییم.

۱۴- در مثلث متساوی‌الساقین، زاویه‌های روبرو به ساق‌ها با هم برابرند.

۱۵- مثلثی که دو زاویه برابر داشته باشد، متساوی‌الساقین می‌باشد.

۱۶- در مثلث متساوی‌الساقین، نیمساز زاویه رأس، ارتفاع، میانه وارد بر قاعده و عمودمنصف قاعده برهم منطبق‌اند.

۱۷- مثلثی که میانه و ارتفاع نظیر یک ضلع آن بر هم منطبق باشند، متساوی‌الساقین است.

۱۸- مثلثی که ارتفاع نظیر یک ضلع آن، نیمساز زاویه مقابل به آن ضلع هم باشد، متساوی‌الساقین است.

۱۹- مثلثی که میانه نظیر یک ضلع آن، نیمساز زاویه مقابل به آن ضلع هم باشد، متساوی‌الساقین است.

۲۰- در مثلث متساوی‌الساقین، نیمسازهای داخلی زوایای مقابل به ساق‌ها با هم برابرند.

۲۱- مثلثی که دو نیمساز داخلی‌اش برابر باشند، متساوی‌الساقین است.

۲۲- در مثلث متساوی‌الساقین، ارتفاع‌های نظیر ساق‌ها با هم برابرند.

۲۳- مثلثی که دو ارتفاع برابر داشته باشد، متساوی‌الساقین است.

۲۴- در مثلث متساوی‌الساقین، میانه‌های نظیر ساق‌ها با هم برابرند.

۲۵- مثلثی که دو میانه برابر داشته باشد، متساوی‌الساقین است.

۲۶- در مثلث متساوی‌الساقین، نیمساز خارجی نظیر رأس با قاعده موازی است.

۲۷- اگر در مثلثی، نیمساز خارجی یکی از زوایا با ضلع روبرویش موازی باشد در این صورت مثلث متساوی‌الساقین است.

۲۸- مثلثی را که در آن سه ضلع مساوی باشند، **مثلث متساوی‌الاضلاع** می‌گوییم. کاملاً بدیهی است که زوایای داخلی مثلث متساوی‌الاضلاع با هم برابر و هر کدام ۶۰° می‌باشد.

۲۹- از آنجا که مثلث متساوی‌الاضلاع، متساوی‌الساقین نیز می‌باشد، تمام ویژگی‌های مثلث متساوی‌الساقین برای مثلث متساوی‌الاضلاع نیز برقرار است.

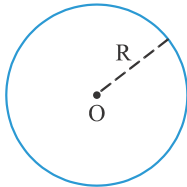
ترسیم‌های هندسی



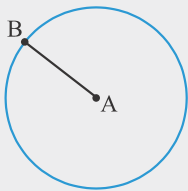
ترسیمات هندسی یعنی رسم یا ساختن شکل‌های هندسی به کمک خط‌کش و پرگار. این ترسیمات، مناسب‌ترین وسیله برای آشنایی با شکل‌های هندسی هستند و بهتر از هر وسیله دیگری، زمینه را برای فراگیری حل مسائل هندسی فراهم می‌کنند. خط‌کش، پرگار، گونیا و نقاله مهمترین ابزارها برای رسم یک شکل به‌طور دقیق، می‌باشند. ولی هدف از ترسیم هندسی این است که برای رسم یک شکل تنها از دو وسیله **خط‌کش و پرگار** استفاده کنیم.

در ترسیمات هندسی توجه به نکات زیر ضروری است:

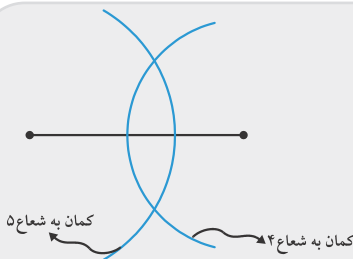
- الف) خط‌کش و پرگار قابل استفاده، به گونه‌ای می‌باشند که اولاً خط‌کش، غیرمدرج می‌باشد (یعنی فقط برای رسم خط راست قابل استفاده است). ثانیاً از پرگار تنها برای جدا کردن طول معین یا برای رسم دایره یا کمانی از دایره می‌توان استفاده کرد که یا مرکز و یک نقطه از آن معلوم باشد و یا مرکز و اندازه شعاع آن.
- ب) منظور از معلوم بودن پاره‌خط، آن است که دو سر پاره‌خط معلوم بوده و می‌توانیم دهانه پرگار را به اندازه آن باز کنیم و به هیچ عنوان اندازه پاره‌خط، مدنظر نمی‌باشد.
- پ) منظور از معلوم بودن زاویه نیز آن است که جای رأس زاویه و نیز امتداد دو ضلع آن مشخص می‌باشد.
- ت) برای حل مسأله ترسیم، ابتدا مسأله را رسم شده فرض کرده، از شکل فرضی اطلاعات جدید به‌دست می‌آوریم تا رسم شکل راحت‌تر انجام پذیرد. سپس با خط‌کش و پرگار شکل موردنظر را رسم می‌کنیم.



تعریف دایره: دایره مجموعه نقاطی است که فاصله آن‌ها از نقطه ثابتی مانند O ، برابر با مقدار ثابت R باشد. به عبارت دیگر هر نقطه روی دایره فاصله‌اش از O برابر R است و هر نقطه‌ای که فاصله‌اش از O برابر R است، روی دایره قرار دارد.



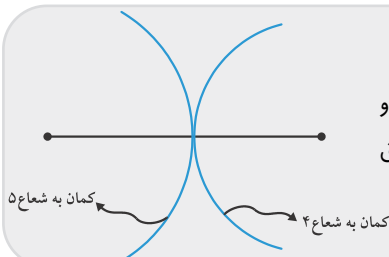
- مسئله ۱:** دو نقطه متمایز A و B مفروض‌اند. دایره‌ای رسم کنید که A مرکز آن باشد و از نقطه B بگذرد. پاسخ: ابتدا دهانه پرگار را به اندازه پاره‌خط AB باز کرده، سپس به مرکز A دایره موردنظر را رسم می‌کنیم. واضح است که این دایره از نقطه B می‌گذرد.



- مسئله ۲:** مثلثی با اضلاع ۴، ۵ و ۶ رسم کنید.

پاسخ: ابتدا پاره‌خطی به اندازه ۶ رسم می‌کنیم. سپس از یک سر این پاره‌خط کمانی به شعاع ۴ و از سر دیگر پاره‌خط کمانی به شعاع ۵ رسم می‌کنیم. این دو کمان یکدیگر را در دو نقطه قطع می‌کنند و هر دو نقطه می‌توانند رأس سوم مثلث باشند.

- تذکر ۴:** در شمارش مثلث‌های رسم شده، مثلث‌های هم‌نوشته را یکبار می‌شماریم. بنابراین در مسأله قبیل چون دو مثلث هم‌نوشته می‌باشند، یک مثلث قابل رسم است.



- مسئله ۳:** مثلثی با اضلاع ۴، ۵ و ۹ رسم کنید.

پاسخ: ابتدا پاره‌خطی به اندازه ۹ رسم می‌کنیم. سپس از یک سر پاره‌خط کمانی به شعاع ۴ و از سر دیگر پاره‌خط کمانی به شعاع ۵ رسم می‌کنیم. این دو کمان روی پاره‌خط (مطابق شکل) متقاطع‌اند و مثلثی به‌وجود نمی‌آید.

برای اینکه مثلثی با اندازه‌های a ، b و c قابل رسم باشد، باید مجموع هر دو ضلع از ضلع سوم بزرگتر باشد و یا به عبارت دیگر مجموع دو ضلع کوچکتر، از ضلع سوم بزرگتر باشد، همچنین اگر مثلث قابل رسم باشد، تنها یک مثلث وجود دارد.

۱: با کدام دسته از اعداد زیر می‌توان مثلث با این اضلاع رسم کرد؟

- (۱) ۳ و ۲ و ۵ (۲) ۳ و ۲ و ۷ (۳) ۲/۵ و ۳/۴ و ۶ (۴) ۷ و ۳ و ۵ ✓

پاسخ: با بررسی گزینه‌ها داریم:

گزینه ۱: $2 + 3 < 5$ → مثلث قابل رسم نیست

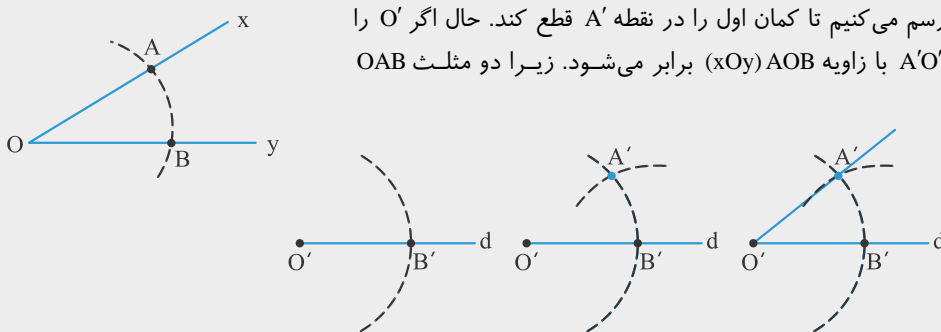
گزینه ۲: $2 + 3 < 7$ → مثلث قابل رسم نیست

گزینه ۳: $2/5 + 3/4 < 6$ → مثلث قابل رسم نیست

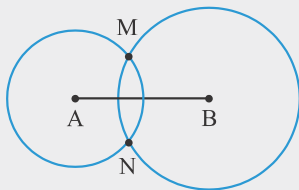
گزینه ۴: $5 + 3 > 7$ → مثلث قابل رسم است

۴: زاویه‌ای به اندازه زاویه داده شده xOy رسم کنید.

پاسخ: ابتدا با خط‌کش خط d را رسم می‌کنیم و نقطه‌ای مانند O' روی آن در نظر می‌گیریم. به مرکز O کمان دلخواهی رسم می‌کنیم تا اضلاع زاویه داده شده xOy را در نقاط A و B قطع کند. دهانه پرگار را تغییر نمی‌دهیم و به مرکز O' کمانی رسم می‌کنیم تا خط d را در نقطه B' قطع کند. حال دهانه پرگار را به اندازه طول پاره‌خط AB باز می‌کنیم و بدون تغییر دادن دهانه پرگار به مرکز B' کمانی رسم می‌کنیم تا کمان اول را در نقطه A' قطع کند. حال اگر O' را به A' وصل کنیم، زاویه $A'O'B'$ با زاویه AOB (xOy) برابر می‌شود. زیرا دو مثلث OAB و $O'A'B'$ همنهشتند.



۵: دو نقطه A و B به فاصله ۳ سانتی‌متر از یکدیگر قرار دارند. نقاطی را بیابید که فاصله‌شان از A ، ۲ و از B ، ۲/۵ سانتی‌متر باشند.



پاسخ: ابتدا A را به B وصل می‌کنیم. سپس به مرکز A و شعاع ۲ یک کمان (دایره) و به مرکز B و شعاع ۲/۵ کمان (دایره) دیگری رسم می‌کنیم. این دو کمان (دایره) یکدیگر را در دو نقطه M و N قطع می‌کنند. این نقاط، نقاط مورد نظر می‌باشند.

اگر دو نقطه A و B به فاصله x از یکدیگر واقع باشند. نقاطی که فاصله‌شان از A برابر y و از B برابر z باشند، به صورت زیر قابل بررسی است:

(الف) اگر $y + z > x$ ، در این صورت دو نقطه وجود دارد. (دایره‌ها در دو نقطه متقاطع‌اند)

(ب) اگر $y + z = x$ ، در این صورت یک نقطه وجود دارد. (دایره‌ها در یک نقطه متقاطع‌اند)

(پ) اگر $y + z < x$ ، در این صورت هیچ نقطه‌ای وجود ندارد. (دایره‌ها نقطه مشترک ندارند).

تست

۲: پاره خط AB به طول ۱۰ مفروض است. چند نقطه وجود دارد که از A به فاصله ۷ و از B به فاصله ۲ باشند؟

۴ نامتناهی

۳ صفر ✓

۲ (۲)

۱ (۱)

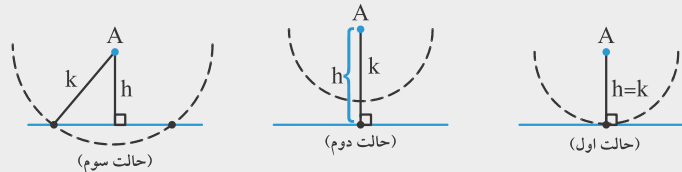
پاسخ: از آنجا که $7+2 < 10$ بنابراین هیچ نقطه‌ای وجود ندارد.

مسئله

۶: خط d و نقطه A که به فاصله h از آن قرار دارد، مفروضند. نقاطی از خط d را بیابید که از نقطه A به فاصله k باشند.

(حالت‌های مختلف را بررسی کنید).

پاسخ: به طور کلی نقاطی که از A به فاصله k باشد، نقاط روی محیط دایره‌ای به مرکز A و شعاع k، می‌باشد. محل برخورد این دایره با خط d، نقاط مورد نظر است. با توجه به شکل‌های زیر، اگر $h = k$ ، تنها یک نقطه وجود دارد (حالت اول). اگر $h > k$ ، هیچ نقطه‌ای وجود ندارد (حالت دوم) و اگر $h < k$ ، دو نقطه وجود دارد (حالت سوم).



تست

۳: خط d و نقطه A خارج آن، مفروضند، چند نقطه روی خط d وجود دارد که از نقطه A به فاصله ۴ باشد؟

۴ (۱)

۳ حداکثر ✓

۲ (۲)

۱ صفر

پاسخ: از آنجا که فاصله نقطه A تا خط d معلوم نیست، هر یک از حالت‌های بررسی شده در مسئله قبل امکان‌پذیر است. بنابراین حداکثر ۲ نقطه وجود دارد.

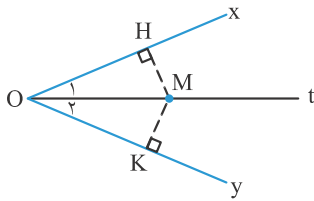
ویژگی مهم نیمساز و رسم آن

نکته

۱. هر نقطه روی نیمساز یک زاویه، از دو ضلع زاویه به یک فاصله است.

اثبات: فرض می‌کنیم Ot نیمساز زاویه xOy باشد. نقطه دلخواه M را روی نیمساز Ot در نظر می‌گیریم.

از M عمودهای MH و MK را بر اضلاع Ox و Oy رسم می‌کنیم. داریم:

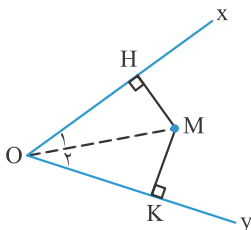


$$\begin{cases} OM = OM \\ \hat{O}_1 = \hat{O}_2 \\ \hat{H} = \hat{K} = 90^\circ \end{cases} \xrightarrow{\text{وتر و یک زاویه تند}} OMH \cong OMK \Rightarrow MH = MK$$

نکته

۲. اگر نقطه‌ای از دو ضلع زاویه به یک فاصله باشد، آن نقطه روی نیمساز آن زاویه قرار دارد.

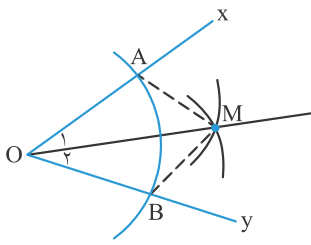
اثبات: فرض می‌کنیم M از دو ضلع زاویه xOy به یک فاصله باشد یعنی $MH = MK$. از O به M وصل می‌کنیم. داریم:



$$\begin{cases} OM = OM \\ MH = MK \\ \hat{H} = \hat{K} = 90^\circ \end{cases} \xrightarrow{\text{وتر و یک ضلع}} OMH \cong OMK \Rightarrow \hat{O}_1 = \hat{O}_2$$

نتیجه مهم

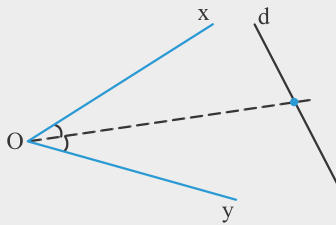
هر نقطه که روی نیمساز یک زاویه باشد، از دو ضلع آن زاویه به یک فاصله است و هر نقطه که از دو ضلع یک زاویه به یک فاصله باشد، روی نیمساز آن زاویه قرار دارد.



برای رسم نیمساز زاویه داده شده xOy ، ابتدا به مرکز O و شعاع دلخواه یک کمان رسم می‌کنیم تا اضلاع زاویه را در A و B قطع کند. به مرکزهای A و B به شعاع دلخواه یکسان کمان‌هایی رسم می‌کنیم تا حتماً یکدیگر را در نقطه‌ای مانند M قطع کنند. مثلث‌های OAM و OBM به حالت (ضضض) هم‌نهشت هستند، بنابراین $\hat{O}_1 = \hat{O}_2$. یعنی M روی نیمساز است و امتداد OM نیمساز زاویه xOy است.

مسئله

۷. زاویه xOy و خط d مفروضند. به طوری که خط d با هیچ یک از اضلاع زاویه موازی نیست. چند نقطه روی خط d وجود



دارد که از اضلاع زاویه به یک فاصله باشد؟

پاسخ: نقاطی که از اضلاع زاویه xOy به یک فاصله باشند، نقاط روی نیمساز زاویه می‌باشند، بنابراین نیمساز زاویه xOy را رسم می‌کنیم. محل برخورد این نیمساز با خط d ، نقاط موردنظرند. دو حالت ممکن است:

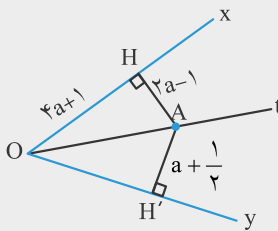
حالت اول: خط d با نیمساز در یک نقطه متقاطع باشد (جواب یک نقطه)

حالت دوم: خط d بر نیمساز زاویه منطبق باشد (جواب بی‌شمار نقطه)

حالت سوم: خط d با نیمساز موازی باشد (جواب وجود ندارد)

تست

۴. در شکل مقابل Ot نیمساز زاویه xOy است. طول OH' کدام است؟



- ۳ (۱)
- ۶ (۲)
- ۷ (۳) ✓
- ۸ (۴)

پاسخ: می‌دانیم هر نقطه روی نیمساز زاویه از اضلاع زاویه به یک فاصله است. بنابراین $AH = AH'$. در نتیجه:

$$4a + 1 = a + \frac{1}{2} \Rightarrow a = \frac{3}{2}$$

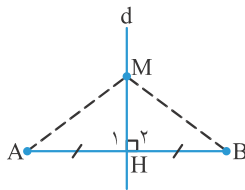
$$OH' = OH = 4a + 1 = 4\left(\frac{3}{2}\right) + 1 = 7$$

از طرفی مثلث‌های OAH و OAH' هم‌نهشت بوده و بنابراین داریم:

ویژگی مهم عمودمنصف و رسم آن

نکته

۳. هر نقطه روی عمودمنصف یک پاره‌خط، از دو سر آن پاره‌خط به یک فاصله است.



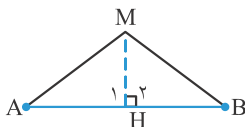
اثبات: فرض می‌کنیم d عمودمنصف پاره‌خط AB بوده و M نقطه‌ای دلخواه روی d باشد. از M به A و B وصل می‌کنیم. داریم:

$$\begin{cases} MH = MH \\ \hat{H}_1 = \hat{H}_2 = 90^\circ \text{ (ضضض)} \end{cases} \rightarrow \triangle AMH \cong \triangle BMH \Rightarrow AM = BM \\ AH = HB$$

نکته

۴. هر نقطه که از دو سر یک پاره‌خط به یک فاصله باشد، روی عمودمنصف آن پاره‌خط قرار دارد.

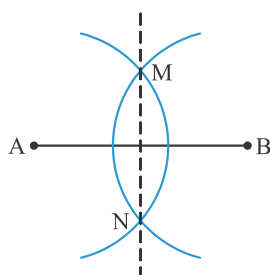
اثبات: فرض می‌کنیم نقطه M از نقاط A و B به یک فاصله باشد. از M عمود MH را بر AB رسم می‌کنیم. داریم:



$$\begin{cases} MA = MB \\ MH = MH \\ \hat{H}_1 = \hat{H}_2 = 90^\circ \end{cases} \xrightarrow{\text{وتر و یک ضلع}} \triangle AMH \cong \triangle BMH \Rightarrow AH = HB$$

بنابراین MH عمودمنصف پاره‌خط AB است. در نتیجه M روی عمودمنصف AB قرار دارد.

هر نقطه که روی عمودمنصف یک پاره‌خط باشد، از دو سر پاره‌خط به یک فاصله است و هر نقطه که از دو سر یک پاره‌خط به یک فاصله باشد، روی عمودمنصف آن قرار دارد.

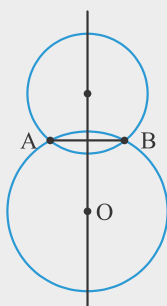


روش رسم عمودمنصف یک پاره‌خط

برای رسم عمودمنصف پاره‌خط داده شده AB، ابتدا دو کمان به مراکز A و B و به شعاع یکسان (بزرگتر از نصف طول پاره‌خط AB) رسم می‌کنیم تا یکدیگر را در دو نقطه M و N قطع کنند. هر دو نقطه M و N از نقاط A و B به یک فاصله‌اند، پس روی عمودمنصف AB قرار دارند. بنابراین اگر M را به N وصل کنیم، عمودمنصف پاره‌خط AB به دست می‌آید.

مسئله

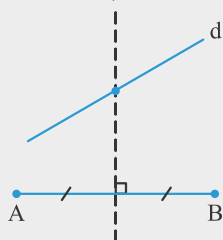
۸- دو نقطه متمایز A و B را در نظر بگیرید. دایره‌ای رسم کنید که از A و B بگذرد. چند دایره قابل رسم است؟



پاسخ: مرکز دایره گذرنده از A و B، از دو نقطه A و B به یک فاصله است (شعاع). بنابراین روی عمودمنصف پاره‌خط AB قرار دارد. بنابراین ابتدا عمودمنصف پاره‌خط AB را رسم می‌کنیم. سپس نقطه دلخواه O را روی آن در نظر می‌گیریم. دایره‌ای به مرکز O و به شعاع OA یا OB رسم می‌کنیم تا دایره مورد نظر به دست آید. بنابراین بی‌شمار دایره می‌توان رسم کرد که از A و B بگذرند. مرکز این دایره‌ها روی عمودمنصف پاره‌خط AB واقع‌اند.

مسئله

۹- خط d و دو نقطه A و B در یک صفحه مفروضند. روی خط d نقطه‌ای را بیابید که از A و B به یک فاصله باشد.

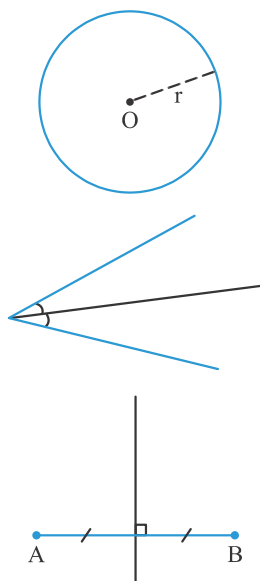


پاسخ: عمودمنصف پاره‌خط AB را رسم می‌کنیم. محل برخورد عمودمنصف با خط d، نقطه مورد نظر است. اگر عمودمنصف AB خط d را قطع نکند (بر AB عمود باشد) مسئله جواب ندارد. در صورتی که عمودمنصف AB خط d را در یک نقطه قطع کند، مسئله یک جواب دارد و در صورتی که عمودمنصف AB بر خط d منطبق باشد مسئله بی‌شمار جواب دارد.

معم

یکی از کاربردهای روش رسم عمودمنصف، یافتن وسط پاره‌خط می‌باشد.

۱- تمرین

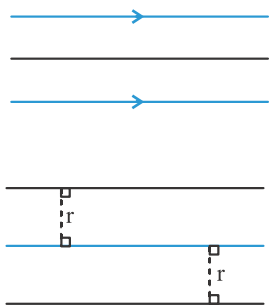


در بحث ترسیمات هندسی توجه به مطالب زیر فالی از لطف نیست:

۱- مجموعه نقاطی که همگی فاصله‌شان از نقطه O برابر r باشد، محیط دایره‌ای به مرکز O و شعاع r می‌باشد.

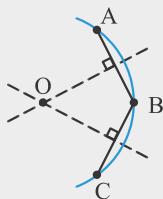
۲- مجموعه نقاطی که از دو خط متقاطع (اشلاخ زاویه) به یک فاصله باشند، نقاط روی نیمساز زاویه است.

۳- مجموعه نقاطی که از دو نقطه متمایز (از دو سر پاره‌خط) به یک اندازه باشند، نقاط روی عمودمنصف پاره‌خط است.



۴- مجموعه نقاطی که از دو خط موازی به یک فاصله باشند، نقاط روی خطی موازی با دو خط و به یک فاصله از هر یک.

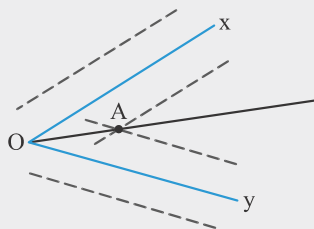
۵- مجموعه نقاطی که از خط d به فاصله r باشند، نقاط روی دو خط موازی با d در طرفین آن و به فاصله r از آن می‌باشند.



۱۰: کماتی از یک دایره معلوم است. مرکز آن را بیابید و دایره را رسم کنید.

پاسخ: سه نقطه دلخواه A ، B و C را روی کمان در نظر می‌گیریم. عمودمنصف‌های AB و BC را رسم می‌کنیم. محل تقاطع این دو عمودمنصف مرکز دایره است (زیرا مرکز دایره از نقاط A ، B ، C به یک فاصله است، بنابراین روی عمودمنصف AB و BC قرار دارد). حال به مرکز O و شعاع OA دایره را رسم می‌کنیم.

۱۱: زاویه xOy مفروض است. نقطه‌ای بیابید که فاصله آن از هر ضلع زاویه برابر ۳ باشد. سپس به کمک آن نیمساز زاویه را رسم کنید.

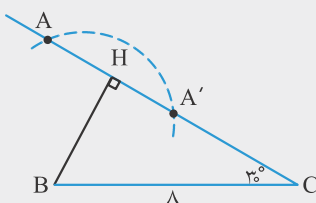


پاسخ: نقاطی که از ضلع Ox به فاصله ۳ باشند، نقاط روی دو خط موازی با Ox در طرفین آن و به فاصله ۳ از آن است. بنابراین دو خط موازی با Ox به فاصله ۳ از آن و دو خط موازی با Oy به فاصله ۳ از آن رسم می‌کنیم. محل برخورد این خطوط جواب مسأله است (نقطه A). نقاط A و O از هر یک از اضلاع زاویه به یک فاصله‌اند. بنابراین اگر A را به O وصل کنیم، OA نیمساز زاویه xOy است.

۱۲: مراحل رسم زوایایی به اندازه ۶۰° ، ۳۰° و ۱۵° را توضیح دهید.

پاسخ: مثلث متساوی‌الاضلاعی به طول ضلع دلخواه رسم می‌کنیم. هر یک از زوایای این مثلث، ۶۰° است. سپس نیمساز یکی از این زوایا را رسم می‌کنیم تا زاویه ۳۰° پدید آید. در مرحله آخر، بار دیگر نیمساز یکی از زوایای ۳۰° را رسم می‌کنیم تا زاویه ۱۵° ایجاد شود.

۱۳: مثلث ABC را با معلومات $BC = ۸$ ، $AB = ۵$ و $\hat{C} = ۳۰^\circ$ رسم کنید.

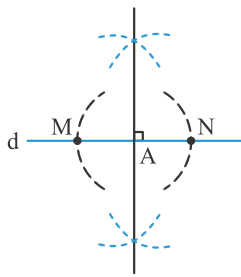


پاسخ: ابتدا ضلع $BC = ۸$ را رسم می‌کنیم و روی رأس C زاویه ۳۰° را جدا می‌کنیم. سپس کماتی به مرکز B و شعاع $AB = ۵$ رسم می‌کنیم. داریم:

$$\triangle BHC: \hat{C} = 30^\circ \Rightarrow BH = \frac{BC}{2} = \frac{8}{2} = 4$$

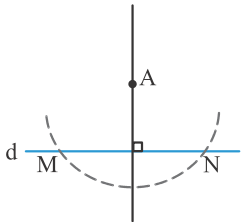
بنابراین کمان رسم شده ضلع زاویه ۳۰° را در دو نقطه قطع می‌کند و دو مثلث متمایز به دست می‌آید. توجه شود که در حالت کلی اگر کمان رسم شده، ضلع زاویه ۳۰° را در یک نقطه قطع کند فقط یک مثلث به دست می‌آید و اگر ضلع زاویه ۳۰° را قطع نکند مثلثی قابل رسم نیست.

روش رسم خط عمود بر یک خط از یک نقطه



خط d و نقطه A را در نظر می‌گیریم. می‌خواهیم از نقطه A ، خطی عمود بر خط d رسم کنیم. دو حالت وجود دارد.
الف) نقطه A روی خط d است.

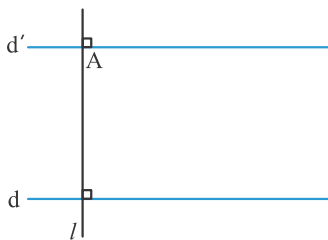
به مرکز A و شعاع دلخواه کماتی رسم می‌کنیم تا خط d را در دو نقطه M و N قطع کند. در این صورت A وسط پاره‌خط MN است. حال اگر عمودمنصف پاره‌خط MN را رسم کنیم از نقطه A می‌گذرد. به این ترتیب این عمودمنصف، خطی است که در نقطه A بر خط d عمود است.



ب) نقطه A خارج خط d است.

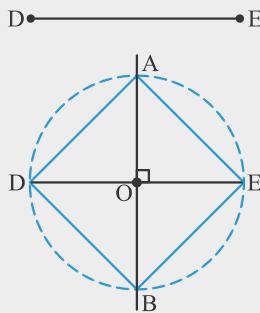
به مرکز A و به شعاع بزرگتر از فاصله نقطه A تا خط d ، خطی رسم می‌کنیم تا خط d را در دو نقطه M و N قطع کند. در این صورت نقطه A از M و N به یک فاصله است بنابراین A روی عمودمنصف پاره‌خط MN قرار دارد. اگر عمودمنصف پاره‌خط MN را رسم کنیم از نقطه A می‌گذرد. به این ترتیب این عمودمنصف، خطی است که از نقطه A گذشته و بر خط d عمود است.

روش رسم خطی موازی بر یک خط از نقطه‌ای خارج آن



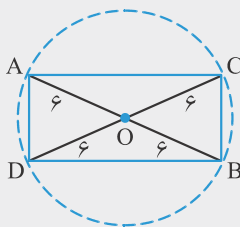
فرض می‌کنیم خط d و نقطه A خارج آن داده شده باشد. می‌خواهیم خطی رسم کنیم که از A بگذرد و با خط d موازی باشد. ابتدا l را طوری رسم می‌کنیم که از نقطه A بگذرد و بر d عمود باشد. سپس خط d' را به گونه‌ای رسم می‌کنیم که از A بگذرد و بر l عمود باشد. در این صورت خطوط d و d' بر خط l عمودند، بنابراین موازی‌اند.

۱۴: مربعی رسم کنید که پاره‌خط مفروض DE قطر آن باشد.



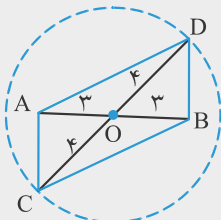
پاسخ: می‌دانیم در مربع قطرهای برابر و عمودمنصف یکدیگرند. بنابراین ابتدا عمودمنصف پاره‌خط معلوم DE را رسم می‌کنیم. سپس به مرکز نقطه O ، وسط پاره‌خط DE و شعاع OD دایره‌ای رسم می‌کنیم. محل برخورد این دایره با عمودمنصف پاره‌خط DE را A و B می‌نامیم. چهارضلعی $ADBE$ مربع موردنظر است.

۱۵: مستطیلی به طول قطر ۱۲ رسم کنید.



پاسخ: می‌دانیم چهارضلعی که قطرهایش برابر و منصف باشند، مستطیل است. بنابراین از نقطه O ، دایره‌ای به مرکز O و شعاع ۶ رسم می‌کنیم. دو قطر دلخواه این دایره را AB و CD می‌نامیم. در چهارضلعی $ACBD$ ، قطرهای برابر و منصف یکدیگرند. پس این چهارضلعی مستطیل موردنظر است. واضح است که بی‌شمار مستطیل با این ویژگی می‌توان رسم کرد.

۱۶: متوازی‌الاضلاعی رسم کنید که طول قطرهای آن ۶ و ۸ باشد.



پاسخ: می‌دانیم در متوازی‌الاضلاع قطرهای منصف یکدیگرند. بنابراین پاره‌خط AB را به طول ۶ رسم می‌کنیم. وسط این پاره‌خط را O می‌نامیم. به مرکز O و شعاع ۴ ($\frac{۸}{۲}$) دایره‌ای رسم می‌کنیم. قطر دلخواهی از این دایره که از A و B نمی‌گذرد را در نظر گرفته، CD می‌نامیم. چهارضلعی $ADBC$ ، متوازی‌الاضلاع موردنظر است. واضح است که بی‌شمار متوازی‌الاضلاع با این ویژگی می‌توان رسم کرد.



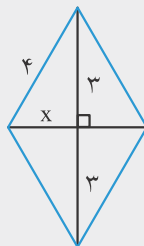
۵: کدام یک از اشکال هندسی زیر با معلومات داده شده به صورت منحصر به فرد (یکتا) قابل رسم است؟

(۱) مستطیلی که طول قطر آن ۴ باشد.

(۲) لوزی که طول ضلع آن ۴ و طول قطر آن ۶ باشد. ✓

(۳) متوازی الاضلاعی که طول قطرهای آن ۵ و ۸ باشد.

(۴) متوازی الاضلاعی که طول اضلاع آن ۴ و ۶ باشد.



پاسخ: گزینه‌های ۱، ۳ و ۴ هر کدام بی‌شمار شکل را معرفی می‌کنند. در صورتی که در گزینه ۲، اگر طول ضلع و قطر لوزی به ترتیب ۴ و ۶ باشد، مطابق شکل با توجه به منصف بودن قطرها و رابطه فیثاغورس می‌توان قطر دیگر لوزی را به دست آورد که در این صورت تنها یک لوزی قابل رسم است.

$$x^2 = 4^2 - 3^2 \Rightarrow x^2 = 7 \Rightarrow x = \sqrt{7}$$

$$\Rightarrow \text{قطر دیگر} = 2\sqrt{7}$$



۶: برای رسم یک متوازی الاضلاع دلخواه که $AC = 6$ یکی از قطرهای

آن است، مطابق شکل از دو سر A و C کمان‌هایی به شعاع‌های a

و b رسم می‌کنیم تا یکدیگر را در نقاط B و D قطع کنند. در این

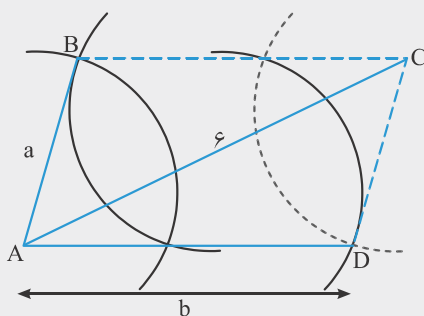
صورت کدام مقدار برای a و b قابل قبول است؟

(۱) $a = 2$ و $b = 3$

(۲) $a = 4$ و $b = 3$ ✓

(۳) $a = 3$ و $b = 3$

(۴) $b = 7$ و $a = 1$



پاسخ: در متوازی الاضلاع اضلاع روبرو برابرند. بنابراین $BC = AD = b$. متوازی الاضلاع زمانی با این روش قابل رسم است که کمان‌های رسم شده به شعاع‌های a و b به مراکز A و C یکدیگر را قطع کنند. به عبارت دیگر مثلث ABC با اضلاع a ، b و 6 قابل رسم باشد. بنابراین باید $6 < a + b$ ، $a + 6 > b$ و $b + 6 > a$ باشد. گزینه ۲ در این نامساوی‌ها صدق می‌کند.

۱. مثالی به طول اضلاع ۴، ۵ و ۶ رسم کنید (طریقه رسم را توضیح دهید).

۲. جاهای خالی را به گونه‌ای تکمیل کنید که

(الف) مسأله زیر دو جواب داشته باشد

(ب) مسأله زیر یک جواب داشته باشد.

(پ) مسأله زیر جواب نداشته باشد

نقاط A و B به فاصله از هم هستند. نقطه‌ای پیدا کنید که فاصله‌اش از نقطه A برابر و از نقطه B برابر باشد.

۳. دو ضلع یک زاویه را در نظر بگیرید.

(الف) نقطه‌ای بیابید که فاصله آن از هر ضلع زاویه مورد نظر ۲ واحد باشد.

(ب) نقطه‌ای بیابید که فاصله آن از هر ضلع زاویه مورد نظر ۴ واحد باشد.

(پ) با استفاده از (الف) و (ب) نیمساز زاویه مورد نظر را رسم کنید.

۴. به کمک خط‌کش و پرگار طریقه رسم زوایای ۶۰° ، ۴۵° ، ۳۰° و ۱۵° را توضیح دهید.

۵. می‌دانیم چندضلعی که قطرهایش منصف هم باشند، متوازی‌الاضلاع است. متوازی‌الاضلاعی رسم کنید که طول قطرهای آن ۴ و ۷ باشد.

چند متوازی‌الاضلاع به طول قطرهای ۴ و ۷ می‌توان رسم کرد؟

۶. می‌دانیم چندضلعی که قطرهایش با هم برابر و منصف هم باشد، مستطیل است. مستطیلی رسم کنید که طول قطر آن ۶ باشد.

۷. مستطیلی رسم کنید که:

(الف) طول اضلاع آن ۳ و ۵ باشد.

(ب) طول یک ضلع آن ۴ و طول قطر آن ۵ باشد.

۸. با توجه به اینکه برای لوزی بودن یک چهارضلعی کافی است که قطرهای آن چهارضلعی عمودمنصف یکدیگر باشند.

(الف) لوزی به طول ضلع ۵ و طول قطر ۶ رسم کنید.

(ب) لوزی رسم کنید که طول قطرهای آن ۳ و ۵ باشد.

۹. پاره‌خط AB را به طول ۱۰ سانتی‌متر رسم کنید.

(الف) عمودمنصف آن را رسم کنید.

(ب) چند نقطه روی عمودمنصف وجود دارند که از دو نقطه A و B به فاصله

(۱) ۱۰ سانتی‌متر هستند؟ (۲) ۵ سانتی‌متر هستند؟ (۳) ۳ سانتی‌متر هستند؟