



آموزش و کتاب کار

فیزیک (۱) پایه دهم
(ویژه‌ی دخترها)

مؤلفان:

محمدرضا خوش‌سیما، محمدرضا شمشیری



انتشارات خوش‌خون

صدای ساز، دلم را می‌خواند. غمی می‌آید که انگار مرا پشت دیوار شادی‌ها نگه می‌دارد. می‌خندم، ولی ای کاش خنده‌ام واقعی بود همان خنده‌های ناب کودکی. ای کاش ثانیه‌های بی‌رحم گاهی از ستم کردن دست برمی‌داشتند. بر جسم بی‌جانم می‌تازند و هر چه می‌گذرد زخمی تازه بر آن می‌زنند. زخم‌های جسمی از روی رحم است، ولی زخم‌هایی که از روی تارهای سفید پیشانی ماه رویان عالمم بر روحم وارد می‌شوند را چه کنم؟! ای کاش می‌توانستم افسار اسب ثانیه‌ها را در دست بگیرم. لحظه‌ای این حیوان رمیده را آرام کنم. گرد سپید را از روی تمام سپید رویان پاک کنم. ولی افسوس ... چنان رمیده، که قرن‌هاست کسی تاب آرام کردنش را ندارد، می‌تازد، می‌تازد، می‌تازد و ...

تقدیم به تمام پدران و مادران زنده‌ی دنیا و تقدیم به روح آن پدران و مادرانی که بر پشت این اسب با کوله‌باری سبک سفر کرده‌اند.

سلبریتی کیه!!!

تو هم‌های دنیا سلبریتی‌های زیادی وجود دارند، حتی تو ایران خودمون. از ما که سنی گذشته، گاهی دوست داریم با سلبریتی‌های نسل خودمون عکس بگیریم، گاهی خاطره‌ای از گذشته‌ی نه خیلی دور رو با اون زنده کنیم، خاطره‌هایی که گاهی اون شخص برای ما تو هنر، ورزش، سینما و ... ساخته. نسل شما که بیشتر، گاهی دوست دارید با شهاب حسینی، علی دایی، سیدسعید معروف، لیلا حاتمی، سعید عزت‌اللهی، رضا عطاران و خیلی خیلی‌های دیگر عکس بگیرید، از شون امضا داشته باشید، حتی گاهی مدل مو، لباس پوشیدن و حرف زدنتون را هم شبیه اون‌ها می‌کنید. این کار را ممکن هر جوانی بکنه، از هر قشر و هر طرز تفکری. یکی ممکنه یه بازیگر را سلبریتی بکنه یکی یه شهید عزیز را؛ نظر هر کدام محترمه (امیدوارم همه‌ی ما از کوچک و بزرگ یاد بگیریم به نظرهای همدیگر احترام بگذاریم).

بیش از ۲۸ سال سابقه‌ی تدریس دارم و نزدیک به ۱۷ ساله مدیر انتشارات خوشخوانم و در تمام این سال‌ها تلاش کردم (نمی‌گم بهترین کار رو تحویل دادم ولی همیشه برای به ۱۰۰ رسیدن تلاش کردم) بهترین کاری که در حد توانم هست رو تحویل دانش آموزان بدهم. از دهه‌ی پنجاهی شاگرد داشتم تا دهه‌ی هشتادی. نسل‌ها تغییر کردن، بارها سیستم آموزشی تغییر کرد ولی تمام تلاشم را کردم که همیشه بهترین آموزش‌ها (نه تنها آموزشی) و بهترین تالیفات را در اختیار دانش‌آموزانم در سراسر ایران قرار بدهم.

چرا از سلبریتی حرف زدم، سلبریتی من تا همین امروز کسی جز معلم فقیدم آقای هدایتی نبود. سلبریتی هر کدام از ما می‌تونه پدر و مادر، معلم، مدیر، مربی و ... و هرکسی که تو زندگی‌مون تاثیر بسزایی داشته، باشه.

نمی‌دونم حس یه بازیگر، یه ورزشکار و ... از این‌که سلبریتی هستن و خیلی‌ها می‌شناسنشون چیه! ولی حس من وقتی که می‌بینم از تمام قومیت‌ها، زبان‌ها و گویش‌ها کسی من رو می‌شناسه وصف ناشدنیه.

حسن شادی، حسی که تا حالا شاید چند باری در زندگی شخصیم بیشتر تجربه نکردم. حسن شادی چشمان دانش‌آموزانی که به صورت اتفاقی من رو می‌شناسن، یا دانش‌آموزی که مدت‌ها پیگیر میشه تا من یا دوستان مولفم رو ببینه وصف ناشدنیه (پیام‌های تلگرامی، اینستا و ... که جای خود دارن). اونجاست که حس می‌کنم تلاش سال‌ها و خوردن خوردن‌ها و تحمل تمام سختی‌ها نتیجه داده و تونستم با این کار کمکی به حتی تعداد اندکی دانش‌آموز بکنم.

این روزهای سال ۹۷ بار فشار را بیش از پیش بر دوش خود برای ادامای کار احساس می‌کنم. روزهای سختی که فشارهای اقتصادی بر دوش بسیاری از نان‌آوران خانواده‌هاست. هر روز بعد از چاپ کتاب جدید شرمندگیم بیشتر می‌شود. اگر می‌تونستم کتاب‌ها را رایگان می‌دادم تا غم کتاب را به غم نان شب اضافه نکنم، وئی چه کنم در این روزهای سخت این امر از توانم خارج است. با تمام این مسائل و با نیرویی که شما دوستان عزیز در طول سال‌ها داده‌اید برای سیرآب کردن ذهن تمام مخاطبان انتشارات تلاش می‌کنیم و امیدواریم خداوند متعال بیش از پیش ما را در این امر یاری کند.

چندجمله‌ای در باب کتاب، این کتاب به همت دو تن از دبیران برجسته و جوان ایران زمین نوشته شده است آقایان خوش‌سیما و شمشیری، با علم و با تجربه. این دو عزیز در طی یک سال اخیر و با توجه به تغییرات سیستم آموزشی و کنکور این کتاب را تألیف کردند، کتابی مفهومی و پر از تمرین. کتابی که می‌تواند شما دوست تجربی را برای دکتر شدن یاری کند.

ان شاء الله بتوانیم با شناخت نیازهای نسل شما و تجربه‌ای به‌دست آمده از سال‌های تدریس دوستان، استرس و دهنره را از دوش تکتکتان برداریم و نسلی شاداب و پر انرژی را، نه تنها برای ساختن آینده‌ی این مرز و بوم بلکه دنیا تربیت کنیم. لازم می‌دانم از تمامی کسانی که در تولید این اثر نقش داشتند به ویژه دو مولف عزیز کمال تشکر را داشته باشم و از شما دوست عزیز نیز به خاطر نواقص و کمبودهای احتمالی طلب عفو دارم.



رسول حاجی‌زاده

مدیر انتشارات خوشخوان

مقدمه مؤلفان

نوشتن برای چند صفحه‌ی اول کتاب سخت است؛ مخصوصاً زمانی که دیدم شاگردانم در مورد همین چند خط بارها با من صحبت کردند. فضای مدرسه‌ها و سیستم آموزشی قبل از ورود به دانشگاه بسیار پر از "دغدغه" است. منتها مهم است بدانیم "دغدغه" ما مطلوب است یا خیر! آقدر نگران آینده، کنکور، دانشگاه و شغل هستیم که آرزوها، انتظارات، تلاش‌ها و نیازهای مان معطوف به آنها شده است ...

دوست داریم درس بخوانیم، رشد کنیم، رشته‌ی خوبی در دانشگاه قبول شویم، پولدار شویم، زندگی مرفهی داشته باشیم و درست آن چیزی که در این مسیر از دست می‌دهیم "زندگی است".

"زندگی" را می‌دهیم تا شاید "زندگی" آینده‌مان را بهتر بسازیم؛

مانند شخصی که قصد داشت برای اولین بار جنگل را ببیند، نقشه‌ی همه‌ی راه‌ها را حفظ کرد، به اطلاعات تمام درخت‌ها مسلط شد، جنس تمام خاک‌های موجود در بستر جنگل را شناخت، اما جنگل را ندید.

چه جنایتی بالاتر از این که چندین سال از بهترین روزها را بسوزانیم تا شاید روزهای آینده را بهتر استفاده کنیم. پول، مقام، شهرت، جایگاه اجتماعی و سلامتی همه و همه اگر حس زیبایی دوستی، خیرخواهی و دانایی آدمی را رشد ندهد به خودی خود مفید نخواهند بود. فرض کنید در بهترین زیباترین جلسه شعرخوانی نشسته‌اید، اما زبان شاعران را نمی‌دانید. حس این روزهای زندگی همین است. تمام انرژی ما صرف رفتن به کنسرت موسیقی می‌شود که صدای‌های شیکی دارد، سالی که بسیاری آرزو دارند در آن شرکت کنند. بلیط‌های گران قیمتی صرف خرید آن می‌شود. آدم‌های معروفی شنونده آن هستند ولی ما یک کلمه از شعرهای آن را نمی‌دانیم ...

روزها فکر من این است و همه شب سخنم
که چرا غافل ز احوال دل خویشتنم
ز کجا آمده‌ام آمدنم پھر چه بود
به کجا می‌روی آخر تنمایی وطنم ...

خودمانی‌تر صحبت کنم، درس بخوانید، تلاش کنید، برای لحظه لحظه‌ی امروز و فردایتان برنامه بریزید ولی! ولی! یادتان باشد که ...

زندگی زمانی زیبا می‌شود که یاد بگیریم به زیبایی‌های اطرافمان، درخت، آسمان، گل، پرنده، برگ، باران و ... نگاه دقیقی کنیم.

زندگی زمانی زیبا می‌شود که از گرفتن دست نیازمندی خوشحال باشیم هر چند خودمان چند قدمی عقب بمانیم ...

زندگی زمانی زیبا می‌شود که هنر را در زندگی مان جای دهیم، خطمان را بهتر کنیم، فیلم، کتاب و تئاتر را در برنامه‌ی هفتگی مان هر چند کم اما مستمر قرار دهیم، از موسیقی لذت ببریم و یادمان باشد برای لذت بردن از یک بیت حافظ هیچ‌گاه قرار نیست پولی پردازیم، برای لذت بردن از فیلم‌های مرحوم علی حاتمی نیازی نیست نگاهمان به نرخ تورم باشد و ...

این گونه می‌توان دانشمندی شویم که دنیا برایش با بقیه دانشمندان فرق کند.

یادمان باشد خیلی دور از دسترس نیست که آقدار در کار و رشته‌ی تحصیلی برجسته شویم که برای دیگران دنیا و آینده‌ی بهتری بسازیم و اطرافمان را آبادتر کنیم، اما درونمان می‌تواند خالی از هر گونه درکی نسبت به زیبایی باشد. بهترین روبات‌ها همیشه در صدر اخبار علمی هستند، قدرتمندترین رایانه‌ها از ذهن تمام دانشمندان پیشی می‌گیرند ولی هیچ حسی ندارند ...

چقدر زیاد نوشتم ...

مجال صحبت بیش از این نیست، فعلاً تلاش ما بر این است که بتوانیم گامی کوچک اما مؤثر در جهت تربیت ذهن و تخصص فرزندان این مرز و بوم برداریم. مفاهیم فیزیک همواره دست‌خوش بیان‌های گوناگون و ارزشیابی‌های دقیقی قرار گرفته است. کتاب فیزیک پایه‌ی دهم از نظر مطرح شدن مفاهیم فیزیکی بدون درگیر شدن با روابط پیچیده و بیان کاربردهای علمی و صنعتی از مفاهیم، نسبت به کتاب‌های دوره‌ی پیشین دیرستان، تحولات نسبتاً زیادی داشته است. از این رو سعی کردیم با آموزش قدم به قدم هر مفهوم را با کمک مثال‌های ساده به‌طور بسیار عمیق آموزش دهیم. مثال‌های متن به گونه‌ای تنظیم شده‌اند که دانش‌آموزان بتوانند به مفاهیم و روابط، همزمان مسلط شده و در نهایت در مسائل نمونه با نکته‌های بیشتری آشنا شوند. مثال و مسائل نمونه دانش‌آموز را برای حل مسائل پیچیده‌تر آماده می‌کند و دانش‌آموز می‌تواند برای محک زدن توانایی خود به تمرین‌های پاسخ کوتاه مراجعه کند و دبیران محترم از این تمرین‌ها به‌عنوان کار در منزل کمک بگیرند. یادمان باشد فیزیک سخت نیست، شیرین است اگر بتوانیم راه صحیح آن را برای آموزش مفاهیم و روابط طی کنیم. تک‌تک مسائل و مثال‌ها این کتاب بعد از جلسه‌های بسیار و با استفاده از تجربه‌های آموزشی مولفین در مدارس برتر تهران انتخاب شده‌اند. لطفاً حل هیچ مسئله‌ای را دست کم نگیرید

... تلاش تلاش ... حتماً نتیجه می‌دهد.

از حل نشدن مساله‌ها ترسید. بدانید که تلاش‌های شما قطعاً باعث ورزیدگی ذهن‌تان می‌شود.

زیر ویران گنج سلطانی بود

من چه غم دارم که ویرانی بود

امیدوارم این تلاش بسیار ما بتواند کمکی باشد در کنار تلاش‌های دانش‌آموزان و اساتید گرانقدر و عزیز تا گامی مثبت در جهت ارتقا علمی درس فیزیک برداشته شود. بسیار سپاسگزار دوستان و اساتیدی خواهیم بود که با پیشنهادهای خود ما را مفتخر نمایند.

در پایان از راهنمایی‌ها و پشتیبانی مدیریت محترم انتشارات خوشخوان جناب آقای مهندس رسول حاجی‌زاده بزرگوار تشکر وافر داریم. همچنین، سپاسگزار ویراستاری علمی دقیق و نظرات مؤثر آقای مهندس محمد وزیرزاده گرامی هستیم که باعث شد کتاب در تطبیق کامل با کتاب درسی ارائه شود.

یا علی







پیروز و سربلند باشید

محمدرضا خوش‌سیما و محمدرضا شمشیری

پاییز سال یک‌هزار و سی صد و هفت خورشیدی


فهرست مطالب



۱	فیزیک و اندازه گیری	فصل اول 
۲۵	کار و انرژی	فصل دوم 
۷۷	ویژگی های ماده و فشار	فصل سوم 
۱۴۳	دما و گرما	فصل چهارم 

فصل اول

فیزیک و اندازه‌گیری





فیزیک دانش بنیادی

کافی است به اطراف خود نگاه کنید، هر کجا که اثری از علوم مهندسی دیده می‌شود، بنیاد و پایه‌ی آن علم فیزیک است. از طراحی یک قطعه‌ی بسیار کوچک صنعتی تا ساخت شاتل‌های فضایی ناسا.

پدیده‌های طبیعی فراوانی پیرامون ما هستند که فیزیک‌دانان در پی قانونمند کردن آن‌ها هستند. آن‌ها طبیعت را مشاهده می‌کنند و الگوها و نظم‌های خاص بین آن‌ها را کشف می‌کنند، نظریه‌های فیزیکی به بیان قوانین طبیعت می‌پردازد. البته این قوانین ثابت نبوده و در طی زمان اصلاح می‌شوند.

✓ **نکته** آزمون‌پذیری و اصلاح نظریه‌های فیزیکی دو نقطه‌ی قوت دانش فیزیک است.

قانون فیزیکی

معمولاً رابطه‌ی بین برخی از کمیت‌های فیزیکی را توصیف می‌کند که در دامنه‌ی وسیعی از پدیده‌های گوناگون معتبر هستند. مانند قوانین نیوتون.

اصل

برای توصیف دامنه‌ی محدودتری از پدیده‌های فیزیکی که عمومیت کم‌تری دارند استفاده می‌شود، مانند اصل پاسکال.

مدل‌سازی در فیزیک

مدل‌سازی در فیزیک فرآیندی است که یک پدیده‌ی فیزیکی، آن‌قدر ساده و آرمانی می‌شود تا امکان بررسی و تحلیل آن فراهم شود. به مثال‌های زیر توجه کنید:

۱ پرتاب توپ

در حین پرتاب توپ، عوامل زیر روی حرکت و مسیر آن تأثیر می‌گذارد:

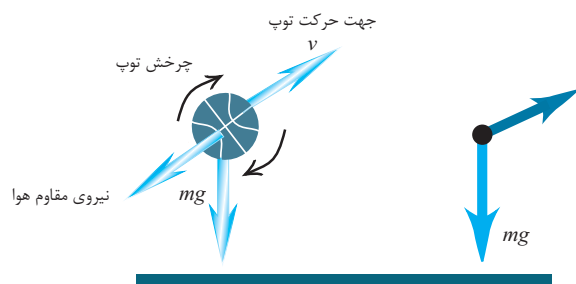
- ۱- تغییر وزن توپ با تغییر ارتفاع آن از سطح زمین
- ۲- کروی نبودن شکل توپ و وجود برجستگی‌های روی آن
- ۳- حرکت توپ به دور خود
- ۴- مقاومت هوا در حرکت توپ

در مدل‌سازی حرکت توپ ساده‌سازی می‌شود. تنها فرض‌های زیر در نظر گرفته می‌شود:

۱ توپ به صورت یک نقطه در نظر گرفته می‌شود.

۲ نیروی گرانش تنها نیروی وارد بر توپ است که ثابت است.

۳ حرکت توپ در خلاء (برای صرف‌نظر کردن از مقاومت هوا)



اندازه‌گیری و کمیت‌های فیزیکی

مفاهیم پیرامون را می‌توان به دو دسته قابل اندازه‌گیری و غیرقابل اندازه‌گیری تقسیم کرد. مفاهیمی چون تعداد دانش‌آموزان داخل کلاس، جرم یک اتومبیل، سرعت حرکت باد و ... قابل اندازه‌گیری و مفاهیمی چون پویایی دانش‌آموزان کلاس، زیبایی ظاهری یک اتومبیل، گوش‌نواز بودن صدای وزیدن باد، مفاهیمی غیرقابل اندازه‌گیری‌اند.

مفاهیم قابل اندازه‌گیری را کمیت و مفاهیم غیرقابل اندازه‌گیری را مفاهیم کیفی می‌نامیم. هر آنچه در فیزیک قابل اندازه‌گیری باشد کمیت نام دارد، مانند جرم یک جسم، زمان سقوط یک گلوله و ...

کمیت‌های نرده‌ای (اسکالر)

برای بیان برخی کمیت‌ها، تنها ذکر یک عدد که همان اندازه است و یکای مناسب آن کافی است، مانند جرم جسم، زمان، طول، قد یک شخص و ...



کمیت‌های برداری

برخی کمیت‌ها فقط با یک عدد و یکای مناسب بیان نیستند. به کمیت‌هایی که علاوه بر اندازه دارای جهت هستند و از قانون جمع برداری پیروی می‌کنند کمیت‌های برداری می‌گوییم. مانند سرعت، شتاب، نیرو، جابه‌جایی، شدت میدان الکتریکی، شدت میدان مغناطیسی و به‌طور مثال اگر شخصی برای دادن آدرس به شما بگوید از جایی که هستید باید یک کیلومتر پیاده‌روی کنید تا به مکان موردنظر خود برسید، شما تمام اطلاعات مورد نیاز را برای رسیدن به مقصد به‌دست نیاورده و به مسیر و جهت حرکت نیز نیاز دارید. بنابراین جابه‌جایی یک کمیت برداری است. کمیت‌های برداری را با علامت پیکان روی نماد آن‌ها نمایش می‌دهند.

\vec{a}	اندازه‌ی شتاب:	a	بردار شتاب:
\vec{F}	اندازه‌ی نیرو:	F	بردار نیرو:
$\vec{\Delta x}$	اندازه‌ی جابه‌جایی:	Δx	بردار جابه‌جایی:
\vec{V}	اندازه‌ی سرعت:	V	بردار سرعت:

اندازه‌گیری و دستگاه‌های بین المللی

برای انجام اندازه‌گیری‌های درست و قابل اطمینان به یک‌گانه‌ی نیاز داریم که دو خاصیت مهم داشته باشند:
اول: تغییر نکنند.

دوم: دارای قابلیت باز تولید در مکان‌های مختلف باشند.
به‌طور مثال اگر ملاک سنجش طول، اندازه‌ی و جب دست هر شخص باشد، اندازه دست افراد مختلف نسبی و قابل تغییر است و این نمی‌تواند ملاک صحیحی برای سنجش باشد.

تعریف دستگاه بین المللی (SI) یا متریک

دستگاه یک‌گانه‌ی که بیش‌تر دانشمندان و مهندسان علوم در سراسر جهان به کار می‌برند در سال ۱۹۶۰ به‌طور رسمی دستگاه بین المللی (SI) نامیده شد. در سال ۱۹۷۱ مجمع عمومی اوزان و مقیاس‌ها، هفت کمیت را به عنوان کمیت اصلی انتخاب کرد. این کمیت‌ها به‌طور مستقل تعریف شدند و برای هر یک یکای اصلی نیز تعریف کردند.
جدول زیر که کمیت‌های اصلی و یک‌گانه‌ی آن هستند را به خاطر بسپارید.

کمیت	نام یکا	نماد یکا
طول	متر	m
جرم	کیلوگرم	kg
زمان	ثانیه	s
دما	کلوین	K
مقدار ماده	مول	mol
جریان الکتریکی	آمپر	A
شدت روشنایی	کندلا	cd

کمیت فرعی

کمیت‌هایی هستند که به‌طور مستقل بیان نمی‌شوند و توسط روابط فیزیکی به سایر کمیت‌ها وابسته‌اند.

مثال ۱ وابستگی کمیت‌های فرعی به سایر کمیت‌ها چه مزیتی دارد؟

پاسخ: کمک می‌کند تا لازم نباشد برای همه‌ی کمیت‌های فیزیکی، یکای مستقل تعریف کنیم.
در ادامه با یک‌گانه‌ی طول، جرم و زمان در سیستم SI آشنا می‌شویم.



طول

تا به حال یک متر سه تعریف جهانی داشته است:

- ۱) اواخر قرن هجدهم: یک ده میلیونیم فاصله‌ی استوا تا قطب شمال
- ۲) تا سال ۱۹۶۰: فاصله‌ی دو خط حک شده در نزدیکی دو سر میله‌ای از جنس پلاتین- ایریدیوم در دمای صفر درجه‌ی سلسیوس
- ۳) ۱۹۸۳: مسافتی که نور در مدت زمان $\frac{1}{299792458}$ ثانیه در خلاء طی می‌کند.

سایر واحدهای جایگزین متر

- ۱) یکای نجومی: برابر میانگین فاصله‌ی زمین تا خورشید است. نماد نمایش آن AU است.
- ۲) ذرع و فرسنگ: از جمله یکاهای قدیمی ایرانی برای طول است.

$$1AU \approx 1.5 \times 10^{11} m$$

جرم

یکای جرم در SI کیلوگرم (kg) نامیده می‌شود و به صورت جرم استوانه‌ای فلزی از جنس آلیاژ پلاتین- ایریدیوم تعریف می‌شود. این نمونه در موزه سور فرانسه نگهداری می‌شود.

سایر واحدهای جایگزین جرم:

- ۱) یک خروار \approx معادل $294/4 kg$ گرم = ۱۰۰ من تبریز
- ۲) یک من تبریز \approx معادل $2944 g$ گرم = ۴۰ سیر = ۶۴۰ مثقال
- ۳) یک سیر \approx معادل $73/6 g$
- ۴) یک مثقال \approx معادل $4/6$ گرم = ۲۴ نخود = ۹۶ گندم
- ۵) یک نخود \approx معادل $0/20$ گرم
- ۶) یک گندم \approx معادل $0/050$ گرم

زمان

تاکنون دو استاندارد برای واحد زمان (یک ثانیه) به کار رفته است.

- ۱) از سال ۱۲۶۸ تا ۱۳۴۶ هجری شمسی: معادل $\frac{1}{86400}$ میانگین روز خورشیدی.
- ۲) از سال ۱۳۴۶ هجری شمسی تاکنون: براساس پرش الکترون در ساعت‌های اتمی تعریف می‌شود، زیرا این ساعت‌ها پس از چندین میلیون سال تنها یک ثانیه عقب یا جلو می‌افتند.

تبدیل یکا

بسیاری از مواقع در بیان کمیت‌های فیزیکی برحسب واحدهای SI ، با اعداد بسیار بزرگ یا کوچکی مواجه می‌شویم که نوشتن آن‌ها به‌طور مداوم سخت است. به‌طور مثال بار الکتریکی روی صفحات خازن که در سال یازدهم با آن آشنا می‌شوید عموماً در حدود $0/000001$ کولن است و یا جرم گازها که در فصل چهارم با آن آشنا می‌شوید در حدود $0/001$ کیلوگرم است. برای حل این مشکل از برخی پیشوندها استفاده می‌شود. این پیشوندها می‌توانند اعداد کوچک و بزرگ را به سهولت نمایش دهند.



در جدول زیر پیشوند یکاها که حفظ کردن آن الزامیست آورده شده است!

جدول پیشوندهای یکاهای SI					
نماد	پیشوند	ضریب	نماد	پیشوند	ضریب
y	یکتو	10^{-24}	Y	یوتا	10^{24}
z	زپتو	10^{-21}	Z	زتا	10^{21}
a	آتو	10^{-18}	E	اگزا	10^{18}
f	فمتو	10^{-15}	P	پتا	10^{15}
p	پیکو	10^{-12}	T	ترا	10^{12}
n	نانو	10^{-9}	G	گیگا (جیگا)	10^9
μ	میکرو	10^{-6}	M	میگا	10^6
m	میلی	10^{-3}	k	کیلو	10^3
c	سانتی	10^{-2}	h	هکتو	10^2
d	دسی	10^{-1}	da	دکا	10^1

پیشوندهایی که کاربرد بیش تری دارند و بهتر است آن‌ها را به خاطر بسپارید، رنگی نشان داده شده‌اند.

برای بیان اعداد با پیشوند به صورت زیر عمل می‌کنیم:

یکاً + پیشوند + عدد

مثال ۲ دو میلی ثانیه 2 ms

۵ نانومتر 5 nm

$3/1\text{ km}^2$ ۳/۱ کیلومتر مربع

$0/7\text{ dA}^2$ ۰/۷ دسی آمپر مربع

برای تبدیل یکاها به یکدیگر به روش زیر عمل می‌کنیم:

۱ ابتدا دو طرف را به صورت معادله می‌نویسیم.

۲ سپس پیشوندها را با اعداد مربوط به آن‌ها جاگذاری می‌کنیم.

۳ اگر پیشوندها دارای توان بودند، توان آن‌ها را فقط برای اعدادشان قرار می‌دهیم.

۴ معادله را حل می‌کنیم.

به مثال زیر توجه کنید:

مثال ۳ تبدیل یکاهای زیر را انجام دهید.

۱) $3000\text{ hs} = ?\text{ s}$

۲) $51\text{ fm} = ?\text{ m}$

۳) $0/03\text{ kg} = ?\text{ }\mu\text{g}$

۴) $750\text{ km}^2 = ?\text{ m}^2$

۵) $0/0008\text{ nm}^2 = ?\text{ cm}^2$

۶) $4/12\text{ K}^3 = ?\text{ K}^3$

۷) $0/056\text{ dam}^3 = ?\text{ pm}^3$



پاسخ:

$$1) 3000 \text{ hs} = ? s \Rightarrow 3000 \times 10^2 = x \Rightarrow x = 3 \times 10^5$$

$$2) 51 \text{ fm} = ? m \Rightarrow 51 \times 10^{-15} = x \Rightarrow x = 5.1 \times 10^{-14}$$

$$3) 0.3 \text{ kg} = ? \mu\text{g} \Rightarrow 0.3 \times 10^3 = x \times 10^{-6} \Rightarrow x = 3 \times 10^7$$

$$4) 750 \text{ km}^2 = ? m^2 \Rightarrow 750 \times (10^3)^2 = x \Rightarrow x = 7.5 \times 10^8$$

$$5) 0.0008 \text{ nm}^2 = ? \text{ cm}^2 \Rightarrow 0.0008 \times (10^{-9})^2 = x \times (10^{-2})^2 \Rightarrow x = \frac{8 \times 10^{-4} \times 10^{-18}}{10^{-4}} = 8 \times 10^{-18}$$

$$6) 4/12 \text{ K}^3 = ? \text{ K}^3 \Rightarrow 4/12 \times (10^{-2})^3 = x \Rightarrow x = 4/12 \times 10^{-6}$$

$$7) 0.056 \text{ dam}^3 = ? \text{ pm}^3 \Rightarrow 0.056 (10^1)^3 = x \times (10^{-12})^3 \Rightarrow x = \frac{0.056 \times 10^{-2} \times 10^3}{10^{-36}} = 0.056 \times 10^{37}$$

تبدیل یکاهای خاص

برخی واحدها هستند که تنها برای یک کمیت خاص به کار می‌روند، مهم‌ترین آن‌ها را در زیر خواهیم دید. آن‌ها را به خاطر بسپارید:

1 لیتر: برای بیان حجم	← نماد: L	تبدیل یکا:	$1 L = 10^{-3} m^3$
2 ساعت: برای بیان زمان	← نماد: h	تبدیل یکا:	$1 h = 3/6 \times 10^3 s$
3 دقیقه: برای بیان زمان	← نماد: min	تبدیل یکا:	$1 min = 6 \times 10 s$
4 سی‌سی: برای بیان حجم	← نماد: cc	تبدیل یکا:	$1 cc = 10^{-6} m^3$

مثال 4 هر لیتر معادل چند سانتی‌متر مکعب است؟

پاسخ: ابتدا معادله‌ی آن را می‌نویسیم:

سپس واحد را جایگذاری می‌کنیم:

در آخر معادله را حل می‌کنیم:

$$1 L = ? cm^3$$

$$1 \times 10^{-3} m^3 = x \times (10^{-2})^3$$

$$x = \frac{10^{-3}}{10^{-6}} = 1000$$

تبدیل یکاهای کسری

برخی واحدهای کمیت‌های فیزیکی به صورت کسری (یعنی تقسیم واحدی بر واحد دیگر) بیان می‌شوند. تبدیل یکاهای آن‌ها به همان روش ذکر شده است. فقط جایگذاری پیشوندهای کسری به صورت کسری در معادله نوشته می‌شوند.

مثال 5 تبدیل واحدهای زیر را انجام دهید:

$$1) 72 \frac{km}{h} = ? \frac{m}{s} \quad 2) 250 \frac{cm^3}{s} = ? \frac{L}{min}$$

$$1) 72 \frac{km}{h} = ? \frac{m}{s} \Rightarrow 72 \times \frac{(10^3)}{(3/6 \times 10^3)} = x \Rightarrow x = 20$$

$$2) 250 \frac{cm^3}{s} = ? \frac{L}{min} \Rightarrow 250 \times \frac{(10^{-2})^3}{1} = x \times \frac{10^{-3}}{6 \times 10} \Rightarrow x = 15$$

پاسخ:

سازگاری یکاها

کمیت‌های فیزیکی با نمادهای خاصی مشخص می‌شوند. برای بیان ارتباط بین این کمیت‌ها از روابط و معادله‌هایی استفاده می‌شود. هنگام استفاده از این روابط باید دقت کنید که یکاهای کمیت‌ها در دو طرف رابطه سازگار باشد. برای این منظور واحدهای زیر را به ذهن بسپارید:

$$V : \text{سرعت} \rightarrow \frac{m}{s}$$

$$a : \text{شتاب} \rightarrow \frac{m}{s^2}$$

$$F : \text{نیرو} \rightarrow N = kg \frac{m}{s^2}$$



$$E, U, K, Q : \text{انواع انرژی} \rightarrow J = kg \frac{m^2}{s^2}$$

$$P : \text{فشار} \rightarrow Pa = \frac{kg}{ms^2}$$

مثال ۶ در فصل ۴ خواهید آموخت گرمای مبادله شده‌ی یک جسم در تغییر حالت جامد به مایع از رابطه‌ی $Q = mL_f$ به دست می‌آید که m جرم جسم و Q انرژی گرمایی مبادله با جسم است. L_f گرمای نهان ذوب جسم است، واحد آن را بیابید؟

$$Q = mL_f$$

پاسخ:

$$J = kg \times [L_f] \Rightarrow [L_f] = \frac{J}{kg}$$

اندازه‌گیری با خطا و دقت

بسیاری از اندازه‌هایی که از کمیت‌های فیزیکی می‌شنوید قطعیت نداشته و دارای خطا هستند. وسایل اندازه‌گیری مختلف، دقت‌های متفاوتی دارند. باید توجه داشت گاهی دقت‌های بالا مورد نیاز نیست و گاهی در ساخت برخی وسایل باید دقت بسیار زیادی به کار برد. دقت اعداد اندازه‌گیری شده به سه عامل زیر بستگی دارد:

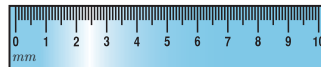
۱) دقت وسایل اندازه‌گیری

۱) برای خط‌کش و سایر وسایل مدرج: $\pm \frac{1}{p}$ کم‌ترین مقداری است که تقسیم‌بندی مقیاس آن نمایش می‌دهد.

مثال: خط‌کشی که فقط درجه‌بندی سانتی‌متر دارد: $\pm 0.5 \text{ cm}$



مثال: خط‌کشی که درجه‌بندی میلی‌متر دارد: $\pm 0.5 \text{ mm}$



۲) وسایل دیجیتالی رقمی: ± 1 واحد از آخرین عددی که می‌خواند.

مثال: ثانیه شمار روبرو عدد ۴۳ را نمایش می‌دهد. دقت: ± 1 ثانیه



مثال: ثانیه شمار روبرو عدد ۴۳/۵ را نمایش می‌دهد. دقت: ± 0.1



۲) مهارت شخصی آزمایشگر

مهارت‌های مختلفی برای اندازه‌گیری و خواندن توسط شخص آزمایشگر باید به کار گرفته شود. به‌طور مثال زاویه‌ی دید مناسب برای خواندن اعداد.

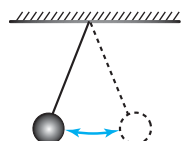
۳) تعداد دفعات اندازه‌گیری

تعداد دفعات اندازه‌گیری و گرفتن میانگین باعث کاهش خطا می‌شود.

مثال ۷

برای خواندن دقیق دوره‌های زمانی حرکت رفت و برگشت یک آونگ چه پیشنهادی می‌کنید؟

پاسخ: تعداد دفعات رفت و برگشت را افزایش داده و با این کار زمان دقیق‌تری را به دست می‌آوریم.



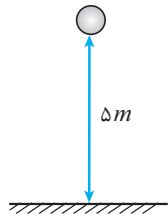
$$T = \frac{t}{N}$$

زمان یک دوره‌ی تناوب = تعداد دفعات رفت و برگشت



نکته ✓ در میانگین‌گیری، اعدادی که از سایر اعداد فاصله‌ی زیادی دارند، در محاسبه شرکت داده نمی‌شوند.

مثال ۸ می‌خواهیم زمان سقوط یک گلوله را از ارتفاع ۵ متری اندازه‌گیری کنیم. پس از ۸ بار آزمایش اندازه‌های زیر به دست می‌آید. زمان سقوط این گلوله چند ثانیه است؟



نوبت آزمایش	۱	۲	۳	۴	۵	۶	۷	۸
زمان آزمایش شده	۰/۹۰	۰/۹۴	۱/۰۵	۱/۵	۰/۷۰	۱/۱۰	۰/۹۸	۱

پاسخ: اعداد آزمایش شده در آزمایش نوبت ۴ و ۵ اختلاف زیادی با سایر اعداد دارند بنابراین از آزمایش حذف می‌شوند.

$$t = \frac{0/90 + 0/94 + 1/05 + 1/10 + 0/98 + 1}{6} = 0/995 (s)$$

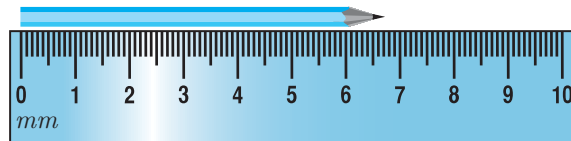
رقم‌های با معنا و گزارش نتیجه‌ی اندازه‌گیری

رقم با معنا: پس از اندازه‌گیری رقم‌هایی که ثبت می‌شوند، رقم‌های با معنا نامیده می‌شوند.

نکته ✓ رقم‌های با معنا می‌توانند قطعی یا غیرقطعی باشند.

رقم غیرقطعی: رقمی که وسیله‌ی اندازه‌گیری دقیقاً آن را نشان نمی‌دهد و شخصی که اندازه‌گیری می‌کند آن را حدس می‌زند.

مثال ۹ با یک خط‌کش اندازه‌گیری معمولی طول یک مداد را می‌خواهیم اندازه بگیریم انتهای نوک مداد به صورت زیر در کنار خط‌کش قرار گرفته است. بیان کنید که چه عددی را می‌خوانید عدد خوانده شده چند عدد با معنا و چند عدد غیرقطعی دارد؟



پاسخ: طول مداد بین ۶/۷ و ۶/۸ سانتی‌متر خوانده می‌شود. بنابراین می‌نویسیم:

$$\begin{array}{c} \text{دو رقم} \\ \text{با معنا} \\ \hline 67 / \quad 2 \\ \hline \text{رقم حدسی و} \\ \text{غیر قطعی} \end{array} \quad mm \pm 0/5 mm \quad \text{یا} \quad \begin{array}{c} \text{دو رقم} \\ \text{با معنا} \\ \hline 67 / \quad 3 \\ \hline \text{رقم حدسی و} \\ \text{غیر قطعی} \end{array} \quad mm \pm 0/5 mm$$

نکته ✓ در وسایل اندازه‌گیری با نمایشگر رقمی (دیجیتال) آخرین رقم سمت راست نتیجه‌ی اندازه‌گیری غیرقطعی و مشکوک است.

بیش تر بدانیم

کولیس و ریزسنج

از جمله ابزارهای اندازه‌گیری طول در کارگاه‌های صنعتی هستند.

الف) دقت اندازه‌گیری کولیس‌ها

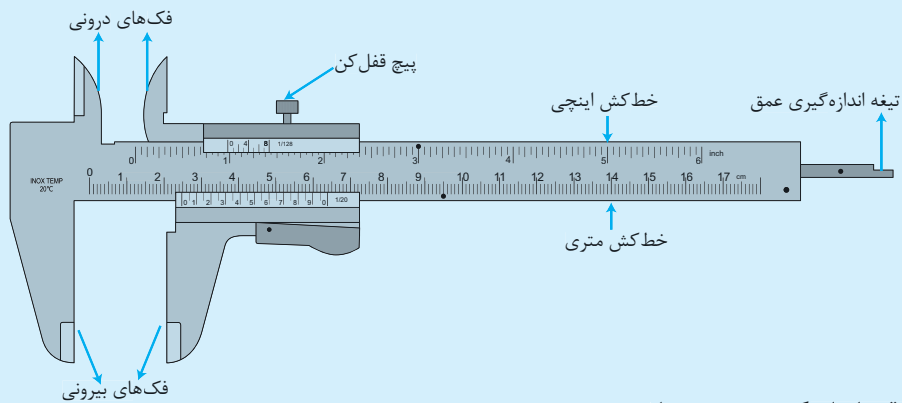
۱) اگر کمینه‌ی تقسیم‌بندی آن $0/1 mm$ باشد، بنابراین عدد اندازه‌گیری شده به صورت زیر نمایش داده می‌شود:

$$6/40 mm \pm 0/05 mm \quad \text{عدد اندازه‌گیری شده}$$



۲ اگر کمینه‌ی تقسیم‌بندی کولیس‌ها 0.5 mm باشد:

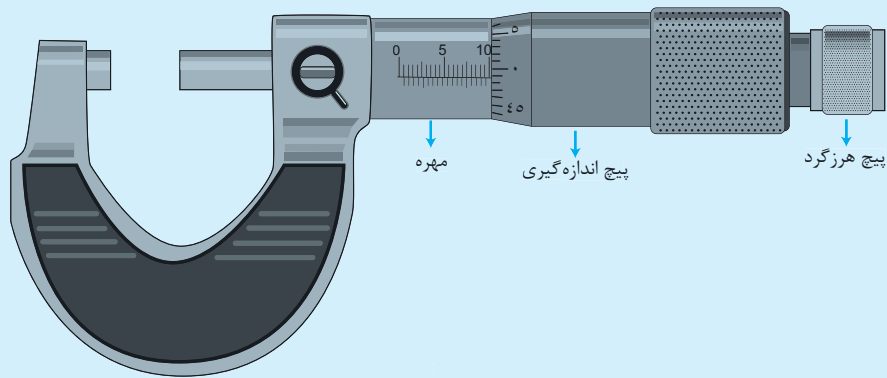
عدد اندازه‌گیری شده $3.70\text{ mm} \pm 0.3\text{ mm}$



ب) دقت اندازه‌گیری ریزسنج‌ها

اگر کمینه‌ی تقسیم‌بندی ریزسنج‌ها 0.1 mm باشد:

عدد اندازه‌گیری شده $2.23\text{ mm} \pm 0.05\text{ mm}$



تخمین مرتبه‌ی بزرگی

تاکنون به اعدادی که از کمیت‌ها و یا گزارش‌های اطراف خود می‌شنوید دقت کرده‌اید؟ برخی مواقع بیان حدود این اعداد برای محاسبه و داشتن ذهنیت اولیه نسبت به آن کمیت یا گزارش کافی است. به‌طور مثال اگر از شما پرسیده شود جمعیت کشور ایران چند نفر است، گفتن عدد حدودی ۷۵ میلیون کافی است و کسی که سؤال می‌پرسد به اعداد ریزتر احتیاج نخواهد داشت. این سؤال را می‌توان در مورد بسیاری از پدیده‌ها به‌طور تقریبی پاسخ داد؛ به عنوان مثال می‌توان به جرم سیاره‌ی مشتری، تعداد مولکول‌های بدن انسان، تعداد ضربان‌های قلب انسان در عمر خود، تعداد موهای سر یک شخص، تعداد قدم‌هایی که یک انسان در یک سال برخواهد داشت، اشاره کرد.

به بیان حدودی اعداد، تخمین می‌گویند که در علم و زندگی روزمره کاربرد فراوانی دارد.

در موارد زیر تخمین مفید و مورد استفاده خواهد بود:

۱ دقت بالا در محاسبه‌ها، اهمیت چندانی نداشته باشد. به‌طور مثال تعداد دقیق آب‌زبان یک دریاچه برای فعالیت‌های محیط زیستی کارایی نداشته باشد/

۲ زمان کافی برای محاسبه‌های دقیق نداشته باشیم. گاهی گزارش‌های تحقیقاتی برای محاسبات دقیق هزینه و زمان زیادی نیاز دارند که صرفه اقتصادی نخواهد داشت.

۳ همه یا بخشی از داده‌های موردنیاز، در دسترس نباشد. بسیاری از تخمین‌های فضایی از این دست هستند.

نوعی از تخمین که در فیزیک کاربرد زیادی دارد، تخمین مرتبه‌ی بزرگی نام دارد. در تخمین مرتبه‌ی بزرگی، اعداد اغلب به صورت توان‌هایی از 10 نمایش داده می‌شوند. دقت شود در تخمین ممکن است عدد به‌دست آمده با مرتبه‌ی واقعی، یک یا دو مرتبه تفاوت داشته باشد.



حال با روش تخمین آشنا می‌شویم:

۱) **تبدیل به نمادگذاری علمی:** تمامی اعداد در محاسبات به صورت نماد علمی نمایش داده می‌شوند. در نمایش علمی هر عدد به صورت زیر نمایش داده می‌شود.

$$x = a \times 10^n \quad n \in \mathbb{Z} \quad 0 < a < 10$$

$$\begin{cases} 5 \leq a < 10 \Rightarrow a = 10 \\ 1 \leq a < 5 \Rightarrow a = 1 \end{cases}$$

۲) **گرد کردن:** در این مرحله به صورت زیر a را تبدیل می‌کنیم.

به مثال‌های زیر دقت کنید:

$$1) x = 0.000521 = 5/21 \times 10^{-4} \Rightarrow 5/21 > 5 \Rightarrow 5/21 \rightarrow 10 \Rightarrow x = 10 \times 10^{-4} = 10^{-3}$$

$$2) x = 49700 = 4/9700 \times 10^4 \Rightarrow 4/97 < 5 \Rightarrow 4/97 \rightarrow 1 \Rightarrow x = 1 \times 10^4 = 10^4$$

$$3) x = 23417 = 2/3417 \times 10^4 \Rightarrow 2/34 < 5 \Rightarrow 2/34 \rightarrow 1 \Rightarrow x = 1 \times 10^4 = 10^4$$

حال به برخی مثال‌های واقعی در اطراف خود توجه می‌کنیم:

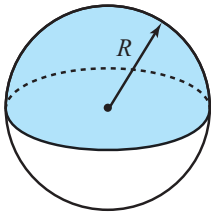
مثال ۱۰ تعداد موهای سر یک انسان را تخمین بزنید.

پاسخ: ابتدا باید ابعاد حدودی سر انسان را داشته باشیم. اگر سر انسان را یک کره به قطر ۲۰ سانتی‌متر در نظر بگیریم که نیمی از این کره را مو پوشانده باشد، مساحت آن $2\pi R^2$ خواهد بود.

$$D = 20 \text{ cm} \Rightarrow R = 10 \text{ cm} \Rightarrow S = 2 \times \pi R^2 = 2 \times 3/14 \times 10^2 = 628 \text{ cm}^2 = 62800 \text{ mm}^2$$

اگر در هر میلی‌متر مربع ۱۰ مو وجود داشته باشد، با نسبت تناسب تعداد مول‌های سر انسان به دست می‌آید.

$$\frac{1 \text{ mm}^2}{62800 \text{ mm}^2} = \frac{10}{N} \Rightarrow N = 628000$$



$$N = 628000 = 6/28 \times 10^5$$

$$6/28 > 5 \Rightarrow 6/28 \rightarrow 10 \Rightarrow N = 10 \times 10^5 = 10^6$$

حال تخمین می‌زنیم:

مرحله اول: نماد علمی:

مرحله دوم: گرد کردن:

مثال ۱۱ شعاع کره‌ی زمین در حدود ۶۴۰۰ کیلومتر است. فشار هوای روی کره‌ی زمین در سطح دریا حدود 10^5 پاسکال است. مرتبه‌ی بزرگی جرم هوای کره‌ی زمین بر حسب کیلوگرم را تخمین بزنید.

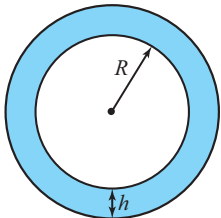
پاسخ: با توجه به رابطه‌ی $P = \frac{F}{A}$ و اینکه $F = mg$ جرم هوای کره‌ی زمین را محاسبه می‌کنیم.

$$P_0 = \frac{mg}{A} \Rightarrow m = \frac{P_0 A}{g} = \frac{P_0 \times 4\pi R^2}{g} = \frac{10^5 \times 4 \times 3/14 \times (6400 \times 10^3)^2}{10} = \frac{10^5 \times 4 \times 3/14 \times (6/4 \times 10^6)^2}{10} = \frac{10^5 \times 10 \times (10 \times 10^6)^2}{10} = 10^{19} \text{ kg}$$

مثال ۱۲ حجم آب‌های روی کره‌ی زمین را تخمین بزنید. شعاع زمین ۶۴۰۰ کیلومتر است.

پاسخ: $\frac{4}{5}$ سطح کره‌ی زمین آب است. اگر عمق آب‌های روی کره‌ی زمین را به‌طور میانگین ۱۰۰۰ متر تخمین بزنیم. می‌توان فرض کرد که حجم آب‌های

روی کره‌ی زمین برابر است با:



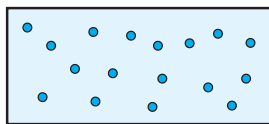
$$V = \frac{4}{5} \times 4\pi R^2 h$$

$$= 0/8 \times 4 \times 3/14 \times (6400 \times 10^3)^2 \times 1000$$

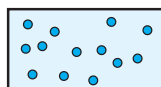
$$\left\{ \begin{array}{l} 0/8 \rightarrow 8 \times 10^{-1} \rightarrow 10 \times 10^{-1} = 1 \\ 4 \times 3/14 \rightarrow 10 \\ 6400 \times 10^3 = 6/4 \times 10^6 \rightarrow 10 \times 10^6 = 10^7 \\ 1000 \rightarrow 10^3 \end{array} \right. \Rightarrow V = 1 \times 10 \times (10^7)^2 \times 10^3 = 10^{18} \text{ m}^3$$



تا به حال به مفهوم کلمه‌ی «تراکم» فکر کرده‌اید. گاهی گفته می‌شود تراکم جمعیت در یک شهر بسیار زیاد است یا تراکم جمعیت درب سینمای آزادی در جشنواره‌ی فجر بسیار زیاد است. آیا منظور تعداد آدم‌هایی است که آنجا قرار دارند؟ چرا اگر ۵ نفر در تاکسی باشند تراکم جمعیت زیاد ولی وقتی ۱۰۰ نفر بخواهند در یک ورزشگاه بزرگ جای بگیرند تراکم جمعیت کم می‌شود؟ مفهوم تراکم به نسبت تعداد یک شیء در یک حجم یا سطح مشخص گفته می‌شود. این مفهوم در مولکول‌های یک ماده نیز وجود دارد که اصطلاحاً به آن چگالی می‌گویند.



A: تعداد نقاط : ۱۷



B: تعداد نقاط : ۱۳

در شکل بالا تراکم نقاط در شکل A از شکل B کم‌تر است. با این‌که تعداد نقاط در B از A کم‌تر است. علت این واقعه همان اهمیت نسبت کمیت‌ها به یکدیگر است. باید نسبت را مورد ارزیابی قرار داد تعداد مولکول‌ها، نقاط، انسان‌ها و ... در یک فضای مشخص را باید مقایسه کرد. بنابر تعریف به نسبت جرم ماده به حجمی که آن ماده اشغال می‌کند چگالی می‌گویند. چگالی هر ماده در یک دما و فشار مشخص مقدار ثابتی است و فقط به نوع آن ماده بستگی دارد.

$$\rho = \frac{m}{V}$$

چگالی ماده برحسب کیلوگرم بر متر مکعب : ρ

جرم جسم برحسب کیلوگرم : m

حجم جسم برحسب متر مکعب : V

دقت شود در رابطه‌ی بالا V ، حجمی از جسم است که ماده در آن قرار دارد یعنی اگر جسمی توخالی بود برای محاسبه‌ی حجم باید حجم ظاهری جسم را از حجم توخالی کم کرد.

$$V = V_{\text{ظاهری}} - V_{\text{خالی}}$$

چگالی ماده اگر تغییر کند یعنی خواص آن ماده تغییر کرده است. تشخیص برخی بیماری‌ها در علم پزشکی بر این اساس است. چگالی خون را محاسبه می‌کنند اگر با مقدار حالت عادی آن اختلاف داشته باشد، یعنی مشکلی در ساختار آن به وجود آمده است.

تبدیل واحدهای زیر را در محاسبه‌ی چگالی به خاطر بسپارید.

نکته ✓

$$۱) \frac{g}{cm^3} = ۱۰۰۰ \frac{kg}{m^3}$$

$$۲) \frac{kg}{L} = ۱ \frac{g}{cm^3}$$

$$۳) \frac{g}{L} = ۱ \frac{kg}{m^3}$$

مثال ۱۳ داخل یک ظرف نیم لیتری، چند گرم روغن به چگالی $\frac{kg}{m^3} ۸۰۰$ جای می‌گیرد؟

پاسخ: حجم را برحسب متر مکعب باید جایگذاری کرد!

$$\rho = \frac{m}{V}$$

$$۸۰۰ = \frac{m}{۰/۵ \times ۱۰^{-۳}} \Rightarrow m = ۰/۴ kg = ۴۰۰ g$$



مسائل نمونه فصل (۱)

رنگاه بین المللی نگاهها

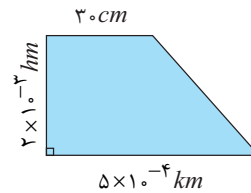
۱. در فصل ۴ خواهیم دید گرما از رابطه‌ی $Q = mc\Delta\theta$ به دست می‌آید که در آن Q گرما بر حسب J و m جرم بر حسب kg و $(\Delta\theta)$ تغییرات دما بر حسب $^{\circ}C$ است. واحد ضریب c را بر حسب واحدهای اصلی کمیت‌های اصلی به دست آورید.

۲. کمیت فشار حاصل تقسیم نیرو بر سطح است واحد آن را بر حسب واحدهای اصلی کمیت‌های اصلی به دست آورید.

۳. فرمول ارتفاع اوج یک پرتابه از رابطه‌ی $H = \frac{V_0^n \sin^2 \alpha}{2g}$ محاسبه می‌شود. که در آن H ارتفاع اوج پرتابه، g شتاب گرانش، V_0 سرعت اولیه و α زاویه‌ی پرتاب نسبت به سطح افق است. با توجه به واحدهای کمیت‌های موجود در رابطه، توان $(n)V_0$ را بیابید.

تبدیل واحد

۴. مساحت دوزنقه‌ی شکل زیر را بر حسب dm^2 به دست آورد.



۵. تبدیل واحدهای زیر را انجام دهید.

$$\text{الف) } \frac{Mm^3}{ms} = ? \frac{lit}{ds} \quad \text{ب) } \frac{km}{min^2} = ? \frac{m}{s^2}$$

۶. جرم یک مقدار آجیل ۵۰ سیر بیان شده است. جرم آن چند گرم است؟ (هر مثقال ۴/۸۶ گرم و هر سیر معادل ۱۶ مثقال است.)

۷. یک تلو بیژون به ابعاد 50×72 سانتی‌متر چند فوت مربع است؟ هر فوت برابر ۱۲ اینچ و هر اینچ تقریباً $2/5$ سانتی‌متر است.

۸. یک ماه نوری تقریباً چند کیلومتر است؟

رنگه اندازه گیری

دقت اندازه‌گیری هر یک از اعداد خوانده شده چند گرم است؟

$$9. \quad 2/5 \times 10^{-3} kg$$

$$10. \quad 0/04 \times 10^{-2} dg$$

$$11. \quad 0/780 \times 10^6 hg$$

$$12. \quad 3500 \times 10^{-1} kg$$

۱۳. دقت اندازه‌گیری عدد خوانده شده را بیان کنید.



تخمین

۱۴. تعداد ضربان‌های قلب یک انسان را در طول عمرش تخمین بزنید.

۱۵. با تخمین مناسب مصرف سالیانه‌ی آب در کشور برای استحمام بر حسب متر مکعب را حساب کنید. (مرحله اول المپیاد فیزیک ایران)

۱۶. مسافتی که یک انسان به طور متوسط در طول عمر خود می‌پیماید را بر حسب متر تخمین بزنید. (مرحله اول المپیاد فیزیک ایران)

۱۷. بنابر یک نظریه‌ی موجود در مورد مبدأ عالم، جهان اولیه دارای چگالی $10^{15} \frac{g}{cm^3}$ و شعاع آن برابر فاصله‌ی کنونی زمین تا خورشید بوده

است. اگر ماده‌ی موجود در عالم را متشکل از پروتون، نوترون و الکترون با تعداد مساوی در نظر بگیریم، مرتبه‌ی بزرگی جرم تشکیل دهنده‌ی جهان را تخمین بزنید. (مرحله اول المپیاد فیزیک ایران با کمی تغییر)

۱۸. نسبت مقدار بارش سالانه‌ی باران در زمین به آب اقیانوس‌ها را تخمین بزنید. شعاع کره‌ی زمین حدوداً 6400 کیلومتر است.

(مرحله اول المپیاد فیزیک ایران)

۱۹. اگر سطح کره‌ی زمین با اسکناس هزار تومانی پر شود، تقریباً چند تومان اسکناس لازم خواهد بود؟ (شعاع کره‌ی زمین حدوداً 6400 کیلومتر است.)

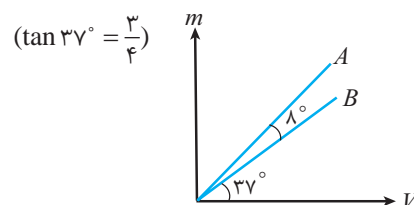
چگالی

۲۰. یک مکعب فلزی به جرم $3/2$ کیلوگرم به ابعاد $10 \times 40 \times 2/5$ سانتی‌متر دارای حفره‌ی هوا است. اگر چگالی آن 4 گرم بر سانتی‌متر مکعب باشد، حجم حفره را بر حسب سانتی‌متر مکعب بیابید.

۲۱. یک لیوان پر از آب دارای جرم 300 گرم است، آن را خالی کرده و سپس از مایعی پر کرده که جرم لیوان پر شده 200 گرم می‌شود. جرم لیوان را بیابید.

$$\left(\rho_{\text{آب}} = 1 \frac{g}{cm^3}, \rho_{\text{مایع}} = 0/6 \frac{g}{cm^3} \right)$$

۲۲. نمودار تغییرات جرم بر حسب حجم برای دو جسم A و B به صورت زیر است، نسبت چگالی جسم B به جسم A چقدر است؟





۸. یک سال نوری مسافتی است که نور در یک سال طی می‌کند.
- $$L = Vt = 3 \times 10^8 \times (30 \times 24 \times 3600)$$
- $$\begin{matrix} \downarrow & \downarrow & \downarrow \\ m & \frac{m}{s} & s \end{matrix}$$
- $$L = 3 \times 10^8 \times (3 \times 10 \times 2 / 4 \times 10 \times 3 / 6 \times 10^3)$$
- $$L = (3 \times 3 \times 2 / 4 \times 3 / 6) \times 10^{13}$$
- $$L \simeq 80 \times 10^{13} = 8 \times 10^{14} m = 8 \times 10^{11} km$$
۹. $\frac{2}{5} \times 10^{-3} \times 10^{-3} \times 10^3 = 10^{-1} kg$
دقت = 10^{-1}
۱۰. $0.04 \times 10^{-2} \times 10^{-2} \times 10^{-1} = 10^{-5} dg$
دقت = $10^{-2} \times 10^{-2} \times 10^{-1} = 10^{-5}$
۱۱. $0.78 \times 10^6 \times 10^6 \times 10^2 = 10^5 hg$
دقت = $10^{-3} \times 10^6 \times 10^2 = 10^5$
۱۲. $3500 \times 10^{-1} \times 10^{-3} = 10^2 kg$
دقت = $10^0 \times 10^{-1} \times 10^{-3} = 10^2$
۱۳. تعداد عددهای بعد از ممیز $n = 10^n = 10^{-3}$
۱۴. هر انسان به‌طور متوسط ۷۰ سال عمر می‌کند و قلبش در هر دقیقه حدوداً ۸۰ بار می‌زند.
- $$N = 70 \times \underbrace{365}_{\text{تعداد روز}} \times \underbrace{24}_{\text{تعداد ساعت}} \times \underbrace{60}_{\text{تعداد دقیقه}} \times 80$$
- $$N = 7 \times 10 \times 3 / 65 \times 2 / 4 \times 10 \times 6 \times 10 \times 8 \times 10$$
- $$N = (7 \times 3 / 65 \times 2 / 4 \times 6 \times 8) \times 10^6$$
- $$N \simeq 3000 \times 10^6 = 3 \times 10^9 \simeq 10^9$$
۱۵. جمعیت ایران حدود ۸۰ میلیون نفر (8×10^7) تخمین زده می‌شود که در کل سال هر نفر حدود ۱۰۰ بار استحمام می‌کند و در هر استحمام ۱۰۰ لیتر آب مصرف می‌کند.
- $$V = 8 \times 10^7 \times 100 \times 100 \times 10^{-3} = 8 \times 10^8 \simeq 10^9 m^3$$
۱۶. اگر میانگین سرعت شخص $\frac{4 km}{h}$ باشد و هر شخص به‌طور میانگین در طول روز ۲ ساعت راه برود و عمر آن ۵۰ سال در نظر گرفته شود.
- $$L = vt = 4 \times 2 \times 50 \times 365 = 4 \times 2 \times 5 \times 10 \times 3 / 6 \times 10^2$$
- $$= 4 \times 3 / 65 \times 10^4 \simeq 10 \times 10^4 = 10^5 km = 10^8 m$$
۱۷. برای تخمین فاصله‌ی زمین تا خورشید می‌توان از این نکته استفاده کرد که حدوداً ۸ دقیقه طول می‌کشد تا نور خورشید به زمین برسد.
- $$t = 8 min$$

۱. $Q = mc\Delta\theta \Rightarrow c = \frac{Q}{m\Delta\theta} \Rightarrow [c] = \frac{J}{kg^\circ C}$

۲. $P = \frac{F}{A} \Rightarrow [P] = \frac{N}{m^2} = \frac{kg \frac{m}{s^2}}{m^2} = \frac{kg}{ms^2}$

۳. $H = \frac{V^n \sin^2 \alpha}{2g} \Rightarrow m = \frac{(\frac{m}{s})^n \times 1}{\frac{m}{s^2}} \Rightarrow \frac{m^2}{s^2} = (\frac{m}{s})^n$

$\Rightarrow n = 2$

۴. ابتدا مساحت را بر حسب m^2 به‌دست می‌آوریم:

$$S = (\frac{30 cm + 5 \times 10^{-4} km}{2}) \times 2 \times 10^{-3} hm$$

$$= (\frac{30 \times 10^{-2} + 5 \times 10^{-4} \times 10^3}{2}) \times 2 \times 10^{-3} \times 10^2 m^2$$

$$= 8 \times 10^{-2} m^2$$

$$8 \times 10^{-2} m^2 = ? dm^2 \Rightarrow 8 \times 10^{-2} m^2 = x \times (10^{-1})^2$$

$$\Rightarrow x = 8$$

۵. الف) $\frac{Mm^3}{ms} = ? \frac{L}{ds}$

$$\frac{2 \times (10^6)^3}{10^{-3}} = x \times \frac{10^{-3}}{10^{-1}} \Rightarrow x = 2 \times 10^{23}$$

ب) $1/8 \frac{km}{min} = ? \frac{m}{s^2}$

$$\Rightarrow 1/8 \times \frac{10^3}{(60)^2} = x \Rightarrow x = 0.5$$

۶. $50 \text{ سیر} = ? g$ (مثقال ۱۶) $= ? g$

$$50 \times 16 \times (4 / 86 g) = xg \Rightarrow x = 3888$$

۷. $50 \times 72 cm^2 = ? ft^2$

$$3600 cm^2 = x \times (12 in)^2$$

$$3600 cm^2 = x \times (144) \times (2 / 5 cm)^2 \Rightarrow x = 4$$





تمرین‌های فصل (۱)

۶. اندازه‌ی نیروی وارد به ذره‌ای با یکای غیر SI داده شده است، اندازه‌ی

$$F = 72 \frac{kg \cdot cm}{min^2}$$

این نیرو در یکای SI محاسبه کنید.

۷. در تساوی زیر جای خالی را با یکای مناسب پر کنید.

$$k = 1 \frac{\mu g \cdot cm^2}{s^2} = 10^{-12} \frac{kg \cdot \square}{s^2}$$

۸. هر ذره $10^4 cm$ و هر فرسنگ 6000 ذره است، اگر فاصله‌ی ۲ شهر 1248 کیلومتر باشد، این فاصله چند فرسنگ است؟

۹. فاصله‌ی دو ستاره از یکدیگر $4/5 \times 10^{16} m$ است، این فاصله بر حسب یکای نجومی Au چقدر است؟ ($1 Au = 1/5 \times 10^{11} m$)

۱۰. در اواخر قرن ۱۸ یکای طول m به صورت یک ده میلیونیم فاصله‌ی قطب شمال تا استوا تعریف شد. فاصله‌ی قطب شمال تا جنوب بر حسب دسی‌متر چقدر است؟

۱. یک زیر دریایی با سرعت 40 فاتوم بر دقیقه در زیر آب حرکت می‌کند، یک فاتوم به‌طور دقیق معادل 6 فوت است. سرعت این زیر دریایی چند متر بر ثانیه است؟ $3 ft = 1 m$

۲. اضلاع مثلثی به ترتیب $4 \times 10^{-2} dm$ ، $3 \times 10^3 \mu m$ و $6 mm$ است مساحت این مثلث تقریباً چند میلی‌متر مربع است؟ ($\sqrt{2} = 1/4$)

۳. عبارت زیر را کامل کنید. $10^Y cm \times L = 10^{-Y} nm \times \dots \dots m^3$

۴. شخصی وزنه‌ای حمل می‌کند و 50 ژول کار انجام می‌دهد کار شخص چند $\frac{g \cdot dm^2}{s^2}$ است؟ پاسخ را به نماد علمی بیان کنید.

۵. یکاهای فرعی را مشخص کنید.
کندلا- وات- متر- نیوتون- ثانیه- پاسکال- کلون- ژول- آمپر

۱۱. قطر یک تار مو $10^{-3} m \times 10^8$ است. گزارش این عدد را به صورت نماد علمی بر حسب میلی‌متر به دست آورید؟

۱۲. ابعاد مکعب مستطیلی $5 cm \times 10^6 \mu m \times 3 dm$ است، حجم این مکعب مستطیل چند لیتر است؟

۱۷. یک اتاق خواب معمولی گنجایش حدوداً چند ذرت بو داده را دارد؟

۱۸. حجم آب‌های روی کره‌ی زمین به کدام یک از عددهای زیر نزدیک‌تر است؟

$10^9 m^3$, $10^{18} m^3$, $10^{24} m^3$, $10^{29} m^3$, $10^{35} m^3$

۱۳. جرم وزنه‌ای $5/250$ کیلوگرم اندازه‌گیری شده است، دقت اندازه‌گیری چقدر است؟

۱۴. اگر هر شخص به‌طور متوسط روزانه ۴ لیتر هوا تنفس کند به‌طور تخمینی تا ۷۵ سال دیگر چند لیتر هوا تنفس می‌کند؟

۱۹. توان متوسط مفید یک کارگر که حداکثر می‌تواند ۸ ساعت در روز کار کند ۱۵۰ وات است، اگر قرار باشد توربین‌های یک نیروگاه دو هزار مگاواتی در تمام مدت شبانه روز با نیروی انسانی بگردد کلاً چند نفر کارگر لازم است؟

۱۵. یک زنبور عسل به‌طور متوسط حدود ۲ ماه زندگی می‌کند و تقریباً نیمی از زندگی خود را در حال پرواز است اگر بسامد بال زدن زنبور عسل $250 Hz$ باشد تعداد دفعات بال زدن کامل زنبور عسل در طول زندگی‌اش چقدر است؟

۲۰. طی یک بارش شدید باران پس از ۱۰۰ دقیقه ۶۰ میلی‌متر باران جمع شده است. فرض کنید سرعت سقوط قطره‌های باران ۱ متر بر ثانیه باشد، حجم قطره‌های باران چه کسری از هوا را تشکیل می‌دهند؟

۱۶. چه تعداد اتم را می‌توان به صورت تقریبی در مکعبی به حجم ۹۶ میلی‌متر مکعب جای داد؟ (حجم یک اتم $10^{-31} m^3 \times 5/2$)





۲۱. کره‌ای از فلزی به چگالی $۱/۵$ گرم بر سانتی‌متر مکعب داریم. این کره در آب غوطه‌ور است. اگر شعاع خارجی کره ۳ سانتی‌متر باشد، شعاع درونی آن چند سانتی‌متر خواهد بود؟

۲۶. حجم ۱۲۰۰ گرم نفت با حجم ۹۰۰ گرم روغن برابر است اگر چگالی نفت ۸۰۰ کیلوگرم بر متر مکعب باشد جرم ۱۵۰ لیتر روغن چند کیلوگرم است؟

۲۲. در مدت ۱۰ دقیقه ۳ سانتی‌متر از طول یک شاخه عود می‌سوزد. آهنگ سوختن عود بر حسب میکرومتر بر میلی ثانیه چقدر است؟

۲۷. یک استوانه‌ی مدرج تا حجم ۴۸ سانتی‌متر مکعب محتوی آب است یک مکعب فلزی به آرامی درون استوانه انداخته می‌شود و آب تا حجم ۷۵ سانتی‌متر مکعب بالا می‌آید. ضلع مکعب چقدر است؟

۲۳. اگر بخواهیم با ماده‌ای به چگالی ۶۰۰۰ کیلوگرم بر متر مکعب کره‌ای تو پر به قطر ۲۰ سانتی‌متر بسازیم، به چند کیلوگرم از آن ماده احتیاج است؟ عدد π را ۳ فرض کنید.

۲۸. طول هر ضلع مکعبی فلزی ۱۰ سانتی‌متر است و جرم آن ۶ کیلوگرم اگر چگالی فلز ۸ گرم بر سانتی‌متر مکعب باشد اندازه‌ی حفره‌ی درون آن را بیابید.

۲۴. قطر یک گلوله‌ی تو پر آلومینیومی دو برابر قطر یک گلوله‌ی تو پر مسی است. اگر جرم گلوله‌ی آلومینیومی $۲/۴$ برابر جرم گلوله‌ی مسی باشد، چگالی آلومینیوم چند برابر چگالی مس است؟

۲۹. آلیاژی از ترکیب ۲ فلز ۱ و ۲ به چگالی‌های $۳\rho_1$ و ρ_2 و ρ_1 طوری ساخته شده است که ۸۰ درصد حجم آلیاژ از فلز یک و ۲۰ درصد آن از فلز ۲ است. چگالی این آلیاژ چند برابر ρ_1 است؟

۲۵. چگالی آلیاژی از سرب و آهن $۱۰/۲$ گرم بر سانتی‌متر مکعب است. اگر چگالی آهن $۷/۸$ و چگالی سرب ۱۱ گرم بر سانتی‌متر مکعب باشد چند درصد از حجم آلیاژ آهن است؟