


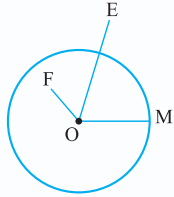
فصل اول دایره





مفاهیم اولیه و زاویه‌ها در دایره

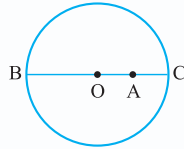
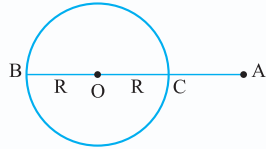
۱ در صفحه، یک نقطه نسبت به دایره یکی از وضعیت‌های زیر را دارد:



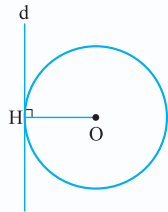
$$\begin{cases} OM = R \Leftrightarrow \text{روی دایره } M \\ OE > R \Leftrightarrow \text{بیرون دایره } E \\ OF < R \Leftrightarrow \text{درون دایره } F \end{cases}$$

۲ دورترین و نزدیک‌ترین نقاط دایره $E(O, R)$ از نقطه A با وصل کردن نقطه A

به مرکز دایره و تقاطع خط حاصل با دایره، به دست می‌آید و با فرض $OA = d$ داریم $AB = d + R$ ، $AC = |d - R|$.

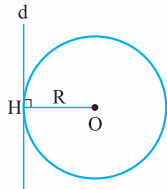


۳ خط مماس بر شعاع نقطه تماس، عمود است و بالعکس خط عمود بر انتهای شعاع، بر دایره مماس است.

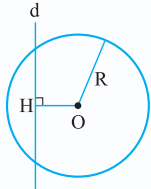


۴ وضعیت خط و دایره: دایره $C(O, R)$ و خط d را در صفحه در نظر می‌گیریم. در این صورت دایره C و خط d یکی از وضعیت‌های زیر را

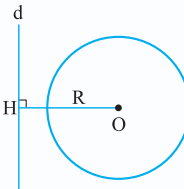
نسبت به یکدیگر دارند.



خط و دایره مماس‌اند. $(OH = R)$



خط و دایره متقاطع‌اند. $(OH < R)$



خط و دایره نقطه اشتراکی ندارند. $(OH > R)$

تست اگر فاصله نقاط M و N تا مرکز دایره $C(O, R)$ ریشه‌های معادله $2x^2 - 5Rx + 2R^2 = 0$ باشد، آن‌گاه این نقاط نسبت به

دایره چگونه‌اند؟

(۱) هر دو بیرون دایره واقع‌اند.

(۲) یکی روی دایره، دیگری بیرون آن واقع است.

(۳) هر دو درون دایره‌اند.

(۴) یکی درون و دیگری بیرون دایره قرار دارد.

پاسخ گزینه «۴» $2x^2 - 5Rx + 2R^2 = 0 \Rightarrow (2x - R)(x - 2R) = 0 \Rightarrow x = \frac{R}{2}$ یا $x = 2R$

پس فاصله یکی از نقاط کم‌تر و دیگری بیشتر از شعاع دایره است و این یعنی یک نقطه داخل و دیگری بیرون دایره قرار دارد.

تست دورترین و نزدیک‌ترین فاصله یک نقطه ثابت از نقاط یک دایره به ترتیب ۱۳ و ۵ است. مساحت دایره کدام است؟

(۱) 9π

(۲) 16π

(۳) 25π

(۴) 4π

پاسخ گزینه «۲» فرض کنیم نقطه خارج دایره باشد. در این صورت داریم:

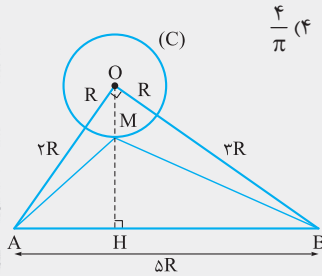
$$\begin{cases} d + R = 13 \\ d - R = 5 \end{cases} \xrightarrow{+} 2d = 18 \Rightarrow d = 9, R = 13 - 9 = 4 \quad S = \pi R^2 = \pi \times 4^2 = 16\pi$$

اگر نقطه داخل دایره باشد، داریم:

$$\begin{cases} d + R = 13 \\ R - d = 5 \end{cases} \xrightarrow{+} 2R = 18 \Rightarrow R = 9, d = 4 \quad S = \pi R^2 = \pi \times 9^2 = 81\pi$$

۵ زاویه مرکزی: زاویه‌ای که رأس آن مرکز دایره باشد.

تست دایره $C(O, R)$ مفروض است. نقاط A و B از مرکز دایره به ترتیب به فاصله‌های $۳R$ و $۴R$ قرار دارند. اگر فاصله دو نقطه A و B برابر ΔR و M نقطه‌ای روی دایره باشد، آن گاه کمترین مساحت مثلث ABM چه کسری از مساحت دایره است؟



$$\frac{۴}{\pi} \quad (۴)$$

$$\frac{۵}{۲\pi} \quad (۳)$$

$$\frac{۷}{۲\pi} \quad (۲)$$

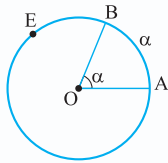
$$\frac{۳}{\pi} \quad (۱)$$

پاسخ گزینه «۲» نقاط A و B خارج دایره قرار دارند و مثلث AOB قائم‌الزاویه است. مساحت مثلث ABM وقتی کمترین است که ارتفاع MH در آن کمترین مقدار را داشته باشد و این وضعیت برای نقطه M وقتی حاصل می‌شود که از O عمود OH را بر خط شامل AB رسم کنیم در این صورت محل تقاطع این عمود و دایره جای نقطه M است و در این حالت مثلث AMB کمترین مساحت را دارد و مقدار آن به شرح زیر به دست می‌آید:

$$S_{(AOB)} = \frac{1}{2} OH \times AB = \frac{1}{2} OA \times OB \Rightarrow OH = \frac{۳R \times ۴R}{\Delta R} = ۲ / ۴ R$$

$$MH = OH - OM = ۲ / ۴ R - R = ۱ / ۴ R$$

$$\frac{S_{(ABM)}}{S_{\text{دایره}}} = \frac{\frac{1}{2} MH \times AB}{\pi R^2} = \frac{\frac{1}{2} \times ۱ / ۴ R \times \Delta R}{\pi R^2} = \frac{۷}{۲\pi}$$

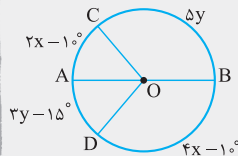


۶ اندازه زاویه مرکزی: اندازه زاویه مرکزی برحسب درجه برابر اندازه کمان روبه‌رو به آن برحسب درجه می‌باشد و به شعاع دایره بستگی ندارد.

$$\widehat{AEB} = ۳۶^\circ - \widehat{AB} = ۳۶^\circ - \alpha$$

۷ طول کمان وقتی که اندازه زاویه مرکزی روبه‌رو به آن α درجه باشد برابر $L = \frac{\alpha}{۳۶^\circ} (۲\pi R) = \frac{\pi R \alpha}{۱۸^\circ}$ می‌باشد.

تست در شکل مقابل، O مرکز دایره و AB قطر آن است. اندازه زاویه \widehat{COD} کدام است؟



$$۱۱^\circ \quad (۲)$$

$$۱۱۵^\circ \quad (۱)$$

$$۱۱۶^\circ \quad (۴)$$

$$۱۲۰^\circ \quad (۳)$$

پاسخ گزینه «۱»

$$\begin{cases} \widehat{AC} + \widehat{BC} = ۱۸^\circ \\ \widehat{AD} + \widehat{BD} = ۱۸^\circ \end{cases} \Rightarrow \begin{cases} 2x - 1^\circ + 5y = ۱۸^\circ \\ 3y - 15^\circ + 4x - 1^\circ = ۱۸^\circ \end{cases} \Rightarrow \begin{cases} 2x + 5y = ۱۹^\circ \\ 3y + 4x = ۲۰^\circ \end{cases}$$

$$-۱۰y + 3y = -۳۸^\circ + ۲۰^\circ \Rightarrow -7y = -۱۷^\circ \Rightarrow y = ۲.۵^\circ$$

$$2x + 5y = ۱۹^\circ \Rightarrow 2x + 5 \times ۲.۵^\circ = ۱۹^\circ \Rightarrow 2x = ۶.۵^\circ \Rightarrow x = ۳.۲۵^\circ$$

$$\widehat{COD} = \widehat{CD} = \widehat{AC} + \widehat{AD} = 2x - 1^\circ + 3y - 15^\circ = 6.5^\circ - 1^\circ + 7.5^\circ - 15^\circ = ۱۱.۵^\circ$$

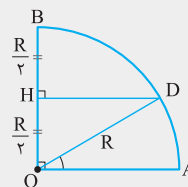
تست در یک ربع دایره با شعاع‌های عمود بر هم OA و OB ، عمودمنصف شعاع OB ، کمان ربع دایره را در نقطه D قطع می‌کند. اندازه کمان AD کدام است؟

$$۳۶^\circ \quad (۴)$$

$$۳^\circ \quad (۳)$$

$$۴۵^\circ \quad (۲)$$

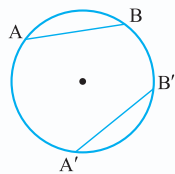
$$۱۵^\circ \quad (۱)$$



پاسخ گزینه «۳» مثلث OHD قائم‌الزاویه است و یک ضلع آن نصف وتر آن است $OH = \frac{OD}{۲}$ ، پس اندازه

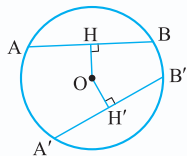
زوایای حاده آن ۳° و ۶° می‌باشد. در نتیجه داریم:

$$\widehat{HOD} = ۶^\circ \Rightarrow \widehat{AOD} = ۹۰^\circ - ۶^\circ = ۳^\circ \Rightarrow \widehat{AD} = ۳^\circ$$



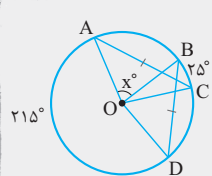
۸ دو وتر در یک دایره (یا دو دایره با شعاع‌های مساوی) برابرند اگر و تنها اگر کمان‌های نظیر آن‌ها برابر باشند.

$$AB = A'B' \Leftrightarrow \widehat{AB} = \widehat{A'B'}$$



۹ دو وتر در یک دایره (یا دو دایره با شعاع‌های مساوی) برابرند اگر و تنها اگر فاصله مرکز دایره از آن‌ها برابر باشد.

$$AB = A'B' \Leftrightarrow OH = OH'$$



تست در شکل روبه‌رو O مرکز دایره است و داریم $\widehat{BC} = 25^\circ$ ، کمان بزرگ \widehat{AD} برابر 215° و $AC = BD$.

مقدار x کدام است؟

۵° (۲)

۸° (۱)

۳° (۴)

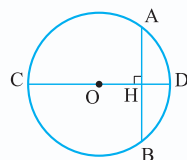
۶° (۳)

$$AC = BD \Rightarrow \widehat{AC} = \widehat{BD} \Rightarrow \widehat{AB} + \widehat{BC} = \widehat{BC} + \widehat{CD} \Rightarrow \widehat{AB} = \widehat{CD}$$

پاسخ گزینه «۳»

$$\widehat{AB} + \widehat{BC} + \widehat{CD} + \widehat{AD} = 360^\circ \Rightarrow 2\widehat{AB} + 25^\circ + 215^\circ = 360^\circ \Rightarrow \widehat{AB} = 60^\circ$$

$$\widehat{AOB} = \widehat{AB} \Rightarrow x = 60^\circ$$

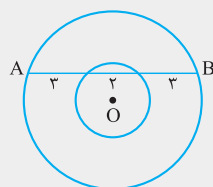


۱۱ قطر عمود بر یک وتر، آن وتر و کمان‌های نظیر آن را نصف می‌کند.

$$CD \perp AB \Rightarrow AH = BH, \widehat{AD} = \widehat{BD}, \widehat{AC} = \widehat{BC}$$

۱۲ در هر دایره، قطری از آن وتری را که قطر نیست نصف کند، بر آن وتر عمود است و کمان‌های نظیر آن را نصف می‌کند.

۱۳ در هر دایره قطری از دایره که یک سر آن وسط کمان نظیر یک وتر باشد، بر آن وتر عمود است و آن را نصف می‌کند.



تست در شکل مقابل، دو دایره هم‌مرکز هستند، با توجه به شکل، مساحت ناحیه بین دو دایره کدام است؟

۱۶π (۱)

۱۲π (۲)

۱۸π (۳)

۱۵π (۴)

پاسخ گزینه «۴» از مرکز دایره بر وتر AB خطی عمود رسم می‌کنیم. وترهای AB و CD هر دو نصف می‌شوند، پس $CH = DH = 1$ و $AH = BH = 4$. شعاع دایره‌ها را به ترتیب $OB = R$ و $OC = r$ می‌نامیم، بنا به قضیه فیثاغورس داریم:

$$\begin{cases} OB^2 = OH^2 + BH^2 \\ OC^2 = OH^2 + CH^2 \end{cases} \xrightarrow{\text{تفاضل}} OB^2 - OC^2 = BH^2 - CH^2 \Rightarrow R^2 - r^2 = 4^2 - 1^2 = 16 - 1 = 15$$

$$\text{مساحت بین دو دایره} = \pi R^2 - \pi r^2 = \pi(R^2 - r^2) = 15\pi$$

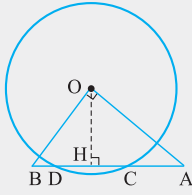
تست در مثلث قائم‌الزاویه AOB ($\hat{O} = 90^\circ$) دایره‌ای به مرکز O وتر AB را در نقطه C و D قطع می‌کند. اگر $BD = 2$ ، $CD = 8$ و $AC = 4$ باشد، آن‌گاه مساحت مثلث AOB کدام است؟

$28\sqrt{3}$ (۴)

$28\sqrt{2}$ (۳)

$24\sqrt{3}$ (۲)

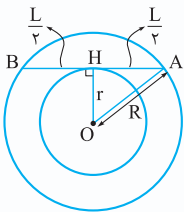
$24\sqrt{2}$ (۱)



پاسخ گزینۀ «۴» عمود OH وتر CD را نصف می‌کند در نتیجه $CH = DH = 4$ و با توجه به $BD = 2$ و $AC = 4$ نتیجه می‌شود $BH = BD + DH = 2 + 4 = 6$ و $AH = CH + AC = 4 + 4 = 8$ اما در مثلث قائم‌الزاویه AOB ، ارتفاع وارد بر وتر، واسطه هندسی دو پاره‌خطی است که روی وتر پدید می‌آورد. لذا داریم:

$$OH^2 = AH \times BH = 8 \times 6 = 48 \Rightarrow OH = 4\sqrt{3}$$

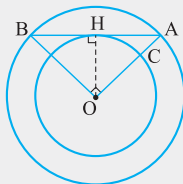
$$S_{(AOB)} = \frac{1}{2} OH \times AB = \frac{1}{2} \times 4\sqrt{3} \times (2 + 8 + 4) = 2\sqrt{3} \times 14 = 28\sqrt{3}$$



۱۲ همه وترهایی به طول L در دایره $C(O, R)$ ، وسطشان روی دایره‌ای به مرکز O و شعاع $r = \frac{\sqrt{4R^2 - L^2}}{2}$ قرار دارد و بالعکس، اگر وتر بر این دایره مماس شود، آن‌گاه در نقطه تماس نصف می‌شود و طول آن برابر L است.

تست دایره‌ای به شعاع ۱۲ مفروض است. وسط همه وترهایی که زاویه مرکزی روبه‌رو به کمان آن‌ها قائمه است، روی یک شکل قرار دارند. کمترین فاصله نقاط این شکل و دایره کدام است؟

- (۱) $6 - 3\sqrt{2}$ (۲) $6\sqrt{2} - 6$ (۳) $12\sqrt{2} - 12$ (۴) $12 - 6\sqrt{2}$



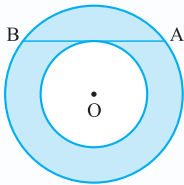
پاسخ گزینۀ «۴» فرض کنیم AB یکی از وترهایی باشد که زاویه مرکزی روبه‌رو به کمان آن قائمه است ($\hat{AOB} = 90^\circ$) چون $OA = OB$ است، پس مثلث AOB قائم‌الزاویه و متساوی‌الساقین است، پس داریم:

$$OA^2 + OB^2 = AB^2 \Rightarrow AB^2 = 12^2 + 12^2 = 2 \times 12^2 \Rightarrow AB = 12\sqrt{2}$$

عمود OH وتر AB را نصف می‌کند $AH = BH = 6\sqrt{2}$ و چون در مثلث قائم‌الزاویه AOH میانه نظیر وتر، نصف

وتر است؛ پس $OH = \frac{AB}{2} = 6\sqrt{2}$. بنابراین وسط همه وترهای AB روی دایره‌ای به مرکز O و شعاع $6\sqrt{2}$ قرار دارد که مطابق شکل

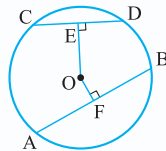
فوق کمترین فاصله دو دایره $AC = 12 - 6\sqrt{2}$ است.



نکته اگر دو دایره، هم‌مرکز باشند و وتر AB از دایره بزرگ بر دایره کوچک مماس باشد، آن‌گاه مساحت بین دو دایره

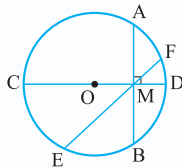
$$\frac{\pi AB^2}{4}$$

برابر است با:



۱۴ از دو وتر نابرابر در یک دایره (یا دو دایره به شعاع‌های مساوی) آن که بزرگ‌تر است به مرکز دایره نزدیک‌تر است و بالعکس.

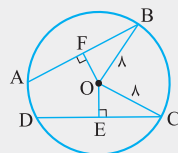
$$AB > CD \Leftrightarrow OF < OE$$



۱۵ کوتاه‌ترین وتر در یک دایره، که از نقطه‌ای داخل دایره رسم می‌شود، وتری است که بر قطر گذرنده از آن نقطه، عمود است.

$$AB \leq EF \leq CD$$

تست در دایره $C(O, 8)$ اندازه وترهای AB و CD به ترتیب $4x + 6$ و $2x + 8$ است که x عددی صحیح است. اگر فاصله مرکز دایره تا وتر CD بیشتر از فاصله آن تا وتر AB باشد، آن‌گاه فاصله مرکز دایره تا وتر CD کدام است؟



- (۱) $\sqrt{7}$ (۲) $2\sqrt{7}$ (۳) $\sqrt{15}$ (۴) $\sqrt{30}$

پاسخ گزینۀ «۲»

$$OE > OF \Rightarrow CD < AB \Rightarrow 2x + 8 < 4x + 6 \Rightarrow 1 < x$$



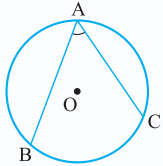
از طرفی شعاع دایره ۸ است و در مثلث‌های قائم‌الزاویه OCE و OBF داریم:

$$\begin{cases} BF < OB \\ CE < OC \end{cases} \Rightarrow \begin{cases} \frac{AB}{2} < 8 \\ \frac{CD}{2} < 8 \end{cases} \Rightarrow \begin{cases} 2x + 3 < 8 \\ x + 4 < 8 \end{cases} \Rightarrow x < \frac{5}{2}$$

بنابراین $x < \frac{5}{2}$ و چون x عددی صحیح است، نتیجه می‌شود $x = 2$ و داریم:

$$CE = \frac{CD}{2} = \frac{2x + 8}{2} = x + 4 = 6$$

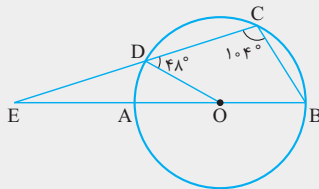
$$OC^2 = OE^2 + CE^2 \Rightarrow 8^2 = OE^2 + 6^2 \Rightarrow OE^2 = 64 - 36 = 28 \Rightarrow OE = \sqrt{28} = 2\sqrt{7}$$



۱۶ زاویه محاطی: زاویه‌ای است که رأس آن روی دایره و اضلاع آن دو وتر از دایره باشند. اندازه هر زاویه محاطی برابر

است با نصف اندازه کمان روبه‌رو به آن $(\hat{A} = \frac{\widehat{BC}}{2})$.

تست در شکل زیر، O مرکز دایره و AB قطر آن است. امتداد وتر CD امتداد قطر AB را در نقطه E قطع می‌کند. اگر $\hat{ODC} = 48^\circ$



و $\hat{C} = 104^\circ$ باشد، آن‌گاه اندازه زاویه \hat{E} کدام است؟

۲۲° (۲)

۱۸° (۱)

۲۰° (۴)

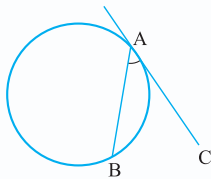
۱۶° (۳)

پاسخ گزینه «۴» زاویه C محاطی است، پس داریم:

$$\hat{C} = \frac{\widehat{BAD}}{2} \Rightarrow 104^\circ = \frac{\widehat{AB} + \widehat{AD}}{2} \Rightarrow 208^\circ = 180^\circ + \widehat{AD} \Rightarrow \widehat{AD} = 28^\circ \Rightarrow \hat{AOD} = 28^\circ$$

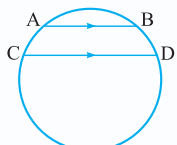
در مثلث ODE، زاویه \hat{ODC} خارجی است، در نتیجه:

$$\hat{ODC} = \hat{E} + \hat{AOD} \Rightarrow 48^\circ = \hat{E} + 28^\circ \Rightarrow \hat{E} = 20^\circ$$



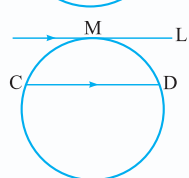
۱۷ زاویه ظلی: زاویه‌ای که رأس آن روی دایره قرار دارد و یکی از اضلاع آن وتر و دیگری آن مماس بر

دایره است. اندازه هر زاویه ظلی برابر است با نصف اندازه کمان روبه‌رو به آن $(\hat{A} = \frac{\widehat{AB}}{2})$.



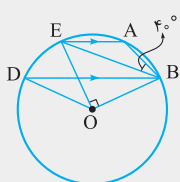
$$AB \parallel CD \Rightarrow \widehat{AC} = \widehat{BD}$$

۱۸ اندازه‌های کمان‌های محصور بین دو وتر موازی با هم برابرند.



$$\widehat{CM} = \widehat{DM}$$

۱۹ اگر خط L در نقطه M بر دایره مماس باشد و وتر CD موازی L باشد، داریم:



تست دایره‌ای به مرکز O مفروض است. دو وتر موازی AE و BD از این دایره در یک طرف O قرار دارند به

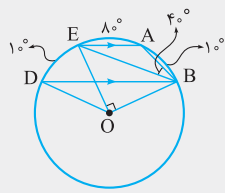
طوری که $\hat{ABE} = 40^\circ$ و $\hat{BOE} = 90^\circ$. اندازه زاویه BOD چند درجه است؟

۱۲۰° (۲)

۱۰۰° (۱)

۱۳۰° (۴)

۱۱۵° (۳)

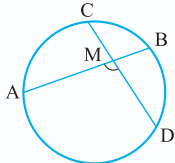


پاسخ گزینه ۱» چون $AE \parallel BD$ ، پس $\widehat{AB} = \widehat{DE}$ و داریم:

$$\widehat{BOE} = 90^\circ \Rightarrow \widehat{AE} + \widehat{AB} = 90^\circ \Rightarrow 2 \times 4^\circ + \widehat{AB} = 90^\circ \Rightarrow \widehat{AB} = 1^\circ$$

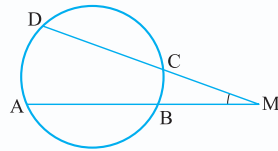
$$\widehat{BOD} = \widehat{AB} + \widehat{AE} + \widehat{DE} = 1^\circ + 8^\circ + 1^\circ = 10^\circ$$

۲۰ زاویه بین دو وتر برابر است با:



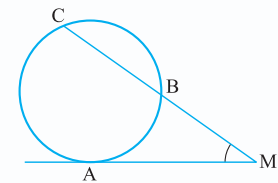
$$\widehat{M} = \frac{\widehat{AD} + \widehat{BC}}{2}$$

۲۱ زاویه بین امتداد دو وتر برابر است با:



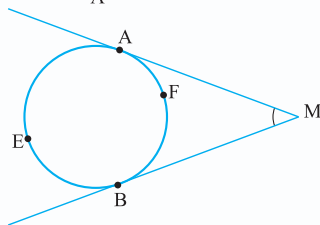
$$\widehat{M} = \frac{\widehat{AD} - \widehat{BC}}{2}$$

۲۲ زاویه بین خط مماس و امتداد وتر برابر است با:



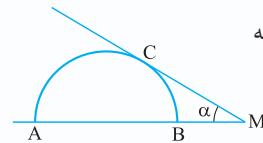
$$\widehat{M} = \frac{\widehat{AC} - \widehat{AB}}{2}$$

۲۳ زاویه بین دو خط مماس برابر است با:



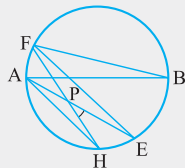
$$\widehat{M} = \frac{\widehat{AEB} - \widehat{AFB}}{2}$$

۲۴ اگر زاویه بین دو مماس، $\widehat{M} = \alpha$ باشد (شکل فوق)، آن گاه اندازه کمان های AEB و AFB به ترتیب $180^\circ + \alpha$ و $180^\circ - \alpha$ است.



۲۵ اگر زاویه بین مماس و امتداد قطر نیم دایره برابر $\widehat{M} = \alpha$ باشد، آن گاه اندازه کمان های AC و BC به ترتیب $90^\circ + \alpha$ و $90^\circ - \alpha$ است.

تست در شکل، AB قطری از دایره است و وتر AH با وتر EF موازی است. اگر $\widehat{FBA} = 2^\circ$ ، در این صورت اندازه زاویه HPE کدام است؟



۲۵ (۲)

۴۰ (۱)

۲۵ (۴)

۳۰ (۳)

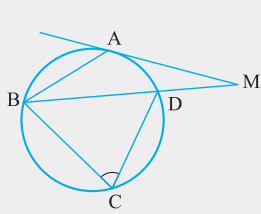
پاسخ گزینه ۱»

$$AH \parallel EF \Rightarrow \widehat{HE} = \widehat{AF} \quad (1)$$

$$HPE \Rightarrow HPE = \frac{\widehat{AF} + \widehat{HE}}{2} \quad (2)$$

$$(1), (2) \Rightarrow HPE = \frac{\widehat{AF} + \widehat{AF}}{2} = \widehat{AF}$$

$$\widehat{B} = \frac{\widehat{AF}}{2} \Rightarrow 2^\circ = \frac{\widehat{AF}}{2} \Rightarrow \widehat{AF} = 4^\circ \Rightarrow HPE = \widehat{AF} = 4^\circ$$



تست در شکل روبه‌رو، $MA = AB$ و MA بر دایره مماس است. اگر $\hat{M} = 25^\circ$ ، آن‌گاه اندازه زاویه

C چند درجه است؟

۷۵° (۲)

۵° (۱)

۸۵° (۴)

۶۰° (۳)

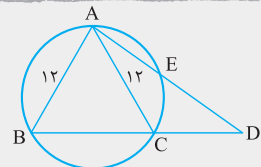
پاسخ گزینه «۲»

$$\hat{M} = \frac{\widehat{AB} - \widehat{AD}}{2} \Rightarrow \widehat{AB} - \widehat{AD} = 2 \times 25^\circ = 50^\circ \quad (1)$$

$$MA = AB \Rightarrow \widehat{ABD} = \hat{M} = 25^\circ \Rightarrow \frac{\widehat{AD}}{2} = 25^\circ \Rightarrow \widehat{AD} = 50^\circ \quad (2)$$

$$(1), (2) \Rightarrow \widehat{AB} = 50^\circ + \widehat{AD} = 50^\circ + 50^\circ = 100^\circ$$

$$\text{زاویه محاطی } \hat{C} = \frac{\widehat{BAD}}{2} = \frac{\widehat{AB} + \widehat{AD}}{2} = \frac{100^\circ + 50^\circ}{2} = \frac{150^\circ}{2} = 75^\circ$$



تست در دایره مقابل، طول دو وتر AB و AC برابر ۱۲ است. نقطه D روی امتداد وتر BC چنان قرار

دارد که AD دایره را در E قطع می‌کند و $AE = 8$ می‌باشد. اندازه DE کدام است؟

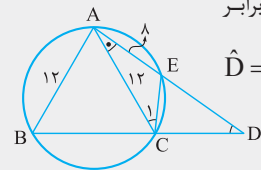
۹ (۲)

۸ (۱)

۱۱ (۴)

۱۰ (۳)

پاسخ گزینه «۳» C را به E وصل می‌کنیم. چون دو وتر AB و AC برابرند پس کمان‌های آن‌ها نیز برابر



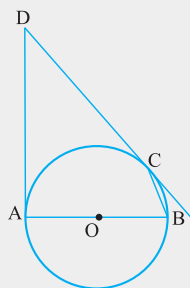
$$\hat{D} = \frac{\widehat{AB} - \widehat{CE}}{2} = \frac{\widehat{AC} - \widehat{CE}}{2} = \frac{\widehat{AE}}{2}$$

است $(\widehat{AB} = \widehat{AC})$. داریم:

اما زاویه \hat{C}_1 محاطی است، پس $\hat{C}_1 = \frac{\widehat{AE}}{2}$ و در نتیجه $\hat{D} = \hat{C}_1$ می‌شود و داریم:

$$(\hat{CAE} = \hat{CAD}, \hat{C}_1 = \hat{D}) \Rightarrow \triangle ACE \sim \triangle ADC \Rightarrow \frac{AC}{AD} = \frac{AE}{AC} \Rightarrow \frac{12}{8+DE} = \frac{8}{12}$$

$$\Rightarrow 64 + 8DE = 144 \Rightarrow DE = \frac{144 - 64}{8} = \frac{80}{8} = 10$$



تست در شکل مقابل، AB قطر دایره و DA و DC به ترتیب در نقاط A و C بر دایره مماس‌اند. اگر اندازه

زاویه ظلی C برابر 35° باشد، آن‌گاه اندازه زاویه D کدام است؟

۶° (۱)

۷° (۲)

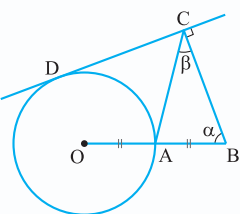
۷۵° (۳)

۶۵° (۴)

پاسخ گزینه «۲» زاویه ظلی C برابر 35° است، پس اندازه کمان روبه‌رو به آن $\widehat{BC} = 70^\circ$ است و داریم:

$$\widehat{AC} = 180^\circ - \widehat{BC} = 180^\circ - 70^\circ = 110^\circ$$

$$\hat{D} = 180^\circ - \widehat{AC} = 180^\circ - 110^\circ = 70^\circ$$

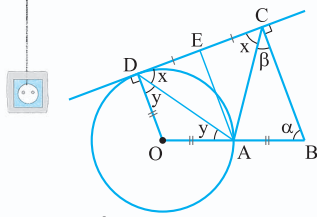


مثال در شکل مقابل، شعاع OA از دایره‌ای به مرکز O را به اندازه خودش تا نقطه B امتداد داده‌ایم. سپس

مماس دلخواهی در نقطه D بر دایره رسم می‌کنیم و از B بر آن عمود BC را رسم می‌کنیم. ثابت

کنید $\alpha = 2\beta$.

دایره



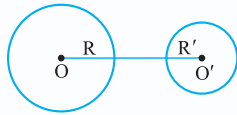
پاسخ A را به E وسط ساق CD در دوزنقه قائم‌الزاویه OBCD وصل می‌کنیم، پس AE پاره‌خط میانگین دوزنقه است. لذا با قاعده‌های دوزنقه موازی است و در نتیجه AE بر CD عمود و نهایتاً AE عمودمنصف CD است که نتیجه می‌دهد مثلث ACD متساوی‌الساقین می‌باشد ($AD = AC$) و می‌توان نوشت:

$$x = 90^\circ - \beta \Rightarrow y = 90^\circ - x = 90^\circ - (90^\circ - \beta) = \beta$$

$$\widehat{DAC} = 180^\circ - x - x = 180^\circ - 2x = 180^\circ - 2(90^\circ - \beta) = 2\beta$$

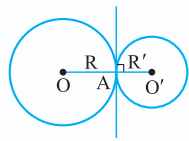
$$ABC \text{ مثلث } \widehat{OAC} \Rightarrow \widehat{OAC} = \beta + \alpha \Rightarrow \widehat{OAD} + \widehat{DAC} = \beta + \alpha \Rightarrow \beta + 2\beta = \beta + \alpha \Rightarrow \alpha = 2\beta$$

۲۶ **وضع دو دایره نسبت به هم:** دو دایره $C(O, R)$ و $C'(O', R')$ با فرض $R > R'$ و $OO' = d$ به صورت زیر دسته‌بندی می‌شوند.



$$d > R + R'$$

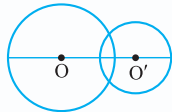
۱- دو دایره برون هم (دو دایره متخارج)



$$d = R + R'$$

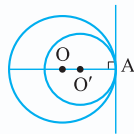
۲- دو دایره مماس برون (مماس خارج)

نکته نقطه تماس دو دایره و مراکز آنها روی یک خط واقع‌اند، زیرا شعاع‌های OA و O'A بر خط مماس در نقطه A عمودند.



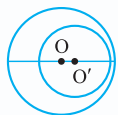
$$R - R' < d < R + R'$$

۳- دو دایره متقاطع



$$d = R - R'$$

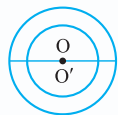
۴- دو دایره مماس درون



$$d < R - R'$$

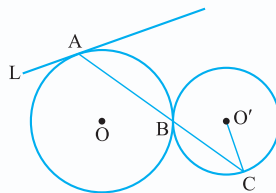
نکته نقطه تماس دو دایره و مراکز آنها روی یک خط واقع‌اند، زیرا شعاع‌های OA و O'A بر خط مماس در نقطه A عمودند.

۵- دو دایره متداخل

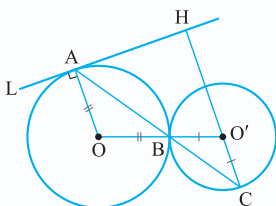


$$d = 0$$

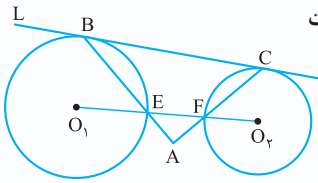
۶- دایره‌های هم‌مركز



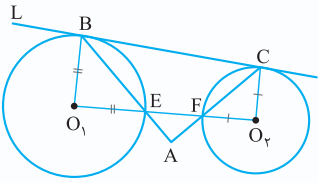
مثال در شکل مقابل، دو دایره در نقطه B مماس خارج‌اند و خط L در نقطه A بر دایره به مرکز O مماس است. اگر امتداد AB، دایره به مرکز O' را در نقطه C قطع کند، ثابت کنید امتداد O'C بر خط L عمود است.



پاسخ خط مماس بر شعاع گذرنده از نقطه تماس، عمود است، پس $OA \perp L$. از طرفی، دو مثلث متساوی‌الساقین AOB و BO'C متشابه‌اند زیرا $\widehat{O'BC} = \widehat{OBA}$ پس $\widehat{OAC} = \widehat{ACH}$ و این یعنی CH با OA موازی و در نتیجه بر خط L عمود است.



مثال در شکل مقابل، دو دایره متخارج هستند و خط L بر هر دو دایره مماس است. ثابت کنید $AB \perp AC$.



پاسخ فرض کنیم $O_1\hat{B}E = \alpha$ و $O_2\hat{C}F = \beta$ ، در این صورت با توجه به مثلث‌های متساوی الساقین O_1BE و O_2CF داریم:

$$B\hat{O}_1E = 180^\circ - \alpha - \alpha = 180^\circ - 2\alpha$$

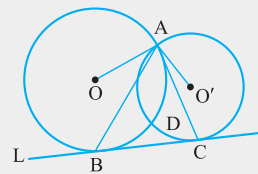
$$C\hat{O}_2F = 180^\circ - \beta - \beta = 180^\circ - 2\beta$$

اما O_1B و O_2C هر دو بر خط L عمودند، زیرا شعاع نقطه تماس بر خط مماس عمود است. پس داریم:

$$O_1B \parallel O_2C \Rightarrow B\hat{O}_1E + C\hat{O}_2F = 180^\circ \Rightarrow 180^\circ - 2\alpha + 180^\circ - 2\beta = 180^\circ \Rightarrow \alpha + \beta = 90^\circ$$

$$\hat{A}EF = O_1\hat{E}B = O_1\hat{B}E = \alpha, \quad \hat{A}FE = O_2\hat{F}C = O_2\hat{C}F = \beta$$

$$\hat{A} + \hat{A}EF + \hat{A}FE = 180^\circ \Rightarrow \hat{A} + \underbrace{\alpha + \beta}_{90^\circ} = 180^\circ \Rightarrow \hat{A} = 90^\circ \Rightarrow AB \perp AC$$



تست در شکل روبه‌رو، خط L بر دو دایره متقاطع در نقاط A و D مماس است. اگر $O\hat{A}O' = 148^\circ$ باشد، آن گاه مجموع اندازه‌های کمان‌های \widehat{ADB} و \widehat{ADC} چند درجه است؟

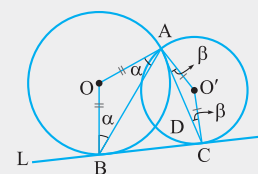
۲۱۲° (۲)

۲۰۰° (۱)

۲۰۲° (۴)

۲۴۸° (۳)

پاسخ گزینه «۲» با توجه به مثلث‌های متساوی الساقین، زوایا مطابق شکل می‌شود و داریم:

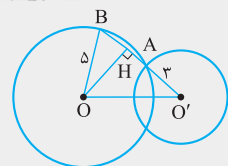


$$A\hat{C}B = 90^\circ - \beta, \quad A\hat{B}C = 90^\circ - \alpha$$

$$B\hat{A}C + 90^\circ - \beta + 90^\circ - \alpha = 180^\circ \Rightarrow B\hat{A}C = \beta + \alpha$$

$$O\hat{A}O' = \alpha + \beta + B\hat{A}C \Rightarrow 148^\circ = \alpha + \beta + \alpha + \beta \Rightarrow \alpha + \beta = 74^\circ$$

$$\widehat{ADB} + \widehat{ADC} = A\hat{O}B + A\hat{O}'C = 180^\circ - 2\alpha + 180^\circ - 2\beta = 360^\circ - 2(\alpha + \beta) = 360^\circ - 148^\circ = 212^\circ$$



تست دو دایره متقاطع $C(O', 3)$ و $C(O, 5)$ مفروض‌اند. به ازای بیشترین مقدار صحیح OO' ، خطی که از O' و نقطه تقاطع دو دایره می‌گذرد، وترى با کدام طول در دایره بزرگ‌تر ایجاد می‌کند؟

۵/۵ (۲)

۴/۵ (۱)

۶ (۴)

۵ (۳)

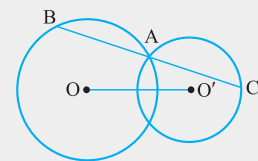
پاسخ گزینه «۳» از متقاطع بودن دو دایره نتیجه می‌شود $2 < OO' < 8$ و بیشترین مقدار صحیح OO' برابر ۷ است. مطابق شکل، AB وتر مطلوب است، پس داریم:

$$OO'^2 = \underbrace{OH^2 + O'H^2}_{\text{فیثاغورس}} \Rightarrow OO'^2 = \underbrace{OB^2 - BH^2}_{\text{فیثاغورس}} + O'H^2$$

عمود OH وتر AB را نصف می‌کند پس $AH = BH = x$ و داریم:

$$7^2 = 5^2 - x^2 + (3+x)^2 \Rightarrow 49 = 25 - x^2 + 6x + x^2 + 9 \Rightarrow 6x = 15 \Rightarrow x = \frac{5}{2}, \quad AB = 2AH = 2x = 5$$

تست مطابق شکل دو دایره به شعاع‌های ۶ و ۸ در نقطه A متقاطع‌اند و $OO' = 12$. اگر خطی که از A می‌گذرد دو وتر مساوی در دو دایره ایجاد کند $(AB = AC)$ ، آن گاه طول این وترها کدام است؟

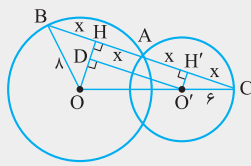


$\sqrt{13}$ (۲)

$\sqrt{12}$ (۱)

$\sqrt{11}$ (۴)

$\sqrt{14}$ (۳)



پاسخ گزینه ۲ با فرض $AB = AC = 2x$ ، مطابق شکل داریم:

$$OH^2 = OB^2 - BH^2 = 64 - x^2 \Rightarrow OH = \sqrt{64 - x^2}$$

$$O'H'^2 = O'C^2 - CH'^2 = 36 - x^2 \Rightarrow O'H' = \sqrt{36 - x^2}$$

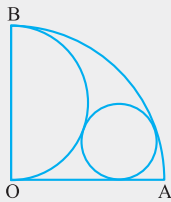
$$O'D = HH' = AH + AH' = x + x = 2x$$

$$OO'^2 = OD^2 + O'D^2 \Rightarrow OO'^2 = (OH - O'H')^2 + O'D^2 \Rightarrow (\sqrt{64 - x^2} - \sqrt{36 - x^2})^2 + (2x)^2 = 100$$

$$x^2 = t \rightarrow 64 - t + 36 - t - 2\sqrt{64 - t}\sqrt{36 - t} + 4t = 100 \Rightarrow \sqrt{64 - t}\sqrt{36 - t} = t - 22$$

$$\Rightarrow 64 \times 36 - 100t + t^2 = t^2 - 44t + 22^2 \Rightarrow 56t = 2304 - 484 = 1820 \Rightarrow t = \frac{1820}{56} = 32.5$$

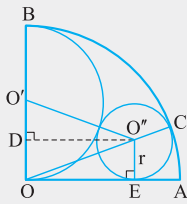
$$x^2 = 32.5 \Rightarrow AB^2 = 4x^2 = 4 \times 32.5 = 130 \Rightarrow AB = \sqrt{130}$$



تست ربع دایره به شعاع‌های عمود بر هم OA و OB مفروض است، نیم‌دایره‌ای به قطر OB داخل آن رسم می‌کنیم. اگر دایره‌ای بر OA و ربع دایره و نیم‌دایره مماس باشد، آن‌گاه شعاع این دایره چه کسری از شعاع ربع دایره است؟

$$\frac{1}{4} (2) \qquad \frac{1}{3} (1)$$

$$\frac{2}{3} (4) \qquad \frac{1}{2} (3)$$



پاسخ گزینه ۲ شعاع ربع دایره و شعاع دایره را به ترتیب R و r در نظر می‌گیریم. نیم‌دایره و دایره مماس خارج هستند پس $O'O'' = \frac{R}{2} + r$. ربع دایره و دایره در نقطه C مماس داخل هستند پس $OO'' = R - r$. در مثلث $O'O''O$ ارتفاع $O'D$ را رسم می‌کنیم، داریم:

$$OD = O''E = r, \quad O'D = OO' - OD = \frac{R}{2} - r$$

حال به کمک قضیه فیثاغورس در مثلث‌های $O'O''D$ و $O'O'D$ داریم:

$$O''D^2 = O'O''^2 - O'D^2 = OO'^2 - OD^2 \Rightarrow \left(\frac{R}{2} + r\right)^2 - \left(\frac{R}{2} - r\right)^2 = (R - r)^2 - r^2 \Rightarrow R \times 2r = R \times (R - r)$$

$$\Rightarrow 2r = R - 2r \Rightarrow R = 4r \Rightarrow r = \frac{R}{4}$$

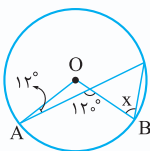
پرسش‌های چهارگزینه‌ای

زاویه مرکزی، خط مماس بر دایره

۱- اگر فاصله نقاط E و F تا مرکز دایره $C(O, R)$ ریشه‌های معادله $3x^2 - 7Rx + 4R^2 = 0$ باشد، آن‌گاه این نقاط نسبت به دایره چگونه‌اند؟

- ۱) هر دو بیرون دایره قرار دارند.
- ۲) یکی روی دایره و دیگری بیرون آن قرار دارد.
- ۳) هر دو درون دایره واقع‌اند.
- ۴) یکی روی دایره و دیگری درون آن قرار دارد.

۲- در شکل مقابل، O مرکز دایره است. مقدار x کدام است؟

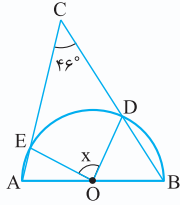


$$66^\circ (2) \qquad 64^\circ (1)$$

$$58^\circ (4) \qquad 60^\circ (3)$$



۳- در شکل مقابل، O مرکز نیم‌دایره است. مقدار x کدام است؟



۸۴° (۱)

۹۲° (۲)

۸۶° (۳)

۸۸° (۴)

۴- نقاط $A_1, A_2, A_3, \dots, A_n$ دایره‌ای به مرکز O و شعاع R را به ده قسمت مساوی تقسیم می‌کنند. اگر $A_1A_4 = b$ باشد، آن‌گاه اندازه ضلع ده‌ضلعی منتظم $A_1A_2 \dots A_n$ کدام است؟

$b - 2R$ (۱) $R + \frac{b}{2}$ (۳) $b^2 - R^2$ (۲) $b - R$ (۴)

۵- در مثلث متساوی‌الساقین ABC ، دایره‌ای مرکزش روی قاعده مثلث، در رأس A بر ضلع AC مماس و از رأس B می‌گذرد. ساق مثلث چند برابر شعاع دایره است؟

$\frac{2}{3}$ (۴) $\sqrt{3}$ (۳) $\sqrt{3} + 1$ (۲) $2\sqrt{3}$ (۱)

۶- مربع $ABCD$ به ضلع ۴ واحد، مفروض است. شعاع دایره گذرا بر دو رأس A و B و مماس بر ضلع CD کدام است؟

(سراسری ریاضی خارج از کشور ۹۵)

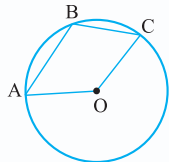
۳ (۴) $2\sqrt{2}$ (۳) $2/5$ (۲) $2/25$ (۱)

۷- مربع $ABCD$ به ضلع $2 + \sqrt{2}$ واحد مفروض است. شعاع دایره گذرا بر رأس D و مماس بر دو ضلع AB و BC کدام است؟

$2\sqrt{2} - 1$ (۴) $2 - \sqrt{2}$ (۳) $\sqrt{2}$ (۲) ۲ (۱)

۸- در نیم‌دایره‌ای به قطر AB ، وتر CD چنان قرار دارد که $\widehat{BC} = 47^\circ$ و $AB = 2CD$. اندازه زاویه AOD چند درجه است؟

84° (۴) 73° (۳) 53° (۲) 67° (۱)

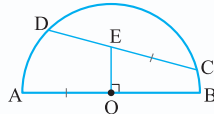


۹- در شکل روبه‌رو، O مرکز دایره، $\hat{A} = 53^\circ$ و $\hat{C} = 47^\circ$ است. اندازه زاویه AOC کدام است؟

16° (۲) 15° (۱)

140° (۴) 120° (۳)

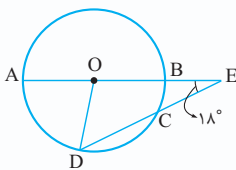
۱۰- در شکل زیر، O مرکز نیم‌دایره و $OA = CE$ است. اگر اندازه کمان BC برابر 15° باشد، آن‌گاه اندازه کمان AD چند درجه است؟



6° (۲) 3° (۱)

5° (۴) 45° (۳)

۱۱- در دایره زیر، اندازه پاره خط CE با طول شعاع دایره برابر است. اگر $\hat{E} = 18^\circ$ و O مرکز دایره باشد، اندازه کمان AD چند درجه است؟



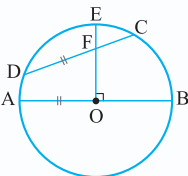
45° (۱)

48° (۲)

54° (۳)

72° (۴)

۱۲- در شکل زیر، شعاع OE بر قطر AB عمود است. اگر اندازه کمان AD برابر 2° و $DF = OA$ باشد، آن‌گاه اندازه کمان CE کدام است؟



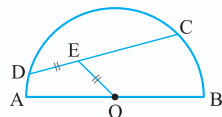
3° (۱)

45° (۲)

5° (۳)

55° (۴)

دایره

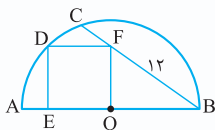


۱۳- در نیم‌دایره مقابل، $OE = DE$ و قطر AB دو برابر طول پاره‌خط CE است. اندازه کمان CD چند درجه است؟

- (۱) 12° (۲) 108°
(۳) 105° (۴) 90°

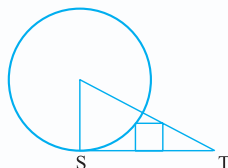
۱۴- مطابق شکل، O مرکز نیم‌دایره و چهارضلعی $OEDF$ مربع است. اگر $BF = 12$ باشد، آن گاه ضلع مربع کدام است؟

- (۱) $3\sqrt{2}$ (۲) $2\sqrt{3}$
(۳) $4\sqrt{2}$ (۴) $4\sqrt{3}$



۱۵- در شکل مقابل، شعاع دایره ۵ و ضلع مربع ۲ است. اندازه مماس TS کدام است؟

- (۱) ۸ (۲) ۹
(۳) ۱۰ (۴) ۱۲

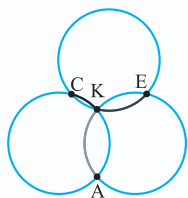


۱۶- دو سر قطر نیم‌دایره‌ای روی دو ضلع قائم یک مثلث قائم‌الزاویه قرار دارد و موازی وتر مثلث می‌باشد. هم‌چنین وتر مثلث، مماس بر نیم‌دایره است. اگر اندازه اضلاع قائم مثلث ۳ و ۴ باشد، طول شعاع نیم‌دایره کدام است؟

- (۱) $\frac{60}{49}$ (۲) $\frac{60}{48}$ (۳) $\frac{60}{47}$ (۴) $\frac{60}{46}$

۱۷- سه دایره به شعاع‌های مساوی از نقطه K می‌گذرند و دوه‌دو متقاطع‌اند. حاصل $\widehat{AK} + \widehat{KE} + \widehat{CK}$ کدام است؟

- (۱) 90° (۲) 120°
(۳) 180° (۴) 270°



۱۸- در مثلث متساوی‌الساقین ABC ($AB = AC$)، نقطه O در امتداد AC مرکز دایره‌ای است که در نقطه B بر ضلع AB مماس است. امتداد BC این دایره را در D قطع کرده است، مثلث OCD چگونه است؟ (سراسری ریاضی ۹۴)

- (۱) متساوی‌الساقین (۲) قائم‌الزاویه (۳) قائم‌الزاویه و متساوی‌الساقین (۴) غیرمشخص

۱۹- در مثلث متساوی‌الساقین ABC ($AB = AC$ ، $\hat{A} = 40^\circ$)، دایره‌ای به مرکز B و شعاع BC ، ساق AC را در E و ساق AB را در D قطع می‌کند. اندازه زاویه ADE کدام است؟

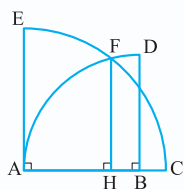
- (۱) 100° (۲) 105° (۳) 108° (۴) 110°

۲۰- در یک ربع دایره، OA و OB دو شعاع عمود بر هم هستند و نقطه C روی کمان آن، چنان قرار دارد که $BC = 2$ و $AC = 6\sqrt{2}$ است، شعاع ربع دایره کدام است؟

- (۱) $4\sqrt{3}$ (۲) $5\sqrt{2}$ (۳) $3\sqrt{6}$ (۴) ۸

۲۱- در شکل مقابل، دو ربع دایره به شعاع‌های $AB = 25$ و $AC = 30$ رسم شده است. طول پاره‌خط HF کدام است؟

- (۱) ۲۱ (۲) ۲۲
(۳) ۲۳ (۴) ۲۴



۲۲- در مثلث ABC ، $\hat{A} = 45^\circ$ ، $BC = 12$ ، نیم‌دایره‌ای به قطر BC ضلع AB را در D و ضلع AC را در E قطع می‌کند، طول پاره‌خط DE کدام است؟

- (۱) $3\sqrt{2}$ (۲) $6\sqrt{2}$ (۳) $4\sqrt{2}$ (۴) $8\sqrt{2}$



۲۳- در یک ربع دایره OA و OB دو شعاع عمود بر هم هستند. نقطه D روی شعاع OA چنان است که $OD = 15$ و $DA = 5$ و نقطه C روی

کمان ربع دایره چنان قرار دارد که $\widehat{BCD} = 90^\circ$ است. طول پاره خط CD کدام است؟

- ۷ (۱) ۸ (۲) ۹ (۳) ۱۰ (۴)

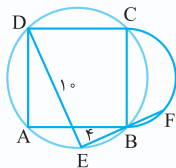
۲۴- در نیم دایره‌ای به قطر AB ، وتر CD موازی AB است و C به A نزدیک تر است. اگر $CD = 1$ و $AC = 6$ باشد، آن گاه شعاع نیم دایره کدام است؟

- ۴ (۱) $\frac{4}{5}$ (۲) ۵ (۳) ۶ (۴)

۲۵- در مثلث ABC ، $\widehat{B} = 2\widehat{A}$. نیم دایره‌ای به قطر BC ضلع AB را در E و ضلع AC را در D قطع می کند به طوری که $CD = 2$ و $AD = 6$ است. طول پاره خط DE کدام است؟

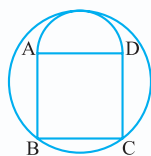
- ۲ (۱) ۳ (۲) ۴ (۳) ۵ (۴)

۲۶- در شکل زیر، دایره‌ای از رأس های مربع $ABCD$ می گذرد. نیم دایره‌ای به قطر BC را رسم می کنیم. نقطه E روی دایره چنان است که $DE = 10$ و $BE = 4$ ، امتداد BE نیم دایره را در نقطه F قطع می کند. طول پاره خط BF کدام است؟



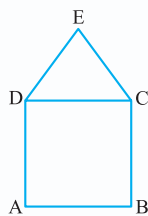
- ۲ (۱)
۳ (۲)
۴ (۳)
۵ (۴)

۲۷- در شکل روبه‌رو، مربعی به ضلع واحد و نیم دایره به قطر AD می باشد. دایره‌ای از رأس های B و C گذشته و بر نیم دایره مماس است. شعاع این دایره کدام است؟



- $\frac{5}{6}$ (۱)
 $\frac{2}{3}$ (۲)
 $\frac{3}{4}$ (۳)
 $\frac{4}{5}$ (۴)

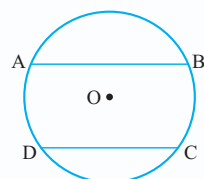
۲۸- در شکل مقابل، $ABCD$ مربعی به ضلع یک و مثلث DEC متساوی الاضلاع است. شعاع دایره‌ای که از نقاط A ، B و E می گذرد، کدام است؟



- ۱ (۱)
 $\sqrt{2}$ (۳)
 $\frac{3}{2}$ (۴)
 $\sqrt{3}$ (۲)

وترهای مساوی، قطر عمود بر وتر، و وترهای نامساوی

۲۹- مطابق شکل، در دایره‌ای به مرکز O ، دو وتر AB و CD موازی اند و فاصله آنها برابر ۵ است، اگر $AB = 16$ و $CD = 14$ ، آن گاه مساحت دایره کدام است؟



- 68π (۲) 65π (۱)
 $\frac{225\pi}{4}$ (۴) $\frac{113\pi}{2}$ (۳)

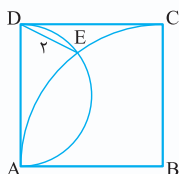
۳۰- در مثلث قائم الزاویه ABC ($\widehat{A} = 90^\circ$) دایره‌ای به مرکز A و شعاع AB وتر مثلث را در D و ضلع AC را در E قطع می کند. اگر $BD = 18$ و $CD = 7$ باشد، آن گاه طول پاره خط CE کدام است؟

- ۷ (۴) ۶ (۳) ۵ (۲) ۴ (۱)

۳۱- امتداد یک وتر به طول ۶ در یک نیم دایره، امتداد قطر نیم دایره را قطع می کند و با آن زاویه 45° می سازد. اگر طول پاره خطی که بین نیم دایره و نقطه تقاطع با قطر پدید می آید، برابر یک باشد، آن گاه طول قطر نیم دایره کدام است؟

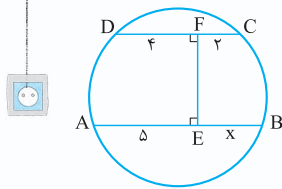
- ۱۰ (۴) ۹ (۳) ۸ (۲) ۷ (۱)

۳۲- مطابق شکل، در مربع $ABCD$ ، نیم دایره و ربع دایره در نقطه E متقاطع اند و $DE = 2$. مساحت مربع کدام است؟



- ۱۸ (۱)
۱۵ (۲)
۱۶ (۳)
۲۰ (۴)

دایره



۳۳- در شکل مقابل، مقدار x کدام است؟

- ۲ (۱)
- ۳ (۲)
- ۴ (۳)
- ۵ (۴)

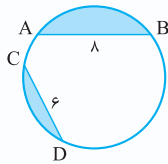
۳۴- دو وتر متقاطع با طول‌های برابر، زاویه 60° با یکدیگر می‌سازند و طول پاره‌خط‌هایی که روی یکدیگر پدید می‌آورند ۲ و ۸ می‌باشد. شعاع دایره کدام است؟

- $2\sqrt{7}$ (۱)
- $4\sqrt{2}$ (۲)
- $3\sqrt{3}$ (۳)
- $\sqrt{30}$ (۴)

۳۵- شعاع‌های دو دایره هم‌مرکز ۳ و ۵ است. از نقطه A روی دایره بزرگ‌تر، دو وتر AE و AF را مماس بر دایره کوچک‌تر رسم می‌کنیم. اندازه EF کدام است؟

- $8/1$ (۱)
- $9/6$ (۲)
- $6/4$ (۳)
- $7/2$ (۴)

۳۶- در شکل روبه‌رو، مجموع اندازه‌های کمان‌های AB و CD برابر 180° است. اگر $AB = 8$ و $CD = 6$ باشد، آن‌گاه مجموع مساحت‌های نواحی رنگی، کدام است؟



- $10\pi - 12$ (۱)
- $\frac{25\pi}{2} - 8$ (۲)
- $10\pi - 16$ (۳)
- $\frac{25\pi}{2} - 24$ (۴)

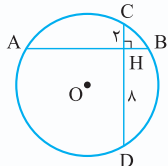
۳۷- در یک دایره، نقطه C روی وتر AB آن را به دو پاره‌خط به طول‌های ۲ و ۱۴ سانتی‌متری تقسیم کرده است. اگر فاصله این نقطه تا مرکز دایره ۱۰ سانتی‌متر باشد، آن‌گاه مساحت دایره کدام است؟

- 72π (۱)
- 128π (۲)
- 64π (۳)
- 108π (۴)

۳۸- فاصله وسط کمان نظیر وتر به طول ۲۴ در یک دایره از انتهای این وتر برابر ۱۳ است. فاصله دورترین نقطه دایره از انتهای این وتر کدام است؟

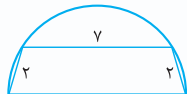
- $28/8$ (۱)
- $21/2$ (۲)
- $33/8$ (۳)
- $32/5$ (۴)

۳۹- در شکل مقابل، O مرکز دایره است و دو وتر AB و CD بر هم عمودند، اگر $CH = 2$ ، $DH = 8$ و شعاع دایره $r = 3\sqrt{5}$ باشد، اندازه وتر AB کدام است؟



- ۱۱ (۱)
- ۱۰ (۳)
- ۸ (۲)
- ۱۲ (۴)

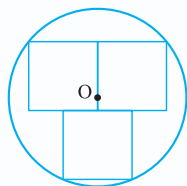
۴۰- مطابق شکل، یک دوزنقه متساوی‌الساقین با قاعده کوچک ۷ و ساق‌های ۲ در یک نیم‌دایره محاط شده است. قطر نیم‌دایره کدام است؟



- ۱۶ (۱)
- ۱۰ (۳)
- ۱۲ (۲)
- ۸ (۴)

۴۱- دوزنقه متساوی‌الساقینی با قاعده‌های ۱۲ و ۱۶ در یک دایره به شعاع ۱۰، محاط است. اگر مرکز دایره خارج دوزنقه باشد. آن‌گاه مساحت دوزنقه کدام است؟

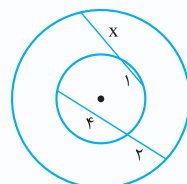
- ۲۸ (۱)
- ۵۶ (۲)
- ۵۴ (۴)
- ۲۷ (۳)



۴۲- در شکل مقابل، O مرکز دایره است و مربع‌ها به ضلع ۱۶ سانتی‌مترند. مساحت دایره چند برابر π است؟

- ۴۲۵ (۱)
- ۳۶۱ (۲)
- ۴۴۱ (۳)
- ۴۷۵ (۴)

۴۳- در شکل مقابل، دو دایره هم‌مرکزند. با توجه به اندازه‌های داده‌شده x کدام است؟



- ۱ (۱)
- ۲ (۲)
- ۳ (۳)
- ۴ (۴)

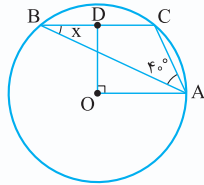


۴۴- دو دایره هم‌مرکزند. وتری به طول $2\sqrt{3}$ از دایره بزرگ بر دایره کوچک مماس است و وتری به طول ۶، دایره کوچک را قطع می‌کند. طول وتر ایجادشده در دایره کوچک کدام است؟

- (۱) $2\sqrt{7}$ (۲) $2\sqrt{6}$ (۳) ۵ (۴) ۴

۴۵- دو دایره هم‌مرکزند. اندازه وتری از دایره بزرگ تر که بر دایره کوچک تر مماس است ۳۲ می‌باشد. اگر کم‌ترین فاصله نقاط روی دو دایره ۸ باشد، آن‌گاه شعاع دایره کوچک تر کدام است؟

- (۱) ۱۰ (۲) ۱۲ (۳) ۹ (۴) ۱۴



۴۶- در شکل مقابل، O مرکز دایره و D وسط وتر BC است. x کدام است؟

- (۱) ۵۰ (۲) ۴۵ (۳) ۲۵ (۴) ۲۰

۴۷- دایره‌ای به شعاع ۱۰ و وتر AB از آن مفروض‌اند. دورترین نقطه دایره از این وتر با طول وتر برابر است. فاصله مرکز دایره از این وتر کدام است؟

- (۱) ۴ (۲) ۵ (۳) ۶ (۴) ۷

۴۸- در مثلث ABC، $AC > AB$ و O مرکز دایره محیطی مثلث ABC و M پای میانه رأس A است. اگر $\hat{AOM} = 90^\circ$ و $\hat{A} = 20^\circ$ باشد، آن‌گاه اندازه \hat{B} چند درجه است؟

- (۱) 100° (۲) 115° (۳) 125° (۴) 120°

۴۹- در مثلث ABC، O مرکز دایره محیطی و D و M به ترتیب پای نیمساز و میانه رأس A می‌باشند. AD را امتداد می‌دهیم تا دایره محیطی را در A' قطع کند. می‌دانیم AM میانه رأس A در مثلث AA'O است، زاویه A چند درجه است؟

- (۱) 45° (۲) 30° (۳) 60° (۴) 90°

۵۰- نقطه ثابت M در دایره‌ای به مرکز O و شعاع ۳، به فاصله $2\sqrt{2}$ از مرکز دایره قرار دارد. وتر دلخواه EF از M می‌گذرد، کم‌ترین محیط مثلث EOF کدام است؟

- (۱) ۷ (۲) ۸ (۳) ۹ (۴) ۱۰

۵۱- دو دایره به مرکز A و شعاع‌های ۵ و ۷ مفروض‌اند. با فرض $AB = 5$ ، اگر C نقطه‌ای روی دایره بزرگ تر باشد به طوری که اندازه زاویه \hat{ACB} ماکسیمم باشد، آن‌گاه مساحت مثلث ABC کدام است؟

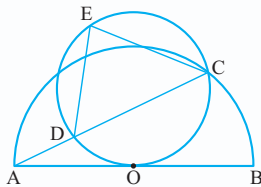
- (۱) $5\sqrt{6}$ (۲) $\frac{35}{3}$ (۳) $\frac{35}{4}$ (۴) $6\sqrt{5}$

زاویه محاطی و زاویه یخورد و وترها

۵۲- در مثلث ABC، $\hat{B} = 70^\circ$ ، $\hat{C} = 30^\circ$ است. اگر O مرکز دایره محیطی مثلث و D نقطه وسط کمان نظیر ضلع BC باشد، آن‌گاه زاویه AOD چند درجه است؟

- (۱) 120° (۲) 140° (۳) 150° (۴) 130°

۵۳- در شکل زیر، دایره در نقطه O بر مرکز نیم‌دایره با قطر BA، مماس است. اگر اندازه زاویه A برابر 26° باشد، آن‌گاه اندازه زاویه E چند درجه است؟



- (۱) ۷۴ (۲) ۸۴ (۳) ۷۸ (۴) ۸۰

۵۴- در مثلث ABC، $\hat{A} = 72^\circ$ ، دایره محیطی مثلث را رسم می‌کنیم. وسط کمان‌های نظیر اضلاع AB و AC را به ترتیب E و D می‌نامیم. زاویه بین دو وتر DE و AC در این دایره چند درجه است؟

- (۱) 48° (۲) 50° (۳) 44° (۴) 54°

۵۵- در دایره‌ای به قطر AB، نقطه M روی دایره قرار دارد، به طوری که $\hat{MAB} = 50^\circ$ ، اندازه زاویه ظلی که رأس آن، نقطه M است، چند درجه است؟

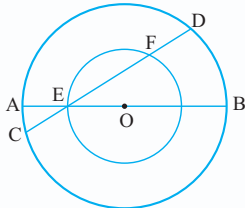
- (۱) 25° (۲) 45° (۳) 40° (۴) 30°

۵۶- در مثلث متساوی الساقین ABC ، $(AB = AC)$ خط‌های مماس بر دایره محیطی مثلث در نقاط A و B ، یکدیگر را با زاویه ۵۰° قطع می‌کنند. اندازه زاویه رأس مثلث چند درجه است؟

- (۱) ۳۵° (۲) ۴۰° (۳) ۴۵° (۴) ۵۰°

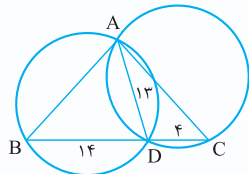
۵۷- زاویه محاطی $\widehat{BAC} = ۳۸^\circ$ در یک دایره مفروض است. دو خط مماس بر دایره در نقاط B و C با چه زاویه‌ای متقاطع‌اند؟

- (۱) ۱۰۸° (۲) ۱۲۰° (۳) ۱۰۵° (۴) ۱۰۴°



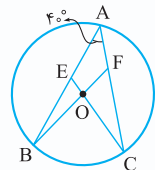
۵۸- در دو دایره هم‌مرکز، قطر AB دایره کوچک را در نقطه E قطع کرده است. وتر CD در دایره بزرگ از E می‌گذرد و دایره کوچک را در F قطع می‌کند به طوری که $\widehat{AC} + \widehat{EF} = ۱۰۴^\circ$. اندازه کمان BD چند درجه است؟

- (۱) ۸۴
(۲) ۸۶
(۳) ۸۲
(۴) ۷۶



۵۹- در شکل مقابل، دو دایره مساوی‌اند و $CD = ۴$ ، $AD = ۱۳$ و $BD = ۱۴$. مساحت مثلث ABC کدام است؟

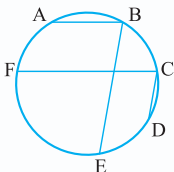
- (۱) ۹۶
(۲) ۷۲
(۳) ۱۲۸
(۴) ۱۰۸



۶۰- در شکل روبه‌رو، O مرکز دایره و $\hat{A} = ۴۰^\circ$ است، حاصل $\widehat{BEC} + \widehat{BFC}$ چند درجه است؟

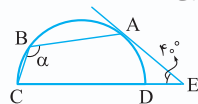
- (۱) ۸۰° (۲) ۱۲۰° (۳) ۱۶۰° (۴) ۲۰۰°

۶۱- در شکل زیر، اگر $AB \parallel FC$ ، $CD \parallel BE$ و $\widehat{AB} = ۶۰^\circ$ ، $\widehat{CD} = ۴۰^\circ$ و $\widehat{EF} = ۱۱۰^\circ$ باشد، آن‌گاه زاویه \widehat{FCD} چند درجه است؟



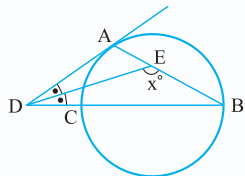
- (۱) ۹۰° (۲) ۵۵° (۳) ۷۰° (۴) ۸۰°

۶۲- در شکل زیر، E روی امتداد قطر CD قرار دارد. اگر EA بر نیم‌دایره مماس باشد و $\hat{E} = ۴۰^\circ$ ، آن‌گاه مقدار α کدام است؟



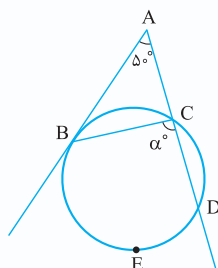
- (۱) ۱۰۵° (۲) ۱۱۰° (۳) ۱۱۵° (۴) ۱۲۰°

۶۳- در شکل زیر، BC قطر دایره و AD بر دایره مماس است. اگر DE نیمساز زاویه \hat{D} باشد، مقدار x کدام است؟



- (۱) ۱۰۵° (۲) ۱۲۰° (۳) ۱۳۵° (۴) ۱۳۰°

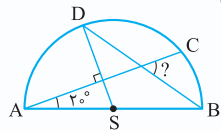
۶۴- در شکل روبه‌رو، $\hat{A} = ۵۰^\circ$ و AB بر دایره مماس است. اگر $\widehat{BED} = ۲\widehat{CD}$ ، آن‌گاه α کدام است؟



- (۱) ۱۰۲° (۲) ۸۴° (۳) ۹۲° (۴) ۷۴°



۶۵- AB قطر نیم‌دایره‌ای به مرکز S است. اگر $\hat{A} = 20^\circ$ و $AC \perp DS$ ، آن‌گاه اندازه زاویه‌ای که با علامت سؤال نشان



داده شده، کدام است؟

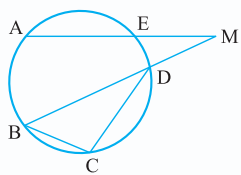
(۱) 45°

(۲) 55°

(۳) 60°

(۴) 72°

۶۶- در دایره روبه‌رو، $\widehat{AE} = (4x)^\circ$ ، $\widehat{M} = \widehat{DE} = x^\circ$ و $\widehat{BCD} = 100^\circ$. مقدار x کدام است؟



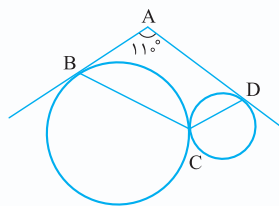
(۱) 15

(۲) 24

(۳) 26

(۴) 25

۶۷- مطابق شکل، دو دایره در نقطه C مماس خارج‌اند و AB و AD بر دو دایره مماس‌اند. اگر $\hat{A} = 11^\circ$ ، آن‌گاه اندازه زاویه BCD چند درجه است؟



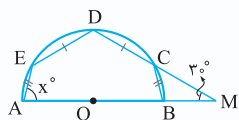
(۱) 135°

(۲) 125°

(۳) 120°

(۴) 130°

۶۸- در شکل روبه‌رو، AB قطر نیم‌دایره و $AE = BC$ ، $CD = ED$ و $\widehat{M} = 30^\circ$ است. مقدار x کدام است؟



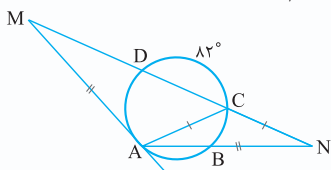
(۱) 60°

(۲) 75°

(۳) 80°

(۴) 65°

۶۹- در شکل زیر، $\widehat{CD} = 82^\circ$ ، $AC = CN$ ، $AM = AN$ و MA بر دایره مماس است. اندازه زاویه M کدام است؟



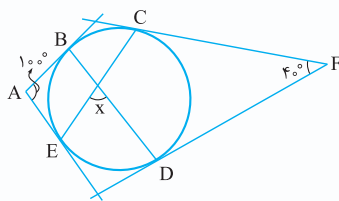
(۱) $33/6^\circ$

(۲) $25/6^\circ$

(۳) $32/1^\circ$

(۴) $27/8^\circ$

۷۰- در شکل زیر، از نقاط A و F بر دایره مماس رسم شده است. اگر $\hat{A} = 100^\circ$ و $\hat{F} = 40^\circ$ آن‌گاه اندازه زاویه برخورد دو وتر BD و CE کدام است؟



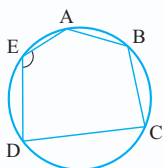
(۱) 70°

(۲) 60°

(۳) 80°

(۴) 50°

۷۱- در شکل مقابل، $\frac{AB}{1} = \frac{BC}{\sqrt{2}} = \frac{CD}{\sqrt{3}} = R$ (شعاع دایره است)، اندازه زاویه E چند درجه است؟



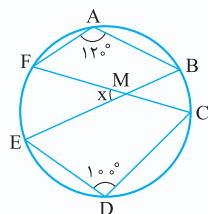
(۱) 120°

(۲) 135°

(۳) 110°

(۴) 150°

۷۲- در شکل مقابل، مقدار x کدام است؟



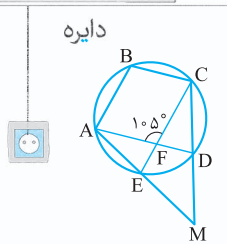
(۱) 3°

(۲) 45°

(۳) 35°

(۴) 40°

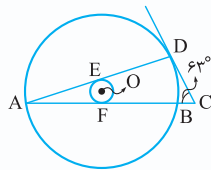
دایره



۷۳- در شکل مقابل، $ABCF$ متوازی‌الاضلاع است. اندازه زاویه M چند درجه است؟

- ۳۰ (۱)
- ۴۰ (۲)
- ۴۵ (۳)
- ۳۵ (۴)

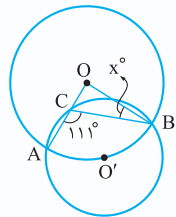
۷۴- در شکل مقابل، دو دایره هم‌مرکز و اضلاع زاویه A بر دایره کوچک‌تر مماس‌اند و مماس بر دایره در نقطه D ، یک



ضلع زاویه A را با زاویه 63° قطع می‌کند. اندازه زاویه A کدام است؟

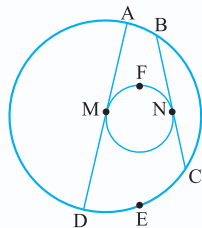
- ۱۲۰ (۱)
- ۱۰۰ (۲)
- ۱۵۰ (۳)
- ۱۸۰ (۴)

۷۵- در شکل زیر، O مرکز دایره بزرگ است و O' مرکز دایره کوچک، روی دایره بزرگ قرار دارد. مقدار x کدام است؟



- ۲۶۰ (۱)
- ۲۷۰ (۲)
- ۲۸۰ (۳)
- ۲۹۰ (۴)

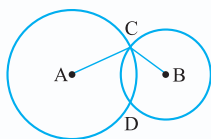
۷۶- در شکل زیر، وترهای AD و BC از دایره بزرگ بر دایره کوچک مماس‌اند. اگر $\widehat{MFN} = 154^\circ$ و $\widehat{DEC} = 70^\circ$ ، آن‌گاه اندازه کمان



کوچک \widehat{AB} چند درجه است؟

- ۱۵۰ (۱)
- ۱۶۰ (۲)
- ۱۷۰ (۳)
- ۱۸۰ (۴)

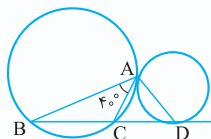
۷۷- در شکل زیر، دو دایره به مراکز A و B در نقاط C و D متقاطع‌اند. اگر $\widehat{ACB} = 150^\circ$ باشد، آن‌گاه مجموع اندازه‌های کمان‌های کوچک CD



در دو دایره کدام است؟

- ۴۵۰ (۱)
- ۳۰۰ (۲)
- ۶۰۰ (۳)
- ۷۵۰ (۴)

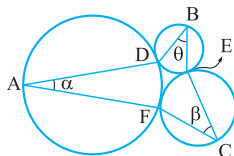
۷۸- در شکل زیر، دو دایره، مماس خارج‌اند و خط مماس بر دایره کوچک در نقطه D ، دایره بزرگ را در نقاط B و C قطع کرده است.



اگر $\widehat{BAC} = 40^\circ$ ، آن‌گاه اندازه زاویه CAD کدام است؟

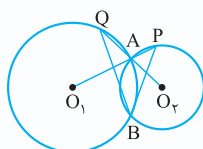
- ۶۰ (۱)
- ۷۰ (۲)
- ۵۰ (۳)
- ۸۰ (۴)

۷۹- در شکل مقابل، دایره‌ها دایره دو بر هم مماس‌اند. حاصل $\alpha + \beta + \theta$ کدام است؟



- ۹۰ (۲)
- ۴۵ (۱)
- ۱۸۰ (۴)
- ۱۲۰ (۳)

۸۰- مطابق شکل، دو دایره در نقاط A و B متقاطع‌اند. اگر $\widehat{PAQ} = 110^\circ$ ، آن‌گاه اندازه زاویه PBQ چند درجه است؟



- ۳۰ (۱)
- ۳۵ (۲)
- ۴۰ (۳)
- ۴۵ (۴)



۸۱- دو دایره متقاطع در نقطه A مشترک اند. خط گذرا بر A دو دایره مفروض را در دو نقطه B و C قطع می کند. مماس ها بر هر دایره در B و C در نقطه M متقاطع اند. در مثلث MBC با چرخش خط قاطع، کدام جزء ثابت می ماند؟

(سراسری ریاضی فارج کشور ۹۴)

۴) زاویه BMC

۳) مساحت

۲) محیط

۱) MA

(سراسری ریاضی ۹۳)

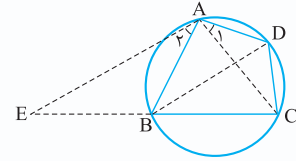
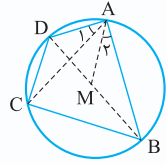
۸۲- در شکل زیر، $\hat{A}_1 = \hat{A}_2$. حاصل $AD \cdot BC$ برابر کدام است؟

۱) $DM \cdot AC$

۲) $BM \cdot AC$

۳) $AB \cdot CD$

۴) $BD \cdot BM$



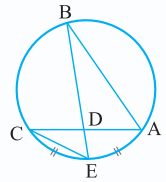
۸۳- در شکل مقابل، $\hat{A}_1 = \hat{A}_2$. حاصل $BD \cdot AC$ کدام است؟

۱) $AD \cdot CE$

۲) $AE \cdot CD$

۳) $AE \cdot BC$

۴) $CD \cdot CE$



۸۴- در شکل روبه رو، $\widehat{AE} = \widehat{CE}$ و $AD = \frac{2}{4}$ ، $BE = 8$ ، $AB = 6$ ، $BC = 8$ ، اندازه CE کدام است؟

۱) $\frac{3}{6}$

۲) $\frac{3}{2}$

۳) $\frac{3}{8}$

۴) ۳

(سراسری ریاضی فارج از کشور ۹۳)

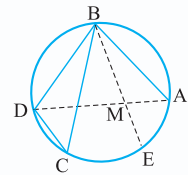
۸۵- در شکل زیر، $\widehat{AE} = \widehat{CD}$ و $CD = 3$ ، $BC = 8$ ، $AB = 6$ ، $BC = 8$ ، $AB = 6$ ، اندازه AM کدام است؟

۱) ۲

۲) $\frac{2}{25}$

۳) $\frac{2}{5}$

۴) $\frac{2}{75}$



۸۶- دو دایره مساوی C و C' به شعاع ۲، مماس خارج اند. دایره C'' با کوچک ترین قطر بر هر دو دایره C و C' مماس داخل می باشد. اندازه وتری از دایره C'' که بر هر دو دایره C و C' مماس است، کدام است؟

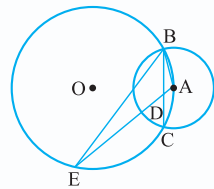
۴) ۶

۳) $2\sqrt{3}$

۲) ۴

۱) $4\sqrt{3}$

۸۷- دو دایره به مرکزهای A و O در نقاط B و C متقاطع اند و مرکز دایره کوچک روی دایره بزرگ قرار دارد. اگر $AD = 4$ و $DE = 12$ ، آن گاه شعاع دایره کوچک کدام است؟

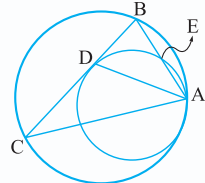


۱) ۹

۲) ۸

۳) ۶

۴) ۱۲



۸۸- در شکل مقابل، دو دایره در نقطه A، مماس داخل هستند و وتر BC در نقطه D بر دایره کوچک تر مماس می باشد.

اگر $AC = b$ و $AE = m$ باشد، آن گاه طول پاره خط AD کدام است؟

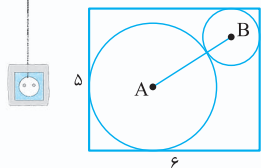
۲) \sqrt{bm}

۱) $\frac{b+m}{2}$

۴) $2\sqrt{bm}$

۳) $\frac{b+2m}{3}$

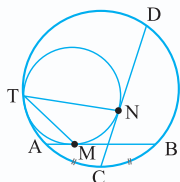
دایره



۸۹- در شکل مقابل، ابعاد مستطیل ۵ و ۶ و شعاع دایره به مرکز B برابر یک است و دو دایره مماس خارج‌اند و بر اضلاع مستطیل مماس‌اند. شعاع دایره بزرگ کدام است؟

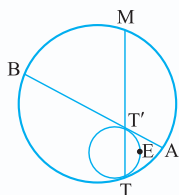
- (۱) $10 - 2\sqrt{15}$
 (۲) $2\sqrt{15} - 5$
 (۳) $12 - 2\sqrt{15}$
 (۴) $5 - \sqrt{15}$

۹۰- چهار نقطه A، B، C و D طوری روی دایره بزرگ قرار دارند که $\widehat{AB} = \widehat{BD} = 2\widehat{AC} = 6^\circ$. دایره کوچک‌تر در نقطه T بر دایره بزرگ‌تر و در نقاط M و N بر وترهای AB و CD مماس است. اندازه زاویه MTN کدام است؟



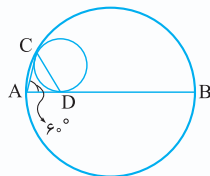
- (۱) 3°
 (۲) $22/5^\circ$
 (۳) $27/5^\circ$
 (۴) 15°

۹۱- دو دایره C و C' در نقطه T مماس داخل‌اند و وتر AB از دایره C در نقطه T' بر دایره C' مماس است. اگر امتداد TT' را در نقطه M قطع کند، با فرض این‌که $\widehat{AT} = 80^\circ$ و $\widehat{TET'} = 120^\circ$ باشد، اندازه کمان AM چند درجه است؟



- (۱) 30°
 (۲) 35°
 (۳) 45°
 (۴) 40°

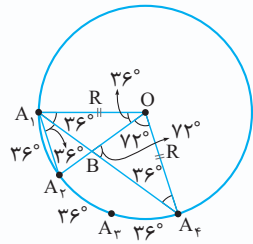
۹۲- در شکل زیر، AB قطر دایره بزرگ و دایره کوچک بر AB در نقطه D مماس و با دایره بزرگ در نقطه C مماس داخل است. اگر $\hat{A} = 6^\circ$ باشد، آن‌گاه اندازه زاویه BDC چند درجه است؟



- (۱) 135°
 (۲) 120°
 (۳) 105°
 (۴) 108°



پاسخ نامه نشرپچی



پس $\widehat{OA_1A_2} = 72^\circ$ و در نتیجه
 $\widehat{A_2A_1A_4} = 36^\circ$ و اندازه زوایا
 مطابق شکل می شود:
 $A_1A_4 = A_1A_2 + A_2A_4$
 $\Rightarrow b = A_1A_2 + OA_4$
 $\Rightarrow A_1A_2 = b - R$

گزینه ۲ -۱

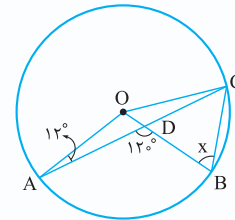
$$3x^2 - 7Rx + 4R^2 = 0 \Rightarrow (x - R)(3x - 4R) = 0$$

$$\Rightarrow x = R \text{ یا } x = \frac{4R}{3}$$

بنابراین یکی از نقاط روی دایره و دیگری بیرون آن قرار دارد.

گزینه ۲ -۲

O را به C وصل می کنیم، مثلث OAC
 متساوی الساقین است ($OA = OC$)، پس $\widehat{OCA} = 12^\circ$ و در
 مثلث OCD داریم:



$$12^\circ + 12^\circ + \widehat{BOC} = 180^\circ$$

$$\Rightarrow \widehat{BOC} = 156^\circ$$

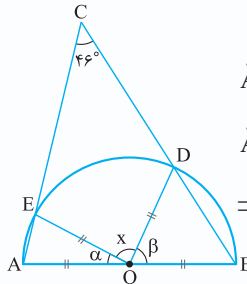
$$OB = OC \Rightarrow \widehat{OCB} = \widehat{B} = x$$

و نهایتاً در مثلث OBC داریم:

$$x + x + 156^\circ = 180^\circ \Rightarrow 2x = 24^\circ \Rightarrow x = 12^\circ$$

گزینه ۴ -۳

در مثلث های متساوی الساقین
 AOE و DOB داریم:



$$\widehat{A} = \frac{180^\circ - \alpha}{2}, \widehat{B} = \frac{180^\circ - \beta}{2}$$

$$\widehat{A} + \widehat{B} + \widehat{C} = 180^\circ$$

$$\Rightarrow \frac{180^\circ - \alpha}{2} + \frac{180^\circ - \beta}{2} + 46^\circ = 180^\circ$$

$$36^\circ - \alpha - \beta + 92^\circ = 180^\circ \Rightarrow \alpha + \beta = 92^\circ$$

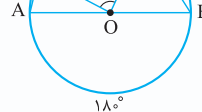
$$\alpha + \beta + x = 180^\circ \Rightarrow x = 180^\circ - 92^\circ = 88^\circ$$

روش دوم زاویه مرکزی است، پس اندازه کمان DE برابر x

است، اما بنا به زاویه تقاطع امتداد دو وتر دایره، داریم:

$$\widehat{C} = \frac{\widehat{AB} - \widehat{DE}}{2} \Rightarrow 46^\circ = \frac{180^\circ - x}{2}$$

$$x = 180^\circ - 2 \times 46^\circ = 180^\circ - 92^\circ = 88^\circ$$

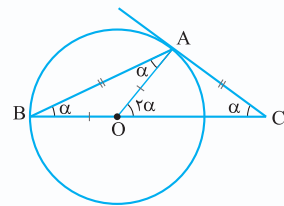


گزینه ۴ -۴

مثلث A_1OA_4 متساوی الساقین با زاویه
 رأس 108° است، پس $\widehat{OA_1A_4} = \widehat{OA_4A_1} = 36^\circ$ از طرفی در
 مثلث متساوی الساقین OA_1A_2 اندازه زاویه رأس 36° است.

۵- با فرض $\widehat{B} = \widehat{C} = \alpha$ در مثلث

متساوی الساقین AOB بنا به زاویه خارجی، داریم $\widehat{AOC} = 2\alpha$.
 شعاع گذرنده بر نقطه تماس بر خط مماس عمود است
 پس $\widehat{OAC} = 90^\circ$ و داریم:



$$\alpha + 2\alpha = 90^\circ \Rightarrow 3\alpha = 90^\circ$$

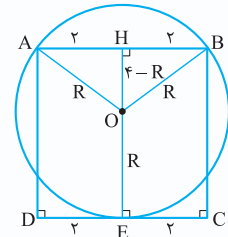
$$\Rightarrow \alpha = 30^\circ$$

$$\Rightarrow \begin{cases} OA = \frac{OC}{2} \\ AC = \frac{\sqrt{3}}{2} OC \end{cases}$$

$$\Rightarrow AC = \frac{\sqrt{3}}{2} \times 2 \times OA = \sqrt{3} OA$$

گزینه ۶ -۶

مرکز دایره روی عمود منصف AB که همان
 عمود منصف CD است، قرار دارد. در مثلث قائم الزاویه AOH داریم:



$$OA^2 = AH^2 + OH^2$$

$$\Rightarrow R^2 = 2^2 + (4 - R)^2$$

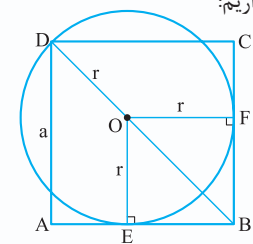
$$\Rightarrow R^2 = 4 + 16 - 8R + R^2$$

$$\Rightarrow 8R = 20$$

$$\Rightarrow R = \frac{20}{8} = \frac{5}{2} = 2.5$$

گزینه ۱ -۷

مرکز دایره روی قطر مربع قرار دارد، زیرا O از دو
 ضلع AB و BC به یک فاصله است. چهارضلعی BEOF مربع است
 و قطر آن برابر است با $OB = r\sqrt{2}$ و داریم:



$$BD = OB + OD$$

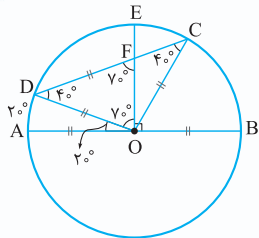
$$\Rightarrow a\sqrt{2} = r\sqrt{2} + r$$

$$\Rightarrow r = \frac{a\sqrt{2}}{\sqrt{2} + 1}$$

$$\Rightarrow r = a\sqrt{2}(\sqrt{2} - 1)$$

$$= a(2 - \sqrt{2}) = (2 + \sqrt{2})(2 - \sqrt{2}) = 4 - 2 = 2$$

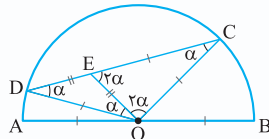
دایره



پس $\hat{C} = 40^\circ$ و بنا به زاویه خارجی در مثلث OFC نتیجه می‌شود $\hat{COE} = 30^\circ$ و در نتیجه $\widehat{CE} = 30^\circ$.

۱۲- بنا به فرض $OE = DE$ و $AB = 2CE$ است **گزینه ۲**

پس $CE = OC = OD$. اگر $\hat{D} = \alpha$ ، آن‌گاه زوایا برحسب α مطابق شکل زیر می‌شود. در نتیجه:

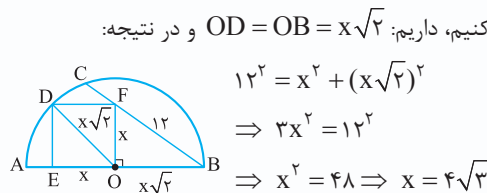


$$\alpha + 2\alpha + 2\alpha = 180^\circ$$

$$\Rightarrow 5\alpha = 180^\circ \Rightarrow \alpha = 36^\circ$$

$$\widehat{CD} = 108^\circ \xrightarrow{\text{زاویه مرکزی}} \hat{COD} = 3\alpha = 3 \times 36^\circ = 108^\circ$$

۱۴- قطر مربع همان شعاع دایره است، اگر ضلع مربع را x فرض کنیم، داریم: $OD = OB = x\sqrt{2}$ و در نتیجه:

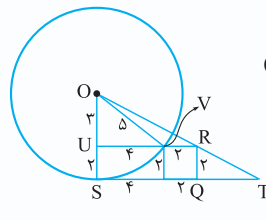


$$12^2 = x^2 + (x\sqrt{2})^2$$

$$\Rightarrow 3x^2 = 12^2$$

$$\Rightarrow x^2 = 48 \Rightarrow x = 4\sqrt{3}$$

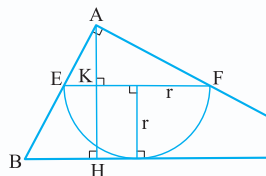
۱۵- مطابق شکل $OU = OS - US = 5 - 2 = 3$ و در مثلث قائم‌الزاویه OUV نتیجه می‌شود $UV = 4$ و به کمک قضیه تالس یا تشابه داریم:



$$\triangle OUR \sim \triangle OST \Rightarrow \frac{OU}{OS} = \frac{UR}{TS}$$

$$\Rightarrow \frac{3}{5} = \frac{4+2}{TS}$$

$$\Rightarrow TS = \frac{30}{3} = 10$$



۱۶- اندازه وتر **گزینه ۱**

مثلث قائم‌الزاویه ABC

برابر $BC = 5$ است و داریم:

$$S_{(ABC)} = \frac{1}{2}AH \times BC = \frac{1}{2}AB \times AC \Rightarrow AH = \frac{3 \times 4}{5} = \frac{12}{5}$$

$$\triangle AEF \sim \triangle ABC \Rightarrow \frac{AK}{AH} = \frac{EF}{BC} \Rightarrow \frac{AH - KH}{AH} = \frac{EF}{BC}$$

$$\frac{\frac{12}{5} - r}{\frac{12}{5}} = \frac{r}{5} \Rightarrow \frac{12 - 5r}{12} = \frac{r}{5}$$

$$\Rightarrow 60 - 25r = 24r \Rightarrow r = \frac{60}{49}$$

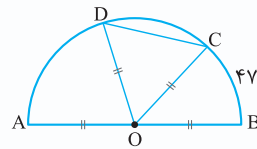
۸- بنا به فرض **گزینه ۲**

در نتیجه $AB = 2CD$

یعنی مثلث $OD = OC = CD$

OCD متساوی‌الاضلاع است.

پس $\widehat{CD} = 60^\circ$ داریم:



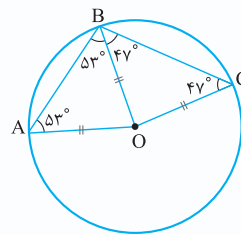
$$\widehat{AD} + \widehat{CD} + \widehat{BC} = 180^\circ \Rightarrow \widehat{AD} = 180^\circ - 60^\circ - 47^\circ = 73^\circ$$

$$\hat{AOD} = \widehat{AD} = 73^\circ$$

۹- شعاع OB را **گزینه ۲**

رسم می‌کنیم، در چهارضلعی

ABCO داریم:



$$\hat{AOC} + 53^\circ + 53^\circ + 47^\circ + 47^\circ = 360^\circ$$

$$\Rightarrow \hat{AOC} = 116^\circ$$

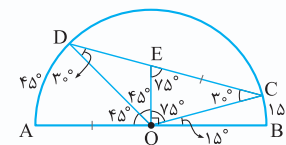
۱۰- زاویه مرکزی BOC برابر 15° است،

پس $\hat{COE} = 75^\circ$. چون مثلث OCE متساوی‌الساقین است دو

زاویه دیگر آن 75° و 30° می‌شود، به دلیل متساوی‌الساقین بودن

مثلث COD، داریم: $\hat{D} = 30^\circ$ و $\hat{DOE} = 75^\circ - 30^\circ = 45^\circ$

$$\text{نهایتاً } \widehat{AD} = \hat{AOD} = 90^\circ - 45^\circ = 45^\circ$$



۱۱- بنا به فرض، CE با شعاع دایره برابر است،

شعاع OC را رسم می‌کنیم، مثلث OCE متساوی‌الساقین است

پس $\hat{EOC} = \hat{E} = 18^\circ$ و بنا به زاویه خارجی داریم: $\hat{OCD} = 36^\circ$.

اما مثلث OCD متساوی‌الساقین است

پس $\hat{D} = 36^\circ$ و نهایتاً به کمک زاویه

خارجی در مثلث DOE داریم:

$$\hat{AOD} = \hat{D} + \hat{OED} = 36^\circ + 18^\circ = 54^\circ \Rightarrow \widehat{AD} = 54^\circ$$

۱۲- زاویه مرکزی \hat{AOD} برابر 20° است **گزینه ۱**

پس $\hat{DOE} = 70^\circ$ و در مثلث متساوی‌الساقین ODF دو زاویه

دیگر 70° و 40° است. مثلث ODC متساوی‌الساقین است



$$\begin{aligned} \Rightarrow \widehat{ACH} = 45^\circ &\Rightarrow \widehat{CAH} = 45^\circ \Rightarrow AH = CH \\ AH^2 + CH^2 &= AC^2 \Rightarrow 2AH^2 = 2CH^2 = (6\sqrt{2})^2 \\ \Rightarrow AH = CH &= 6 \\ AB^2 &= AH^2 + BH^2 = 6^2 + (6+2)^2 = 6^2 + 8^2 = 10^2 \\ \Rightarrow AB &= 10 \\ AB^2 &= R^2 + R^2 \Rightarrow 10^2 = 2R^2 \Rightarrow R = \frac{10}{\sqrt{2}} = 5\sqrt{2} \end{aligned}$$

گزینه ۲۱

$$\begin{cases} x^2 + (25-y)^2 = 30^2 \\ x^2 + y^2 = 25^2 \end{cases}$$

تفاضل $\rightarrow (25-y)^2 - y^2 = 30^2 - 25^2$

$$\begin{aligned} \Rightarrow (25-y+y)(25-y-y) &= (30-25)(30+25) \\ \Rightarrow 25(25-2y) &= 5 \times 55 \Rightarrow 25-2y=11 \Rightarrow y=7 \\ x^2 + 7^2 &= 25^2 \Rightarrow x^2 = 25^2 - 7^2 = 24^2 \Rightarrow x=24 \end{aligned}$$

گزینه ۲۲

$$\begin{aligned} \widehat{A} &= \frac{\widehat{BC} - \widehat{DE}}{2} \\ \Rightarrow 45^\circ &= \frac{180^\circ - \widehat{DE}}{2} \\ \Rightarrow \widehat{DE} &= 180^\circ - 90^\circ = 90^\circ \\ \Rightarrow \widehat{DOE} &= 90^\circ \\ \Rightarrow DE^2 &= OE^2 + OD^2 \\ \Rightarrow DE^2 &= 6^2 + 6^2 = 2 \times 6^2 \Rightarrow DE = 6\sqrt{2} \end{aligned}$$

گزینه ۲۳ ربع دایره را به صورت نیم دایره به قطر BE رسم می کنیم. چون زاویه C قائمه است، پس امتداد ضلع CD از انتهای قطر BE، یعنی نقطه E می گذرد. شعاع ربع دایره برابر $OA = 15 + 5 = 20$ است. بنا به قضیه فیثاغورس داریم: $DE = \sqrt{20^2 + 15^2} = 25$ و دو مثلث قائم الزاویه ODE و CBE متشابه اند:

$$\begin{aligned} \triangle ODE \sim \triangle CBE &\Rightarrow \frac{DE}{BE} = \frac{OE}{CE} \\ \Rightarrow \frac{25}{40} = \frac{20}{CE} &\Rightarrow CE = \frac{1600}{25} = 32 \\ \Rightarrow DE + CD &= 32 \Rightarrow 25 + x = 32 \Rightarrow x = 7 \end{aligned}$$

گزینه ۱۷ مطابق شکل چهارضلعی های O_1KO_2C و O_2KO_1A همگی لوزی هستند، در نتیجه:

$$\begin{aligned} O_1\widehat{KO}_2 &= \alpha + \gamma \\ O_1\widehat{KO}_2 + K\widehat{O}_1A &= 180^\circ \\ \Rightarrow \alpha + \gamma + \beta &= 180^\circ \end{aligned}$$

و با توجه به این که α و β و γ زوایای مرکزی اند، نتیجه می شود:

$$\widehat{CK} + \widehat{KE} + \widehat{AK} = 180^\circ$$

گزینه ۱۸ در مثلث متساوی الساقین OBD داریم $\alpha = \beta$. بر دایره مماس است، پس زاویه ABO قائمه است که نتیجه می دهد $\widehat{ABC} = 90^\circ - \alpha$ اما مثلث ABC متساوی الساقین است، پس می توان نوشت:

$$\begin{aligned} \widehat{ACB} = \widehat{ABC} = 90^\circ - \alpha &\Rightarrow \widehat{OCD} = 90^\circ - \alpha \\ \triangle OCD: \widehat{OCD} + \widehat{ODC} + \widehat{COD} &= 180^\circ \\ \Rightarrow 90^\circ - \alpha + \beta + \widehat{COD} &= 180^\circ \Rightarrow \widehat{COD} = 90^\circ - \alpha \end{aligned}$$

گزینه ۱۹ مثلث ABC متساوی الساقین است $(AB = AC)$. داریم:

$$\begin{aligned} \widehat{C} &= \frac{180^\circ - 40^\circ}{2} = 70^\circ \\ BC = BE &\Rightarrow \widehat{BEC} = \widehat{C} = 70^\circ \end{aligned}$$

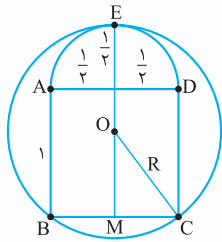
$$\begin{aligned} \widehat{BEC} = \widehat{EBA} + \widehat{A} &\Rightarrow \widehat{EBA} = 70^\circ - 40^\circ = 30^\circ \\ BE = BD &\Rightarrow \widehat{BDE} = \frac{180^\circ - 30^\circ}{2} = 75^\circ \\ \widehat{ADE} = 180^\circ - \widehat{BDE} &= 180^\circ - 75^\circ = 105^\circ \end{aligned}$$

گزینه ۲۰ در مثلث های متساوی الساقین OAC و OBC داریم:

$$\begin{aligned} \widehat{ACB} &= \widehat{OCA} + \widehat{OCB} \\ &= \frac{180^\circ - \widehat{AOC}}{2} + \frac{180^\circ - \widehat{BOC}}{2} \\ &= \frac{360^\circ - 90^\circ}{2} = 135^\circ \end{aligned}$$

دایره

۲۷- گزینه ۱ مرکز دایره از نقاط B و C به یک فاصله است، پس روی عمودمنصف ضلع BC قرار دارد. ME برابر ضلع مربع به علاوه قطر نیم دایره است، یعنی:



$$OM = ME - OE = \frac{R}{2} - R$$

$$OC^2 = OM^2 + MC^2$$

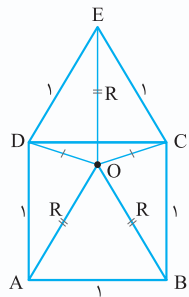
$$\Rightarrow R^2 = \left(\frac{R}{2} - R\right)^2 + \left(\frac{R}{2}\right)^2$$

$$\Rightarrow R^2 = \frac{9}{4} - 2R + R^2 + \frac{1}{4} \Rightarrow R = \frac{5}{6}$$

۲۸- گزینه ۱ مرکز دایره ای که از نقاط A, B و E می گذرد، روی عمودمنصف AB قرار دارد، پس OC = OD. دو مثلث OEC و OBC به حالت (ضضض) همنهشتانند، در نتیجه

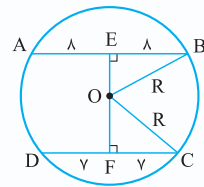
$$\widehat{OCE} = \widehat{OCB} = \frac{90^\circ + 60^\circ}{2} = 75^\circ$$

و با توجه به این که $\widehat{DEO} = \widehat{OEC} = 30^\circ$ نتیجه می شود:



$\widehat{DOE} = \widehat{COE} = 75^\circ$
پس مثلث های ODE, OCE, ODA و OCB همنهشت و متساوی الساقین با زاویه رأس 30° هستند، در نتیجه $R = 1$ است.

۲۹- گزینه ۱ فرض کنیم $OE = x$ ، در این صورت $OF = 5 - x$ است و داریم:



$$OB^2 = BE^2 + OE^2$$

$$OC^2 = OF^2 + CF^2$$

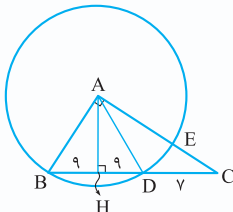
$$\xrightarrow{OB=OC=R} \lambda^2 + x^2 = (5-x)^2 + \gamma^2$$

$$\Rightarrow 64 + x^2 = 25 + x^2 - 10x + 49$$

$$10x = 10 \Rightarrow x = 1$$

$$S_{\text{دایره}} = \pi R^2 = \pi(64 + x^2) = \pi(64 + 1) = 65\pi$$

۳۰- گزینه ۲ ارتفاع AH وتر BD در دایره را نصف می کند، داریم:



$$AB^2 = BH \times BC$$

$$= 9 \times (18 + 7) = 9 \times 25$$

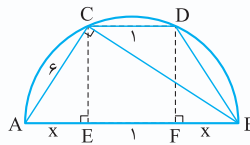
$$\Rightarrow AB = 3 \times 5 = 15$$

$$AC^2 = CH \times BC$$

$$= (9+7)(18+7) = 16 \times 25 \Rightarrow AC = 4 \times 5 = 20$$

$$CE = AC - AE = AC - AB = 20 - 15 = 5$$

۲۴- گزینه ۲ چون $CD \parallel AB$ است، پس $BD = AC = 6$ و ذوزنقه $ABDC$ متساوی الساقین است. در مثلث قائم الزاویه ABC بنا به روابط طولی داریم:



$$AC^2 = AE \times AB$$

$$\Rightarrow 6^2 = x \times (x + 1 + x)$$

$$\Rightarrow 2x^2 + x - 36 = 0 \Rightarrow (x-4)(2x+9) = 0$$

$$\xrightarrow{x>0} x = 4 \Rightarrow AB = 2x + 1 = 9$$

پس شعاع دایره $4/5$ است.

۲۵- گزینه ۱ می دانیم در مثلثی که یک زاویه، دو برابر زاویه دیگر باشد $(\widehat{B} = 2\widehat{A})$ آن گاه ضلع روبه رو به زاویه دو برابر واسطه هندسی مجموع دو ضلع دیگر و ضلع روبه رو به زاویه نصف است.



پس می توان نوشت:

$$AC^2 = (AB + BC) \times BC \Rightarrow \lambda^2 = (c + a) \times a$$

در دو مثلث قائم الزاویه BDC و ADB داریم:

$$BD^2 = BC^2 - CD^2 = AB^2 - AD^2 \Rightarrow a^2 - 2^2 = c^2 - 6^2$$

$$\Rightarrow c^2 - a^2 = 36 - 4 = 32$$

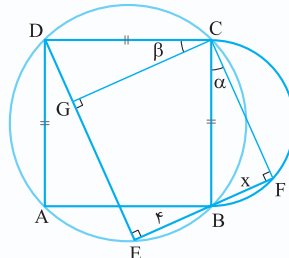
$$\begin{cases} c^2 - a^2 = 32 \\ a \times (c + a) = 64 \end{cases} \xrightarrow{\text{تقسیم}} \frac{c-a}{a} = \frac{1}{2}$$

$$\Rightarrow 2c - 2a = a \Rightarrow 2c = 3a \Rightarrow \frac{a}{c} = \frac{2}{3}$$

اما اگر در مثلث ABC دو ارتفاع BD و CE رسم شود، آن گاه مثلث ADE با مثلث ABC متشابه است و داریم:

$$\frac{DE}{BC} = \frac{AD}{AB} \Rightarrow \frac{x}{a} = \frac{6}{c} \Rightarrow x = \frac{6a}{c} = 6 \times \frac{2}{3} = 4$$

۲۶- گزینه ۳ زاویه DEB روبه رو به قطر BD در دایره است، پس قائمه است.



همچنین زاویه F نیز قائمه است. عمود CG را رسم می کنیم. دو زاویه α و β برابرند، زیرا زوایای GCF و BCD قائمه هستند.

پس دو مثلث قائم الزاویه CDG و CBF به حالت یک ضلع و زاویه حاده مجاور آن همنهشتانند. در نتیجه $CG = CF$ و این یعنی، چهارضلعی $EF CG$ مربع است و $GD = BF = x$ و داریم:

$$GE = EF \Rightarrow DE - GD = BE + BF$$

$$\Rightarrow 10 - x = 4 + x \Rightarrow 2x = 6 \Rightarrow x = 3$$



و حال O را به M وصل می‌کنیم. دو مثلث قائم‌الزاویه OMF و OME همنهشت‌اند و داریم:

$$MF = \frac{\sqrt{3}}{2} OM \Rightarrow 3 = \frac{\sqrt{3}}{2} \times OM$$

$$\Rightarrow OM = 2\sqrt{3}$$

$$OF = \frac{OM}{2} = \frac{2\sqrt{3}}{2} = \sqrt{3}$$

و نهایتاً در مثلث قائم‌الزاویه ODF، داریم:

$$R^2 = OF^2 + DF^2 = (\sqrt{3})^2 + 5^2 = 3 + 25 = 28$$

$$\Rightarrow R = 2\sqrt{7}$$

۳۵ - گزینه ۲ طول دو وتر AE و AF برابر است، زیرا فاصله

مرکز دایره از آنها برابر می‌باشد (OM = ON = 3) و با توجه OA = 5 از قضیه فیثاغورس نتیجه می‌شود:

$$AM = AN = 4 \Rightarrow AE = AF = 8$$

$$\triangle OAM \sim \triangle EAH \Rightarrow \frac{OM}{EH} = \frac{OA}{AE}$$

$$\Rightarrow \frac{3}{EH} = \frac{5}{8}$$

$$EH = \frac{24}{5} = 4 \frac{4}{5} \Rightarrow EF = 2EH = 2 \times 4 \frac{4}{5} = 9 \frac{4}{5}$$

۳۶ - گزینه ۴ وتر BE را مساوی وتر CD رسم می‌کنیم.

مساحت قطعات نظیر وترهای BE و CD برابر است، مقدار آنها را S و مساحت قطعه نظیر وتر AB را S' می‌نامیم، داریم:

$$\left. \begin{aligned} \widehat{AB} + \widehat{BE} &= \widehat{AB} + \widehat{CD} \\ (\text{فرض}) \widehat{AB} + \widehat{CD} &= 180^\circ \end{aligned} \right\}$$

$$\Rightarrow \widehat{AB} + \widehat{BE} = 180^\circ \Rightarrow \widehat{AE} = 180^\circ$$

پس AE قطر دایره است و بنا به قضیه فیثاغورس داریم:

$$AE^2 = 8^2 + 6^2 = 10^2 \Rightarrow AE = 10$$

S + S' = (مساحت مثلث ABE) - (مساحت نیم‌دایره)

$$\Rightarrow S + S' = \frac{\pi \times 5^2}{2} - \frac{6 \times 8}{2} = \frac{25\pi}{2} - 24$$

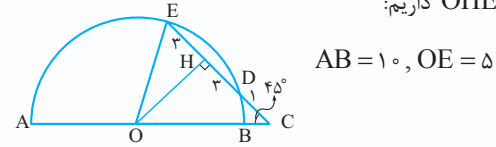
۳۷ - گزینه ۳ عمود OH وتر AB

را نصف می‌کند چون AB = 16 است، نتیجه می‌شود AH = BH = 8 و CH = 8 - 2 = 6 و در مثلث قائم‌الزاویه OCH داریم:

$$OH^2 = OC^2 - CH^2 = 10^2 - 6^2 = 8^2 \Rightarrow OH = 8$$

۳۱ - گزینه ۴ عمود OH وتر DE را نصف می‌کند در

نتیجه CH = CD + DH = 1 + 3 = 4 و متساوی‌الساقین است، پس OH = CH = 4 و نهایتاً در مثلث قائم‌الزاویه OHE داریم:



۳۲ - گزینه ۲ عمود BF بر وتر AE در ربع دایره، آن را نصف

می‌کند. زاویه AED قائمه است و دو زاویه BAF و ADE هر دو متمم DAE هستند پس برابری آنها برقرار است. بنابراین دو مثلث قائم‌الزاویه AFB و DEA به حالت برابری وتر و یک زاویه حاده همنهشت‌اند در نتیجه:

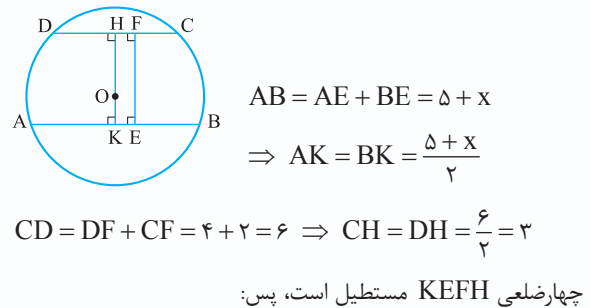
$$AF = DE = 2 \Rightarrow EF = 2 \Rightarrow AE = 4$$

$$AD^2 = DE^2 + AE^2 = 2^2 + 4^2 = 20$$

$$\Rightarrow S_{\text{مربع}} = 20$$

۳۳ - گزینه ۱ دو وتر AB و CD موازی‌اند. از مرکز دایره بر

آنها عمود رسم می‌کنیم، این وترها نصف می‌شوند.



چهارضلعی KEFH مستطیل است، پس:

$$KE = HF \Rightarrow BK - BE = CH - CF$$

$$\Rightarrow \frac{5+x}{2} - x = 3 - 2 = 1 \Rightarrow \frac{5-x}{2} = 1$$

$$\Rightarrow 5 - x = 2 \Rightarrow x = 3$$

۳۴ - گزینه ۱ بنا به فرض، زاویه بین دو وتر برابر AB و CD

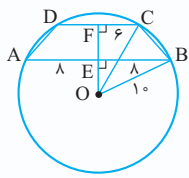
برابر 60°، MA = MD = 8 و MB = MC = 2، عمودهای OE و OF را رسم می‌کنیم. دو وتر نصف می‌شوند و داریم:

$$MF = MD - DF$$

$$= 8 - \frac{8+2}{2} = 8 - 5 = 3$$

دایره

۴۱- گزینه ۱) قطر عمود بر AB بر CD نیز عمود است و هر



دو وتر را نصف می کند. داریم:

$$\begin{aligned} \Delta OBE : OE^2 + BE^2 &= OB^2 \\ \Rightarrow OE^2 &= 10^2 - 8^2 = 36 \\ \Rightarrow OE &= 6 \end{aligned}$$

$$\Delta OCF : OF^2 + CF^2 = OC^2$$

$$\Rightarrow OF^2 = 10^2 - 6^2 = 64 \Rightarrow OF = 8$$

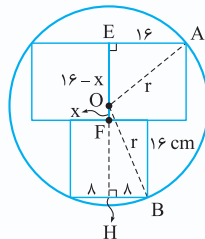
$$EF = OF - OE = 8 - 6 = 2$$

$$S_{(ABCD)} = \frac{1}{2} EF \times (AB + CD) = \frac{1}{2} \times 2 \times (16 + 12) = 28$$

۴۲- گزینه ۱) فرض کنیم $OF = x$ باشد، در این

صورت $OE = 16 - x$ و $OH = 16 + x$ است. در مثلث های

قائم الزاویه OAE و OBH داریم:



$$\begin{aligned} r^2 &= 16^2 + (16 - x)^2 \\ r^2 &= \lambda^2 + (16 + x)^2 \\ \Rightarrow 16^2 + (16 - x)^2 &= \lambda^2 + (16 + x)^2 \end{aligned}$$

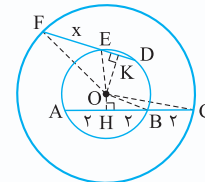
$$\Rightarrow 16^2 + 16^2 - 32x + x^2 = \lambda^2 + 16^2 + 32x + x^2$$

$$\Rightarrow 64x = 16^2 - \lambda^2 = 8 \times 24 \Rightarrow \lambda x = 24 \Rightarrow x = 3$$

$$S_{\text{دایره}} = \pi r^2 = \pi(\lambda^2 + (16 + 3)^2) = \pi(64 + 361) = 425\pi$$

۴۳- گزینه ۳) از مرکز دایره ها بر وترهای AB و DE عمود

می کنیم. دو وتر نصف می شود: $AH = BH = 2$ ، $DK = EK = \frac{1}{2}$.



شعاع دایره های کوچک و بزرگ را به ترتیب r و R می نامیم، داریم:

$$\begin{aligned} OH^2 &= OB^2 - BH^2 = OC^2 - CH^2 \\ \Rightarrow r^2 - 2^2 &= R^2 - 4^2 \end{aligned}$$

$$OK^2 = OE^2 - EK^2 = OF^2 - KF^2$$

$$\Rightarrow r^2 - \left(\frac{1}{2}\right)^2 = R^2 - \left(x + \frac{1}{2}\right)^2$$

از تفاضل دو تساوی فوق داریم:

$$r^2 - \left(\frac{1}{2}\right)^2 = 4^2 - \left(x + \frac{1}{2}\right)^2 \Rightarrow 4 - \frac{1}{4} = 16 - \left(x + \frac{1}{2}\right)^2$$

$$\Rightarrow \left(x + \frac{1}{2}\right)^2 = 12 + \frac{1}{4} = \frac{49}{4} \Rightarrow x + \frac{1}{2} = \pm \frac{7}{2}$$

$$\xrightarrow{x > 0} x = \frac{7}{2} - \frac{1}{2} = \frac{6}{2} = 3$$

$$R^2 = 8^2 + 8^2 = 2 \times 8^2 \Rightarrow R = 8\sqrt{2}$$

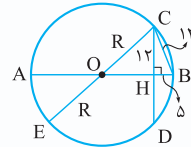
$$\text{در نتیجه: } \pi R^2 = 128\pi$$

۳۸- گزینه ۲) بنا به فرض $CD = 24$ پس

$BC = 13$ و $CH = DH = 12$ دورترین نقطه دایره از انتهای

وتر CD با وصل یکی از دو انتها به مرکز دایره به دست می آید (CE

قطر دایره) داریم:



$$\begin{aligned} BH^2 &= BC^2 - CH^2 \\ &= 13^2 - 12^2 = 25 \Rightarrow BH = 5 \\ OH &= OB - BH = R - 5 \end{aligned}$$

$$OC^2 = OH^2 + CH^2 \Rightarrow R^2 = (R - 5)^2 + 12^2$$

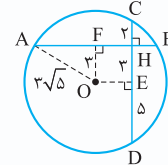
$$\Rightarrow R^2 = R^2 - 10R + 25 + 144 \Rightarrow 10R = 169$$

$$\Rightarrow R = 16.9 \Rightarrow CE = 2R = 2 \times 16.9 = 33.8$$

۳۹- گزینه ۱) بنا به فرض $CH = 2$ و $DH = 8$ است، از

مرکز دایره به دو وتر عمود می کنیم. چهارضلعی OEHF مستطیل

است و داریم:



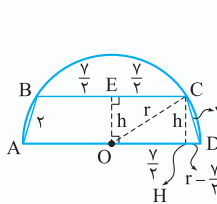
$$\begin{aligned} HE &= DH - DE \\ &= 8 - \frac{\lambda + 2}{2} = 8 - 5 = 3 \\ \Rightarrow OF &= 3 \end{aligned}$$

$$OA^2 = AF^2 + OF^2 \Rightarrow (3\sqrt{5})^2 = AF^2 + 3^2$$

$$\Rightarrow 45 = AF^2 + 9 \Rightarrow AF^2 = 36 \Rightarrow AF = 6$$

$$\Rightarrow AB = 2AF = 12$$

۴۰- گزینه ۲) در مثلث های قائم الزاویه OCE و DCH داریم:



$$\begin{cases} OC^2 = OE^2 + CE^2 \\ CD^2 = CH^2 + DH^2 \end{cases} \Rightarrow \begin{cases} r^2 = h^2 + \left(\frac{y}{2}\right)^2 \\ r^2 = h^2 + \left(r - \frac{y}{2}\right)^2 \end{cases}$$

$$\rightarrow r^2 - 4 = \left(\frac{y}{2}\right)^2 - \left(r - \frac{y}{2}\right)^2$$

$$\Rightarrow r^2 - 4 = \left(\frac{y}{2} + r - \frac{y}{2}\right)\left(\frac{y}{2} - r + \frac{y}{2}\right)$$

$$\Rightarrow r^2 - 4 = r(y - r) \Rightarrow r^2 - 4 = ry - r^2$$

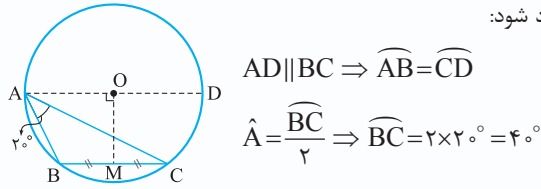
$$\Rightarrow 2r^2 - ry - 4 = 0 \Rightarrow r = \frac{y \pm \sqrt{49 + 32}}{4}$$

$$\Rightarrow r = \frac{y \pm \sqrt{81}}{4} = \frac{y \pm 9}{4}$$

$$\xrightarrow{r > 0} r = \frac{y + 9}{4} = \frac{16}{4} = 4 \Rightarrow AD = 2r = 8$$



۴۸ - گزینه ۲ چون M وسط BC است، پس OM بر BC عمود است، لذا $OA \parallel BC$. OA را امتداد می‌دهیم تا قطر AD ایجاد شود:



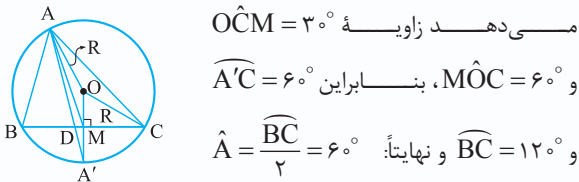
$$AD \parallel BC \Rightarrow \widehat{AB} = \widehat{CD}$$

$$\hat{A} = \frac{\widehat{BC}}{2} \Rightarrow \widehat{BC} = 2 \times 20^\circ = 40^\circ$$

$$\widehat{AB} + \widehat{BC} + \widehat{CD} = 180^\circ \Rightarrow 2\widehat{CD} + 40^\circ = 180^\circ \Rightarrow \widehat{CD} = 70^\circ$$

$$\hat{B} = \frac{\widehat{ADC}}{2} = \frac{180^\circ + 70^\circ}{2} = 90^\circ + 35^\circ = 125^\circ$$

۴۹ - گزینه ۲ O مرکز دایره محیطی مثلث ABC، نقطه همرسی عمودمنصف‌های اضلاع مثلث است، پس اگر M وسط BC باشد، OM بر آن عمود است و کمان نظیر BC را نصف می‌کند ($\widehat{A'B} = \widehat{A'C}$) و نیمساز زاویه A یعنی AD امتدادش از نقطه A' می‌گذرد. اگر در مثلث AOA'، AM میانه OA' باشد در این صورت $OM = MA'$ می‌شود، یعنی شعاع OA' نصف می‌شود. پس در مثلث قائم‌الزاویه OMC، $OM = \frac{OC}{2}$ است که نتیجه

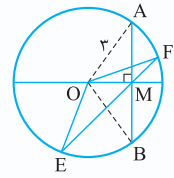


می‌دهد زاویه $\hat{O}CM = 30^\circ$

و $\hat{M}OC = 60^\circ$ ، بنابراین $\hat{A}'C = 60^\circ$

و $\widehat{BC} = 120^\circ$ و نهایتاً: $\hat{A} = \frac{\widehat{BC}}{2} = 60^\circ$

۵۰ - گزینه ۲ محیط مثلث EOF کمترین است که ضلع EF در آن کوچک‌ترین باشد، کمترین طول EF، وتر AB است که بر قطر گذرنده از M عمود است.



بنا به فرض $OM = 2\sqrt{2}$ و شعاع دایره ۳ است، پس می‌توان نوشت:

$$OA^2 = OM^2 + MA^2 \Rightarrow 3^2 = (2\sqrt{2})^2 + MA^2$$

$$\Rightarrow MA^2 = 9 - 8 = 1 \Rightarrow MA = 1$$

$$\triangle EOF \text{ کمترین محیط} = \triangle AOB \text{ محیط} = OA + OB + AB$$

$$= 3 + 3 + 2 \times 1 = 6 + 2 = 8$$

۵۱ - گزینه ۱ یک ضلع زاویه ACB همواره قطری در دایره بزرگ و ضلع دیگر آن وتر از این دایره است. هر چه قدر این وتر از مرکز دایره دورتر باشد، اندازه زاویه ACB بزرگ‌تر است و ماکسیمم

۴۴ - گزینه ۲ از مرکز دایره‌ها بر دو وتر AB و CD عمود رسم می‌کنیم، این وترها در دو دایره نصف می‌شوند:

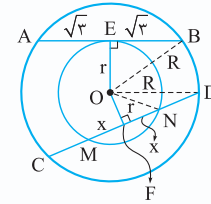
$$MF = NF = x, CF = DF = 3, AE = BE = \sqrt{3}$$

$$OB^2 = OE^2 + BE^2$$

$$\Rightarrow R^2 = r^2 + (\sqrt{3})^2 = r^2 + 3 \quad (1)$$

$$OF^2 = OD^2 - DF^2 = ON^2 - NF^2$$

$$\Rightarrow R^2 - 3^2 = r^2 - x^2 \quad (2)$$



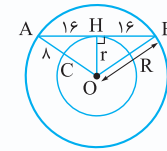
$$(1), (2) \Rightarrow r^2 + 3 - 3^2 = r^2 - x^2$$

$$\Rightarrow x^2 = 9 - 3 = 6 \Rightarrow x = \sqrt{6} \quad MN = 2x = 2\sqrt{6}$$

۴۵ - گزینه ۲

$$\begin{cases} R^2 - r^2 = 16^2 \\ R - r = 8 \end{cases}$$

تقسیم $\rightarrow R + r = \frac{16 \times 16}{8} = 32$

$$\begin{cases} R + r = 32 \\ R - r = 8 \end{cases} \xrightarrow{\text{تفاضل}} 2r = 24 \Rightarrow r = 12$$


۴۶ - گزینه ۲ چون D وسط وتر BC است، پس OD بر BC عمود است در نتیجه وتر BC با شعاع OA موازی است. OA امتداد می‌دهیم تا قطر AE پدید آید.

$$AE \parallel BC \Rightarrow \widehat{AC} = \widehat{BE}$$

$$\hat{B}AC = \frac{\widehat{BC}}{2} \Rightarrow \widehat{BC} = 2 \times 40^\circ = 80^\circ$$

$$\widehat{AC} + \widehat{BC} + \widehat{BE} = 180^\circ$$

$$\Rightarrow 2\widehat{AC} + 80^\circ = 180^\circ \Rightarrow \widehat{AC} = 50^\circ$$

$$\hat{B} = \frac{\widehat{AC}}{2} \Rightarrow x = \frac{50^\circ}{2} = 25^\circ$$

۴۷ - گزینه ۲ C دورترین نقطه دایره از وتر AB است. بنا به فرض $AB = CH$ می‌باشد، فرض کنیم $AH = x$ باشد. داریم:

$$OH = CH - OC$$

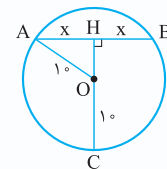
$$= AB - OC = 2x - 10$$

$$OA^2 = AH^2 + OH^2$$

$$\Rightarrow 10^2 = x^2 + (2x - 10)^2$$

$$\Rightarrow 100 = 5x^2 - 40x + 100 \Rightarrow 5x^2 - 40x = 0$$

$$\Rightarrow x = \frac{40}{5} = 8, \quad OH = 2 \times 8 - 10 = 6$$



دایره

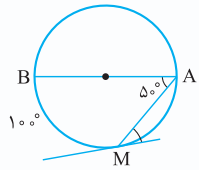
$$\hat{A} = \frac{\widehat{BC}}{2} \Rightarrow \widehat{BC} = 2 \times 72^\circ = 144^\circ$$

$$\widehat{AB} + \widehat{AC} + \widehat{BC} = 360^\circ \Rightarrow \widehat{AB} + \widehat{AC} = 360^\circ - 144^\circ = 216^\circ$$

$$x = \frac{216^\circ}{4} = 54^\circ$$

بنابراین:

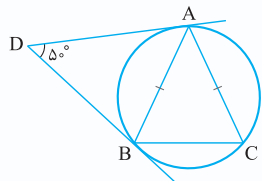
گزینه ۴ - ۵۵



$$\hat{A} = \frac{\widehat{BM}}{2} \Rightarrow \widehat{BM} = 2 \times 50^\circ = 100^\circ$$

$$\hat{M} = \frac{\widehat{AM}}{2} \Rightarrow \hat{M} = \frac{180^\circ - 100^\circ}{2} = \frac{80^\circ}{2} = 40^\circ$$

گزینه ۴ - ۵۶

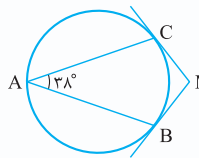


$$\begin{aligned} \widehat{AB} &= 180^\circ - \hat{D} \\ &= 180^\circ - 50^\circ = 130^\circ \\ AB &= AC \\ \Rightarrow \widehat{AC} &= \widehat{AB} = 130^\circ \end{aligned}$$

$$\widehat{AB} + \widehat{AC} + \widehat{BC} = 360^\circ \Rightarrow \widehat{BC} = 360^\circ - 2 \times 130^\circ = 100^\circ$$

$$\hat{A} = \frac{\widehat{BC}}{2} = \frac{100^\circ}{2} = 50^\circ$$

گزینه ۴ - ۵۷

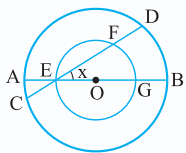


$$\hat{A} = \frac{\widehat{BC}}{2} \Rightarrow \widehat{BC} = 2 \times 38^\circ = 76^\circ$$

$$\hat{M} = 180^\circ - \widehat{BC} = 180^\circ - 76^\circ = 104^\circ$$

گزینه ۴ - ۵۸ بنا به زاویه وترهای متقاطع AB و CD در

$$x = \frac{\widehat{AC} + \widehat{BD}}{2}$$



اما در دایره کوچک بنا به زاویه محاطی داریم:

$$x = \frac{\widehat{GF}}{2} = \frac{180^\circ - \widehat{EF}}{2}$$

پس از تساوی‌های فوق نتیجه می‌شود:

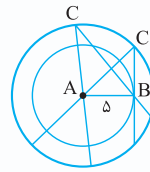
$$\frac{\widehat{AC} + \widehat{BD}}{2} = \frac{180^\circ - \widehat{EF}}{2} \Rightarrow \widehat{BD} = 180^\circ - (\widehat{AC} + \widehat{EF})$$

اما بنا به فرض $\widehat{AC} + \widehat{EF} = 104^\circ$ پس نهایتاً داریم:

$$\widehat{BD} = 180^\circ - 104^\circ = 76^\circ$$

فاصله این وتر تا مرکز دایره وقتی است که BC بر AB عمود باشد،

داریم:

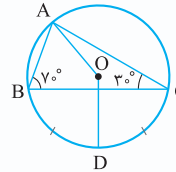


$$\begin{aligned} BC^2 + AB^2 &= AC^2 \\ \Rightarrow BC^2 + 5^2 &= 7^2 \end{aligned}$$

$$\Rightarrow BC^2 = 49 - 25 = 24 \Rightarrow BC = 2\sqrt{6}$$

$$S_{(ABC)} = \frac{1}{2} AB \times BC = \frac{1}{2} \times 5 \times 2\sqrt{6} = 5\sqrt{6}$$

گزینه ۲ - ۵۲



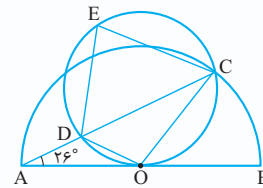
$$\begin{aligned} \hat{A} + \hat{B} + \hat{C} &= 180^\circ \\ \Rightarrow \hat{A} &= 180^\circ - 30^\circ - 70^\circ = 80^\circ \\ \hat{A} = \frac{\widehat{BC}}{2} &\Rightarrow \widehat{BC} = 160^\circ \Rightarrow \widehat{BD} = 80^\circ \end{aligned}$$

$$\hat{C} = \frac{\widehat{AB}}{2} \Rightarrow \widehat{AB} = 2 \times 30^\circ = 60^\circ$$

$$\text{زاویه مرکزی } \hat{AOD} = \widehat{AB} + \widehat{BD} = 60^\circ + 80^\circ = 140^\circ$$

گزینه ۳ - ۵۳ O را به C و D وصل می‌کنیم. زاویه A در

نیم‌دایره، محاطی است، پس داریم:



$$\begin{aligned} \hat{A} &= \frac{\widehat{BC}}{2} \\ \Rightarrow \widehat{BC} &= 2 \times 26^\circ = 52^\circ \\ \Rightarrow \hat{B} &= 52^\circ \end{aligned}$$

اما زاویه BOC در دایره، زاویه ظلی است، پس می‌توان نوشت:

$$\hat{B} = \frac{\widehat{OC}}{2} \Rightarrow \widehat{OC} = 52^\circ \times 2 = 104^\circ$$

بنا به زاویه بین امتداد وتر و مماس بر دایره داریم:

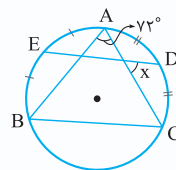
$$\hat{A} = \frac{\widehat{OC} - \widehat{OD}}{2} \Rightarrow 26^\circ \times 2 = 104^\circ - \widehat{OD}$$

$$\Rightarrow \widehat{OD} = 104^\circ - 52^\circ = 52^\circ$$

و نهایتاً اندازه زاویه محاطی E برابر است با:

$$\hat{E} = \frac{\widehat{COD}}{2} = \frac{\widehat{OD} + \widehat{OC}}{2} = \frac{52^\circ + 104^\circ}{2} = 26^\circ + 52^\circ = 78^\circ$$

گزینه ۴ - ۵۴



$$\begin{aligned} x &= \frac{\widehat{CD} + \widehat{AE}}{2} \\ &= \frac{\widehat{AC} + \widehat{AB}}{2} = \frac{\widehat{AC} + \widehat{AB}}{4} \end{aligned}$$



گزینه ۵۹ چون دو دایره مساوی‌اند. کمان کوچک \widehat{AD} در هر دو دایره هم‌اندازه است، پس $\hat{B} = \hat{C} = \frac{\widehat{AD}}{2}$ یعنی مثلث ABC متساوی‌الساقین است. با رسم ارتفاع AH داریم:

$$\widehat{AD} = 90^\circ - 40^\circ = 50^\circ$$

$$\widehat{ABC} = \alpha = \frac{180^\circ + \widehat{AD}}{2}$$

$$= \frac{180^\circ + 50^\circ}{2} = 115^\circ$$

گزینه ۶۳

$$\widehat{AC} = 90^\circ - \hat{D} = 90^\circ - 2\alpha$$

$$\hat{B} = \frac{\widehat{AC}}{2} = 45^\circ - \alpha$$

$\Delta BDE: x + \alpha + 45^\circ - \alpha = 180^\circ \Rightarrow x = 135^\circ$

گزینه ۶۴

$$\widehat{BED} = 2\alpha$$

$$\Rightarrow 2\widehat{CD} = 2\alpha \Rightarrow \widehat{CD} = \alpha$$

$$\widehat{BC} = 36^\circ - 2\alpha - \alpha = 36^\circ - 3\alpha$$

$$\hat{A} = \frac{\widehat{BED} - \widehat{BC}}{2}$$

$$\Rightarrow 50^\circ = \frac{2\alpha - (36^\circ - 3\alpha)}{2}$$

$$\Rightarrow 5\alpha = 46^\circ \Rightarrow \alpha = 9.2^\circ$$

گزینه ۶۰ زاویه A محاطی است، پس $\widehat{BC} = 2\hat{A} = 80^\circ$ و $\widehat{BOC} = 80^\circ$ و $\widehat{EOF} = 80^\circ$ داریم:

$$\widehat{BEC} + \widehat{BFC} = \hat{A} + \widehat{EOF}$$

$$\Rightarrow \widehat{BEC} + \widehat{BFC} = 40^\circ + 80^\circ = 120^\circ$$

برای اثبات تساوی فوق کافی است O را به A وصل کنیم و از زاویه خارجی در مثلث استفاده کنیم.

گزینه ۶۵ قطر شامل DS بر وتر AC عمود است، پس AC و کمان نظیر آن را نصف می‌کند. ($\widehat{AD} = \widehat{CD}$)

$$\widehat{AD} + \widehat{CD} + \widehat{BC} = 180^\circ$$

$$\Rightarrow 2\widehat{AD} + 40^\circ = 180^\circ$$

$$\Rightarrow \widehat{AD} = 70^\circ$$

$$\widehat{BEC} = \frac{\widehat{BC} + \widehat{AD}}{2} = \frac{40^\circ + 70^\circ}{2} = 55^\circ$$

یادآوری در هر چهارضلعی محدب، مجموع دو زاویه مقابل برابر مجموع دو زاویه خارجی دیگر است.

$$\Rightarrow a + b = x + y$$

گزینه ۶۶

$$\widehat{BCD} = \frac{\widehat{AB} + \widehat{AE} + \widehat{DE}}{2}$$

$$\Rightarrow 100^\circ = \frac{\widehat{AB} + 4x + x}{2}$$

$$\Rightarrow \widehat{AB} = 200^\circ - 5x$$

$$\hat{M} = \frac{\widehat{AB} - \widehat{DE}}{2} \Rightarrow x = \frac{200^\circ - 5x - x}{2} \Rightarrow 8x = 200^\circ$$

$$\Rightarrow x = 25^\circ$$

گزینه ۶۱ فرض کنیم $AF = x$ بنا به وترهای موازی نتیجه می‌شود $DE = BC = AF = x$.

مفروضات مسئله روی شکل آورده شده است، داریم:

$$x + 6^\circ + x + 4^\circ + x + 11^\circ = 36^\circ$$

$$\Rightarrow 3x = 15^\circ \Rightarrow x = 5^\circ$$

$$\widehat{FCD} = \frac{\widehat{DF}}{2} = \frac{\widehat{DE} + \widehat{EF}}{2} = \frac{x + 11^\circ}{2}$$

$$= \frac{5^\circ + 11^\circ}{2} = \frac{16^\circ}{2} = 8^\circ$$

گزینه ۶۷ مماس مشترک دو دایره را در نقطه C رسم می‌کنیم. در نقطه C دو زاویه ظلی پدید می‌آید که هر کدام با زوایای

نکته کلیدی MC بر دایره مماس و AB قطر دایره است. با فرض $\hat{M} = \alpha$ داریم:

$$\widehat{BC} = 90^\circ - \alpha, \widehat{AC} = 90^\circ + \alpha$$

دایره

$$\left. \begin{aligned} \widehat{BE} &= 118^\circ - \hat{A} = 118^\circ - 100^\circ = 18^\circ \\ \widehat{CD} &= 118^\circ - \hat{F} = 118^\circ - 4^\circ = 114^\circ \end{aligned} \right\}$$

$$\rightarrow \widehat{BE} + \widehat{CD} = 22^\circ$$

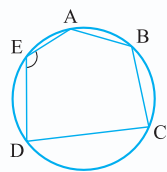
$$\widehat{DE} + \widehat{BC} = 36^\circ - (\widehat{BE} + \widehat{CD}) = 36^\circ - 22^\circ = 14^\circ$$

$$x = \frac{\widehat{DE} + \widehat{BC}}{2} = \frac{14^\circ}{2} = 7^\circ$$

۷۱- گزینه ۲

نکته کلیدی در دایره به شعاع R اگر اندازه وتر AB برابر R یا $R\sqrt{2}$ یا $R\sqrt{3}$ باشد، آن گاه اندازه کمان \widehat{AB} به ترتیب برابر 60° یا 90° یا 120° است و برعکس.

با توجه به نکته فوق و فرض $BC = R\sqrt{2}$ ، $AB = R$ و $\widehat{BC} = 90^\circ$ ، $\widehat{AB} = 60^\circ$ نتیجه می‌شود: $\widehat{CD} = R\sqrt{3}$ و

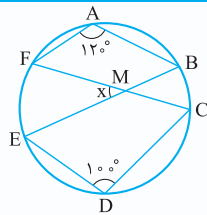


و $\widehat{CD} = 120^\circ$ و نهایتاً داریم:

$$\hat{E} = \frac{\widehat{ABD}}{2} = \frac{\widehat{AB} + \widehat{BC} + \widehat{CD}}{2}$$

$$= \frac{60^\circ + 90^\circ + 120^\circ}{2} = \frac{270^\circ}{2} = 135^\circ$$

۷۲- گزینه ۱



$$\hat{A} = \frac{\widehat{BDF}}{2} = \frac{\widehat{CDE} + \widehat{BC} + \widehat{EF}}{2}$$

$$\Rightarrow \widehat{CDE} + \widehat{BC} + \widehat{EF} = 2 \times 120^\circ = 240^\circ$$

$$\hat{D} = \frac{\widehat{EAC}}{2} = \frac{\widehat{BAF} + \widehat{BC} + \widehat{EF}}{2}$$

$$\Rightarrow \widehat{BAF} + \widehat{BC} + \widehat{EF} = 2 \times 100^\circ = 200^\circ$$

از جمع دو تساوی فوق داریم:

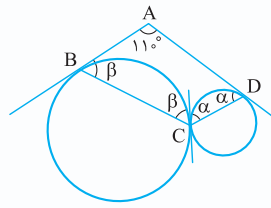
$$\widehat{CDE} + \widehat{BAF} + 2(\widehat{BC} + \widehat{EF}) = 440^\circ$$

$$\Rightarrow 360^\circ - (\widehat{BC} + \widehat{EF}) + 2(\widehat{BC} + \widehat{EF}) = 440^\circ$$

$$\Rightarrow \widehat{BC} + \widehat{EF} = 440^\circ - 360^\circ = 80^\circ$$

$$\Rightarrow x = \frac{\widehat{BC} + \widehat{EF}}{2} = \frac{80^\circ}{2} = 40^\circ$$

ظلی \hat{B} و \hat{D} برابرند، زیرا کمان‌های روبه‌رو به آن‌ها یکسان است. در چهارضلعی ABCD داریم:



$$\alpha + \beta + \alpha + \beta + 110^\circ = 360^\circ$$

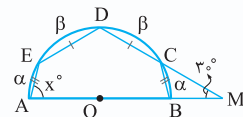
$$\Rightarrow 2(\alpha + \beta) = 250^\circ$$

$$\Rightarrow \hat{BCD} = 125^\circ$$

$$\Rightarrow \alpha + \beta = 125^\circ$$

۶۸- گزینه ۲

کمان‌های نظیر وترهای مساوی برابرند، پس $\widehat{DE} = \widehat{CD} = \beta$ و $\widehat{AE} = \widehat{BC} = \alpha$ داریم:



$$\hat{A} = \frac{\alpha + 2\beta}{2}$$

$$\Rightarrow x = \frac{\alpha + 2\beta}{2}$$

$$\hat{M} = \frac{\widehat{AED} - \widehat{BC}}{2} \Rightarrow 30^\circ = \frac{\alpha + \beta - \alpha}{2} \Rightarrow \beta = 60^\circ$$

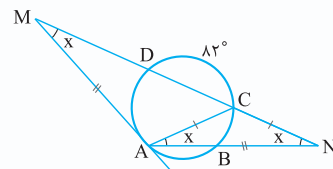
$$\alpha + \beta + \beta + \alpha = 180^\circ \Rightarrow 2\alpha + 120^\circ = 180^\circ$$

$$\Rightarrow 2\alpha = 60^\circ \Rightarrow \alpha = 30^\circ$$

$$x = \frac{2\beta + \alpha}{2} = \frac{120^\circ + 30^\circ}{2} = 75^\circ$$

۶۹- گزینه ۱

فرض کنیم $\hat{M} = x$ با توجه به $AM = AN$ داریم:



$$\hat{N} = x$$

داریم:

در مثلث متساوی‌الساقین ACN نتیجه می‌شود $\hat{NAC} = x$ داریم:

$$\hat{NAC} = x \Rightarrow \hat{BAC} = x \Rightarrow \frac{\widehat{BC}}{2} = x \Rightarrow \widehat{BC} = 2x$$

$$\hat{N} = \frac{\widehat{AD} - \widehat{BC}}{2} \Rightarrow x = \frac{\widehat{AD} - 2x}{2} \Rightarrow \widehat{AD} = 4x$$

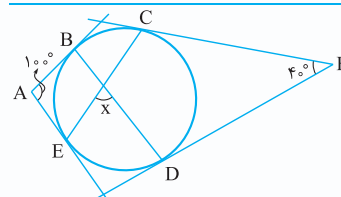
$$\hat{M} = \frac{\widehat{ABC} - \widehat{AD}}{2} \Rightarrow x = \frac{\widehat{AB} + \widehat{BC} - \widehat{AD}}{2}$$

$$\Rightarrow x = \frac{\widehat{AB} + 2x - 4x}{2} \Rightarrow \widehat{AB} = 4x$$

$$\widehat{AB} + \widehat{BC} + \widehat{CD} + \widehat{AD} = 360^\circ \Rightarrow 4x + 2x + 82^\circ + 4x = 360^\circ$$

$$\Rightarrow 10x = 360^\circ - 82^\circ = 278 \Rightarrow x = 27.8^\circ$$

۷۰- گزینه ۱

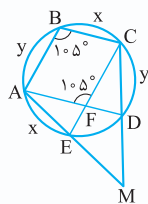




گزینه ۲۷

$$AB \parallel CE \Rightarrow \widehat{BC} = \widehat{AE} = x$$

$$BC \parallel AD \Rightarrow \widehat{AB} = \widehat{CD} = y$$



$ABCF \Rightarrow \widehat{ABC} = \widehat{AFC} = 105^\circ$ متوازی الاضلاع است.

$$\Rightarrow \frac{\widehat{AEC}}{2} = 105^\circ \Rightarrow \widehat{AEC} = 210^\circ$$

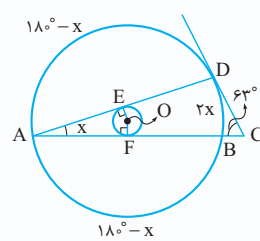
$$\widehat{ABC} = 360^\circ - \widehat{AEC} = 360^\circ - 210^\circ = 150^\circ \Rightarrow x + y = 150^\circ$$

$$\widehat{M} = \frac{\widehat{ABC} - \widehat{DE}}{2} = \frac{x + y - (360^\circ - x - y - x - y)}{2}$$

$$= \frac{2(x + y) - 360^\circ}{2} = \frac{450^\circ - 360^\circ}{2} = \frac{90^\circ}{2} = 45^\circ$$

گزینه ۲۴

چون $OE = OF$ (شعاع‌های دایره کوچک)، پس مرکز دایره بزرگ از دو وتر AB و AD به یک فاصله است، لذا



طول این دو وتر و در نتیجه کمان‌های نظیر آن‌ها برابرند $(\widehat{AB} = \widehat{AD}, AB = AD)$.

با فرض $\hat{A} = x$ و خاصیت زاویه محاطی، $\widehat{BD} = 2x$ می‌شود، در

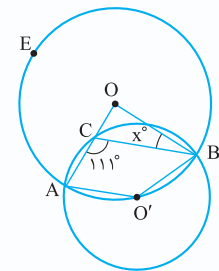
نتیجه $\widehat{AD} = \widehat{AB} = \frac{360^\circ - 2x}{2} = 180^\circ - x$ و داریم:

$$\hat{C} = \frac{\widehat{AD} - \widehat{BD}}{2} \Rightarrow 63^\circ = \frac{180^\circ - x - 2x}{2}$$

$$\Rightarrow 180^\circ - 3x = 126^\circ \Rightarrow 3x = 54^\circ \Rightarrow x = 18^\circ$$

گزینه ۲۵

نقطه O' را به A و B وصل می‌کنیم. زاویه $\hat{ACB} = 111^\circ$ در دایره کوچک محاطی است، پس:



$$\hat{ACB} = \frac{\widehat{AB}}{2}$$

$$\Rightarrow \widehat{AB} = 2 \times 111^\circ = 222^\circ$$

$$\Rightarrow \widehat{ACB} = 360^\circ - 222^\circ = 138^\circ$$

$$\xrightarrow{\text{زاویه مرکزی}} \widehat{AO'B} = 138^\circ$$

از طرفی $\widehat{AO'B}$ در دایره بزرگ محاطی است، پس:

$$\widehat{AO'B} = \frac{\widehat{AEB}}{2} \Rightarrow \widehat{AEB} = 2 \times 138^\circ = 276^\circ$$

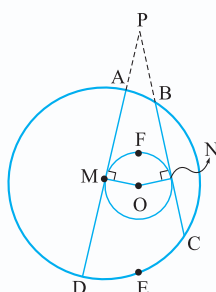
$$\Rightarrow \widehat{AO'B} = 360^\circ - 276^\circ = 84^\circ \xrightarrow{\text{زاویه مرکزی}} \widehat{AOB} = 84^\circ$$

و نهایتاً به کمک زاویه خارجی در مثلث BOC داریم:

$$\hat{ACB} = \hat{AOB} + \hat{OBC} \Rightarrow 111^\circ = 84^\circ + x \Rightarrow x = 27^\circ$$

گزینه ۲۶ نقطه تلاقی امتداد وترهای BC و AD را P

می‌نامیم و داریم:



$$\widehat{MFN} = 154^\circ \Rightarrow \widehat{MON} = 154^\circ$$

$$\hat{P} = 180^\circ - \widehat{MON}$$

$$= 180^\circ - 154^\circ = 26^\circ$$

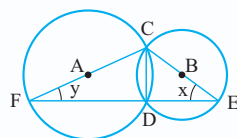
$$\hat{P} = \frac{\widehat{CED} - \widehat{AB}}{2}$$

$$\Rightarrow 26^\circ = \frac{70^\circ - \widehat{AB}}{2}$$

$$\Rightarrow \widehat{AB} = 70^\circ - 52^\circ = 18^\circ$$

گزینه ۲۷ قطر دایره کوچک، پس $\hat{CDE} = 90^\circ$ با

استدلال مشابه داریم: $\hat{CDF} = 90^\circ$ پس DE و DF روی یک



امتدادند، بنا به فرض $\hat{ACB} = 15^\circ$ در نتیجه در مثلث CEF اندازه یک

زاویه آن $\hat{FCE} = 15^\circ$ است.

با فرض $\hat{E} = x$ و $\hat{F} = y$ اندازه مجموع کمان‌های CD در دو

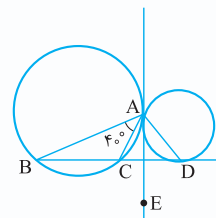
دایره $2x + 2y$ است و داریم: $x + y = 180^\circ - 15^\circ = 3^\circ$

اندازه مجموع کمان‌های $CD = 2(x + y) = 2 \times 3^\circ = 6^\circ$

گزینه ۲۸ در نقطه A

مماس مشترک دو دایره را رسم

می‌کنیم:



$$(\hat{CAE} = \frac{\widehat{AC}}{2}, \hat{B} = \frac{\widehat{AC}}{2}) \Rightarrow \hat{CAE} = \hat{B} \quad (1)$$

$$(\hat{DAE} = \frac{\widehat{AD}}{2}, \hat{D} = \frac{\widehat{AD}}{2}) \Rightarrow \hat{DAE} = \hat{D} \quad (2)$$

$$\triangle ABD: \hat{B} + \hat{D} + \hat{BAD} = 180^\circ \xrightarrow{(1), (2)}$$

$$\underbrace{\hat{CAE} + \hat{DAE}}_{\hat{CAD}} + 4^\circ + \hat{CAD} = 180^\circ$$

$$\Rightarrow 2\hat{CAD} = 14^\circ \Rightarrow \hat{CAD} = 7^\circ$$

دایره

$$\left. \begin{aligned} (\widehat{B}_1 = \frac{\widehat{AB}}{2}, \widehat{D}_\gamma = \frac{\widehat{AB}}{2}) &\Rightarrow \widehat{B}_1 = \widehat{D}_\gamma \\ (\widehat{C}_1 = \frac{\widehat{AC}}{2}, \widehat{D}_\gamma = \frac{\widehat{AC}}{2}) &\Rightarrow \widehat{C}_1 = \widehat{D}_\gamma \end{aligned} \right\} \\ \Rightarrow \widehat{B}_1 + \widehat{C}_1 = \widehat{D}_1 + \widehat{D}_\gamma = \widehat{BDC} \quad (1)$$

اما در مثلث‌های BMC و BDC داریم:

$$\widehat{BMC} + \widehat{B}_1 + \widehat{C}_1 = 180^\circ \Rightarrow \widehat{B}_1 + \widehat{C}_1 = 180^\circ - \widehat{BMC} \quad (2)$$

$$\widehat{BDC} + \widehat{B}_\gamma + \widehat{C}_\gamma = 180^\circ \Rightarrow \widehat{BDC} = 180^\circ - \widehat{B}_\gamma - \widehat{C}_\gamma \quad (3)$$

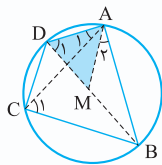
$$(1), (2), (3) \Rightarrow 180^\circ - \widehat{BMC} = 180^\circ - \widehat{B}_\gamma - \widehat{C}_\gamma$$

$$\Rightarrow \widehat{BMC} = \widehat{B}_\gamma + \widehat{C}_\gamma = \frac{\widehat{AED}}{2} + \frac{\widehat{AFD}}{2}$$

کمان‌های AED و AFD دارای مقدار ثابتی هستند، زیرا دو دایره معلوم‌اند. بنابراین اندازه زاویه BMC با تغییر قاطع در نقطه A همواره ثابت می‌ماند.

۸۲- گزینه ۱

$$\left. \begin{aligned} (\widehat{D}_1 = \frac{\widehat{AB}}{2}, \widehat{C}_1 = \frac{\widehat{AB}}{2}) &\Rightarrow \widehat{D}_1 = \widehat{C}_1 \\ (\widehat{A}_1 = \widehat{A}_\gamma \Rightarrow \widehat{A}_1 + \widehat{CAM} = \widehat{CAM} + \widehat{A}_\gamma) & \\ \Rightarrow \widehat{DAM} = \widehat{CAB} & \end{aligned} \right\}$$

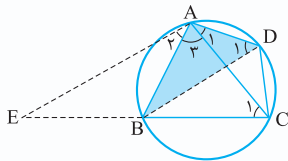


$$\Rightarrow \triangle ADM \sim \triangle ACB$$

$$\Rightarrow \frac{AD}{AC} = \frac{DM}{BC} \Rightarrow AD \cdot BC = AC \cdot DM$$

۸۳- گزینه ۱

$$\left. \begin{aligned} (\widehat{D}_1 = \frac{\widehat{AB}}{2}, \widehat{C}_1 = \frac{\widehat{AB}}{2}) &\Rightarrow \widehat{D}_1 = \widehat{C}_1 \\ (\widehat{A}_1 = \widehat{A}_\gamma \Rightarrow \widehat{A}_1 + \widehat{A}_\gamma = \widehat{A}_\gamma + \widehat{A}_\gamma \Rightarrow \widehat{BAD} = \widehat{EAC}) & \end{aligned} \right\}$$



$$\triangle ABD \sim \triangle AEC$$

$$\Rightarrow \frac{BD}{CE} = \frac{AD}{AC}$$

$$\Rightarrow BD \cdot AC = AD \cdot CE$$

۸۴- گزینه ۲

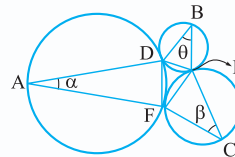
وتر BC را رسم می‌کنیم دو زاویه \widehat{B}_γ و \widehat{B}_1 محاطی و روبه‌رو به کمان‌های مساوی CE و AE هستند، پس $\widehat{B}_1 = \widehat{B}_\gamma$ و داریم:

$$(\widehat{E} = \frac{\widehat{BC}}{2}, \widehat{A} = \frac{\widehat{BC}}{2}) \Rightarrow \widehat{E} = \widehat{A}$$

$$(\widehat{E} = \widehat{A}, \widehat{B}_1 = \widehat{B}_\gamma) \Rightarrow \triangle BCE \sim \triangle BDA \Rightarrow \frac{CE}{AD} = \frac{BE}{AB}$$

۷۹- گزینه ۲

فرض کنید در نقطه D مماس مشترک دو دایره را رسم کنیم، در این صورت در این نقطه دو زاویه ظلی پدید می‌آید که یکی در دایره بزرگ‌تر با زاویه محاطی به اندازه α برابر است و دیگری با زاویه محاطی θ در دایره کوچک‌تر برابر است، یعنی $\widehat{FDE} = \alpha + \theta$. با استدلال مشابه داریم: $\widehat{DFE} = \alpha + \beta$ و $\widehat{DEF} = \theta + \beta$ و داریم: $\widehat{DEF}: \widehat{FDE} + \widehat{DFE} + \widehat{DEF} = 180^\circ$

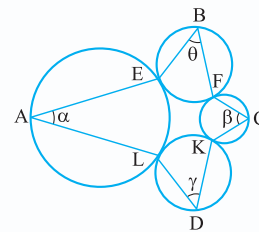


$$\Rightarrow \alpha + \theta + \alpha + \beta + \theta + \beta = 180^\circ$$

$$\Rightarrow \alpha + \beta + \theta = 90^\circ$$

نکته

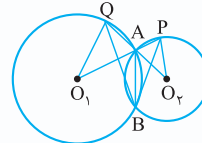
اگر چهار دایره مطابق شکل روبه‌رو دو به دو بر هم مماس باشند، آن گاه داریم:



$$\alpha + \beta + \theta + \gamma = 180^\circ$$

۸۰- گزینه ۳

وتر مشترک AB و شعاع‌های O_1P و O_1Q را رسم می‌کنیم، فرض کنیم $\widehat{ABP} = y$ و $\widehat{ABQ} = x$ بنا به زاویه محاطی و مرکزی داریم:



$$\widehat{AO_1Q} = \widehat{AQ} = 2\widehat{ABQ} = 2x$$

$$\widehat{AO_2P} = \widehat{AP} = 2\widehat{ABP} = 2y$$

در مثلث‌های متساوی‌الساقین AO_1Q و AO_2P می‌توان نوشت:

$$\left. \begin{aligned} \widehat{O_1AQ} &= \frac{180^\circ - \widehat{AO_1Q}}{2} = \frac{180^\circ - 2x}{2} = 90^\circ - x \\ \widehat{O_2AP} &= \frac{180^\circ - \widehat{AO_2P}}{2} = \frac{180^\circ - 2y}{2} = 90^\circ - y \end{aligned} \right\}$$

$$\xrightarrow{+} \widehat{O_1AQ} + \widehat{O_2AP} = 180^\circ - x - y$$

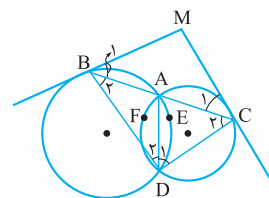
$$\widehat{O_1AQ} + \widehat{O_2AP} + \widehat{PAQ} + \widehat{O_1AO_2} = 360^\circ$$

$$\xrightarrow{\widehat{O_1AO_2} = \widehat{PAQ} = 110^\circ} 180^\circ - x - y + 110^\circ + 110^\circ = 360^\circ$$

$$\Rightarrow x + y = 220^\circ - 180^\circ = 40^\circ \Rightarrow \widehat{PBQ} = 40^\circ$$

۸۱- گزینه ۴

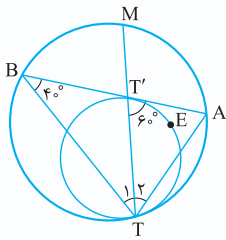
وتر مشترک AD و پاره‌خط‌های BD و CD را رسم می‌کنیم، داریم:



دایره

از طرفی در دایره بزرگ \hat{B} زاویه محاطی است، پس:

$$\hat{B} = \frac{\widehat{AT}}{2} = \frac{8^\circ}{2} = 4^\circ$$



در نتیجه بنا به زاویه خارجی $T_1 = 2^\circ$ و

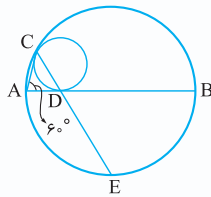
$$\hat{T}_1 = 2^\circ \text{ می شود و نهایتاً داریم:}$$

$$\hat{T}_1 = 2^\circ \Rightarrow \frac{\widehat{AM}}{2} = 2^\circ$$

$$\Rightarrow \widehat{AM} = 4^\circ$$

گزینه ۴ - امتداد CD از وسط کمان AB می گذرد (به پرسش

۹۰ رجوع شود)؛ در نتیجه اندازه زاویه محاطی \hat{C} برابر است با:



$$\hat{C} = \frac{\widehat{AB}}{2} = \frac{9^\circ}{2} = 4.5^\circ \text{ و نهایتاً داریم:}$$

$$\hat{BDC} = \hat{A} + \hat{C}$$

$$= 6^\circ + 4.5^\circ = 10.5^\circ$$

گزینه ۲ - ۹۰ در پرسش (۹۰) ثابت کردیم TM نیمساز زاویه

ATB است، پس امتداد TM قطعاً از وسط کمان AB یعنی نقطه

C می گذرد. همچنین TN نیمساز زاویه CTD است، پس امتداد

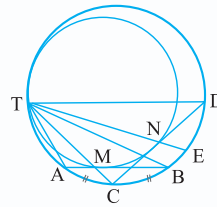
TN از وسط کمان CD یعنی نقطه E می گذرد و داریم:

$$\widehat{MTN} = \widehat{CTE} = \frac{\widehat{CE}}{2} = \frac{\widehat{CD}}{4} = \frac{\widehat{BC} + \widehat{BD}}{4}$$

اما بنا به فرض $\widehat{BD} = 6^\circ$ و $\widehat{BC} = 3^\circ$ است، در نتیجه:

$$\widehat{MTN} = \frac{3^\circ + 6^\circ}{4}$$

$$= \frac{9^\circ}{4} = 2.25^\circ$$



گزینه ۴ - ۹۱ در پرسش (۹۰) ثابت کردیم TT' نیمساز

زاویه \hat{ATB} است، پس امتداد TT' از وسط کمان AB می گذرد، یعنی

نقطه M وسط کمان AB است. اما در دایره کوچک زاویه $\hat{AT'T}$ ظلی

$$\hat{AT'T} = \frac{\widehat{TET'}}{2} = \frac{12^\circ}{2} = 6^\circ$$

است، پس: